

1. SINIF



TÜRKÇE

Okuduğunu Anlama

Masal

Fıkra

Hikaye Yazma

Dikkat ve Zeka

Cümle Tamamlama

Yanlış Yazılan Kelimeler

Kelime Türetme

Mini Test

HAYAT BİLGİSİ

Tüm Temaları İçeren:

- **Doğru mu? Yanlış mı?**
- **Bulmaca**
- **Mini Test**

MATEMATİK

Problem Çözme

İşlem Becerisi

Ritmik Sayma

Eşini Bulma

Mini Test

35. HAFTA

Karne Hediye

Heyecanla başladığım birinci sınıf bitiyor. Cuma günü karne alacağım. Bu karne benim için daha heyecanlı çünkü ikinci sınıfa geçmiş olacağım.

Karnem için babam ne hediye istediğimi sordu. Annem hediyemin sürpriz olmasını söyledi. Hangisi iyi olurdu? Benim istediğim bir hediye mi? Yoksa sürpriz bir hediye mi? Aklım karıştı. Abim Mert de sürpriz olmasının daha heyecanlı olduğunu kulağıma fısıldadı. Abim bu yıl ortaokulu bitirecek. . Benden daha deneyimli olduğu için onu dinledim ve sürpriz hediye seçtim. Hediyeenden daha çok karnemi merak ettiğimi söylemeliyim.

Aşağıdaki soruları metine göre cevaplayalım.

1. Metindeki çocuk ne zaman karne alacak?

.....

2. Cuma günü alacağı karne çocuk için neden daha önemli?

.....

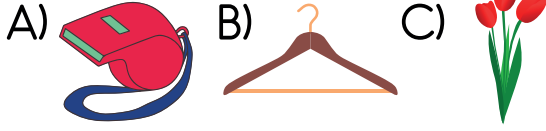
3. Çocuğun hediye ile ilgili neden aklı karışıyor?

.....

4. Çocuğun kararsızlığına kim yardımcı oluyor?

.....

1- Aşağıdakilerden hangisi
ünlü harf ile başlar?



2- Aşağıdakilerden hangisi
alfabemizde olmayan bir
harftir?

A) f B) ç C) w

3- Hangi görselin adı iki
hecedir?



4- Hangisi bir cümle değildir?

A) Ceren okula gitti
B) Hamit parka
C) Okudum

5- Hangisi eş anlamı olan bir
kelimedir?

A) kara B) göz C) zil

Melis 4.üncü katta
1 2 3
oturuyor.

6- Yukarıdaki cümlede altı
çizili hangi sözcüğün
yazımında yanlışlık yapılmıştır?

A) 1 B) 2 C) 3

7- Aşağıdakilerden hangisi
noktalama işaretidir?

A) ✕ B) + C) !

8- Hangi sözcük sözlükte
diğerlerinden önce gelir?

A) masa
B) müzik
C) makas

9- Aşağıdaki hangi kelimenin
yazımı doğrudur?

A) tren
B) sipor
C) herkez

Aşağıdaki cümleleri verilen kelimelerden uygun olanı ile tamamlayalım.



Dedem bana aldı.

- a) göl b) dondurma c) gezmek



Bahçemizde ağacı var.

- a) defter b) çilek c) şeftali



Selin sabahları odasını

- a) toplar b) yapar c) ekmek



..... olduğunda yıldızlar çıkar.

- a) güneş b) gece c) sabah



Güzide yeni aldığı okudu.



- a) kitabı b) telefonu c) gitarı



Canan okulda çok eğlendiğini

- a) topladı b) açtı c) söyledi

Aşağıdaki kavanozlarda yazılan sözcüklerin bazıları yanlış yazılmıştır. Yanlış yazılan sözcükleri bulalım ve maviye boyayalım.



Aşağıdaki tabloda ortada yer alan heceleri, bir kelimenin son hecesi diğer kelimenin ise ilk hecesi olacak şekilde örnekteki gibi tamamlayalım.



DA	YI	LAN
	BA	
	RAN	
	ME	
	BÜL	
	KE	
	YA	
	BAK	
	GE	
	TA	
	MEK	
	SA	
	ÇI	
	TER	
	PA	
	AT	
	CA	



Aşağıdaki tabloda ortada yer alan heceleri, bir kelimenin son hecesi diğer kelimenin ise ilk hecesi olacak şekilde örnekteki gibi tamamlayalım.



DA	YI	LAN
SO	BA	BA
HAZİ	RAN	RA
ÇİZ	ME	RAK
SÜM	BÜL	BÜL
TENE	KE	REVİZ
KA	YA	KA
KA	BAK	KAL
BİL	GE	LİN
BAL	TA	TİL
EK	MEK	TUP
MA	SA	YI
KE	Çİ	ÇEK
DEF	TER	LİK
KU	PA	RA
SA	AT	KI
HO	CA	Mİ



Tarla Faresi ile Şehir Faresi

Bir zamanlar uzak bir şehirde güzel mi güzel bir şehir faresi yaşarmış. Yalnızlıktan sıkılan şehir faresi, arkadaş aramaya çıkmış. Bir tarlada rastladığı tarla faresi ile arkadaş olmuş. İkisi birbirlerini çok sevmişler. Aralarında güzel bir dostluk kurulmuş. Şehir faresi sık sık tarla faresini ziyaret edermiş. Birlikte kırlarda güle oynaya vakit geçirirlermiş. Diledikleri kadar koşar, zıplar, yuvarlanırlarmış.

Bir gün şehir faresi arkadaşını yemeğe davet etmiş.

-Bu akşam bize gel. Sana güzel bir sofraya hazırlayayım.

Azıcık miden bayram etsin, demiş.

Bu davete tarla faresi çok sevinmiş. Yiyeceği yemeklerin hayalini kurmaya başlamış. Bütün gece rüyasında peynirler, tatlılar, pastalar görmüş. Bu arada şehir faresinin evinde bir



telaş bir telaş... Çeşit çeşit yiyecekler, pastalar hazırlanmış. Bütün gün koşturup durmuş. Akşam tarla faresi kalkıp gelmiş. Bakmış, masanın üzeri çeşit çeşit yiyeceklerle dolu. Masada hiçbir şey eksik değilmiş. Hemen sofraya oturmuşlar. Ziyafet neşeli başlamış. Tarla faresi önce pastadan bir lokma alacaktı. Tam çatalını uzatmış, dışarıdan sesler gelmiş.

Şehir faresi hemen deliğine kaçmış. Ardından da tarla faresi kendini zor atmış deliğe. Korkudan kalpleri küt küt atıyormuş.

Tarla faresi sormuş:

- Evin kedisi olabilir mi?

Şehir faresi cevap vermiş:

- Sanırım onun gürültüsüydü.



Yeniden sofraya oturmuşlar. Ama artık neşeleri kaçmış, te-
dirgin olmuşlar. Tarla faresi bu kez çatalını böreğe uzatmış. Tam
lokmayı ağzına atacakmış, yine sesler işitmişler. Apar topar ikisi de
kendilerini deliğe atmış. Yüzleri korkudan sapsarı olmuş. Korku-
dan tir tir titriyorlarmış.

Tarla faresi sormuş:

- Evin hanımı olabilir mi?

Şehir faresi cevaplamış:

- Belki odur bilemem.

Sesler kesilince delikten çıkmışlar.

Şehir faresi:

- Kusura bakma. Bazen böyle şeyler oluyor. Haydi yemeği-
mize devam edelim, demiş.

Tarla faresi:


- Bu kadar yeter! Korku içinde yemek istemem, demiş. Yarın
sen bana gel. Kuru ekmek yeriz belki ama kimse de bizi korkutamaz.



LA FONTAINE



Tarla faresi akşam yemeđi için şehir faresine gidecek. Yolu bulmasına yardım eder misin?



Yağmur

Temel, Dursun'a misafirlğe gitmiş. Gece sađanak halde yağmur başlayınca; Dursun konukseverlik göstermiş:


- Temel çok fena yağmur yağıyor, eve gitme, burada kal.

Temel kabul etmiş, ama ansızın ortadan kaybolmuş. Aradan epeyce zaman geçtikten sonra kapı çalmış, bakmışlar kapıda sırlıklam Temel:

- Neredesin Temel merak ettik?
- Eve gidip pijamamı aldım da.



Sen de Bir Fıkra Yazar Mısın?



Verilen harflerle ilgili istenilen kelimeleri bulup tabloya yazalım.

HARF	İSİM	ŞEHİR	BİTKİ	HAYVAN
A				
D				
S				
Y				
E				
M				
O				

Verilen harfleri kullanarak yeni kelimeler türetelim ve tabloya yazalım.

B

U

I

Ş

L

K


A

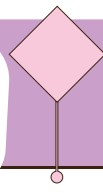
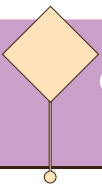
T

Verilen görselliğin isimlerini kullanarak bir hikaye yazalım.
Yazımıza özen gösterelim ve noktalama işaretlerini kullanalım.



Haydi babamıza bir mektup yazalım!





Problem Çözelim

1.
SINIF

Ceren 15 sayfalık öykünün 7 sayfasını okudu. Okuyacağı kaç sayfa kitap kaldı?

Bir çiftlikte 15 koyun, koyunlardan 6 eksik keçi vardır. Koyun ve keçilerin toplamı kaçtır?

1 onluk ve 8 birlikten oluşan sayıdan 7 çıkarılırsa sonuç kaç olur?

2 yıl önce 5 yaşındaydım. 4 yıl sonra kaç yaşında olacağım?

Nil aklından bir sayı tutuyor. Tuttuğu sayıyı 9 ile topladığında toplamı 16 buluyor. Nil'in aklından tuttuğu sayı kaçtır?

Hangi sayının 8 fazlasının 3 eksiği 11'dir?

Bir fırıncı sabah 6, öğlen 7 ekmek sattıyor ve geriye 8 ekmek kalıyor. Fırıncının satmadan önce kaç ekmeği vardı?

Bir sınıfta 12 kız, kızlardan 2 eksik erkek öğrenci vardır. Bu sınıfın mevcudu kaçtır?

Matematik



Aslının kumbarasında 2 tane 5TL, 3 tane 1 TL ve 1 tane de 10TL çıktı. Aslının ne kadar parası vardır?

Bir sürahi 4 bardak su ile doluyor. İki sürahi için kaç bardak suya ihtiyaç vardır?

Bir çıkarma işleminde eksilen 12, çıkan 9 ise, farkın 5 fazlası kaçtır?

21 yumurtanın 5 tanesi ile kek, 3 tanesi ile börek ve 2 tanesi ile omlet yaptık. Geriye kaç yumurta kalır?

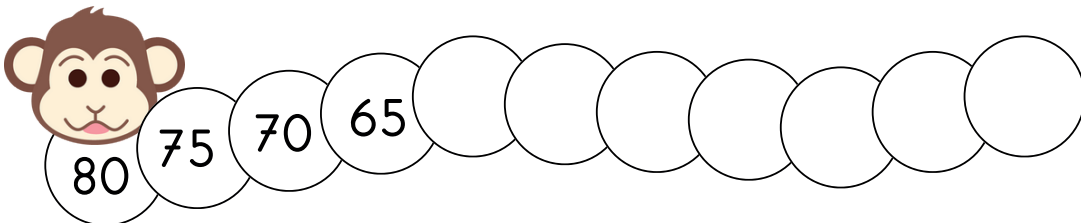
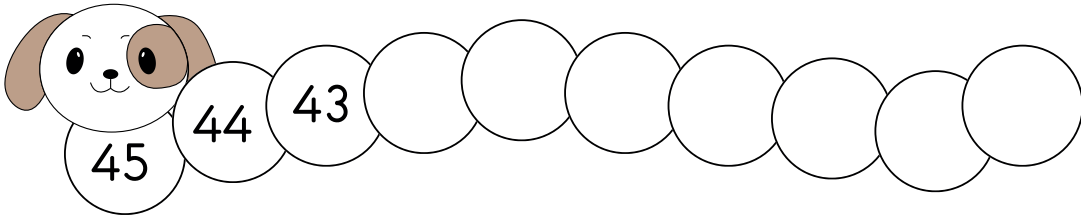
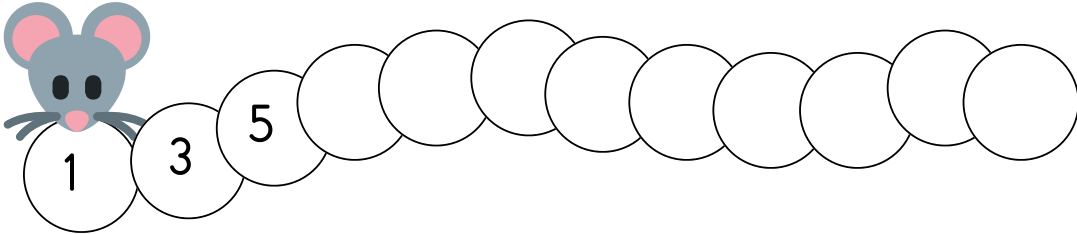
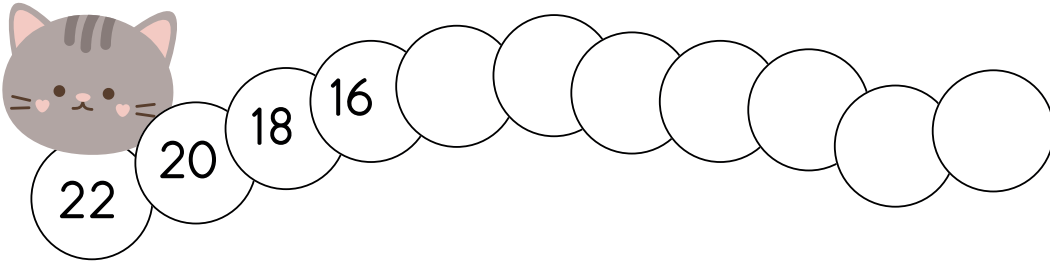
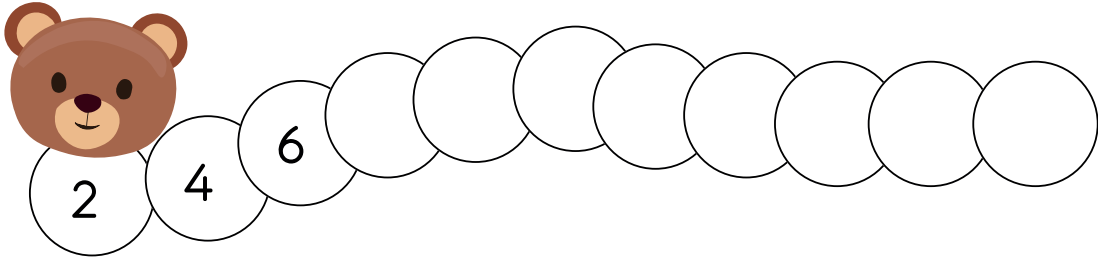
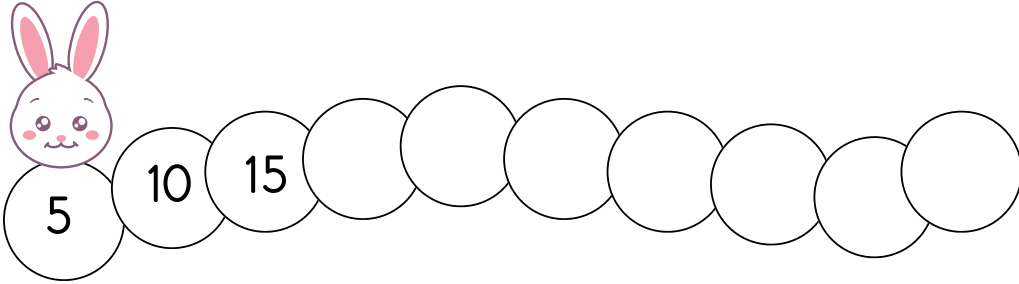
Bahçemizde 6 erik, eriklerden 5 fazla elma ağacı var. Bahçemizde toplam kaç ağaç vardır?

Ben abimden 5 yaş küçüğüm. Kardeşimde benden 3 yaş küçük. Abim 17 yaşında olduğuna göre kardeşimin yaşı kaçtır?

11 elmanın 5 tanesini yediğimizde kaç elma kalır?

Otobüste 15 yolcu vardı. İlk durakta 4 yolcu indi, 3 yolcu bindi. Otobüsteki yolcu sayısı kaç olur?

✿ Aşağıdaki ritmik saymaları devam ettirelim.



❁ Aynı olan dondurmaları aynı renge boyayarak eşleştirelim.



❁ Verilen işlemleri yaparak boş kutulara gelecek sayıları bulalım.



5					-	9	=	
+					=			+
6					7	-	2	=
=		+			+			=
	-	3	=					



	=	
13	-	5
	=	

20	-	10	=			6		16
-				=		=		-
7					-		=	
=								=

9	+		=	
---	---	--	---	--



❁ Aşağıdaki işlemleri yapalım ve şifreyi bulalım

$$\begin{array}{r} 13 \\ + 8 \\ \hline \end{array}$$

L

$$\begin{array}{r} 22 \\ + 5 \\ \hline \end{array}$$

O

$$\begin{array}{r} 13 \\ + 12 \\ \hline \end{array}$$

E

$$\begin{array}{r} 9 \\ + 8 \\ \hline \end{array}$$

O

$$\begin{array}{r} 10 \\ + 5 \\ \hline \end{array}$$

Ç

$$\begin{array}{r} 8 \\ + 6 \\ \hline \end{array}$$

L

$$\begin{array}{r} 11 \\ + 1 \\ \hline \end{array}$$

G

$$\begin{array}{r} 17 \\ + 3 \\ \hline \end{array}$$

K

$$\begin{array}{r} 12 \\ + 6 \\ \hline \end{array}$$

U

$$\begin{array}{r} 11 \\ + 8 \\ \hline \end{array}$$

K

$$\begin{array}{r} 25 \\ + 5 \\ \hline \end{array}$$

Ü

$$\begin{array}{r} 17 \\ + 7 \\ \hline \end{array}$$

Z

17	20	18	21

15	27	19

12	30	24	25	14



1. Aşağıdakilerden hangisi daha ağırdır?

- A)  B)  C) 

2. Hangi sayı diğerlerinden daha büyüktür?

- A) 1 onluk + 5 birlik
B) 2 onluk + 0 birlik
C) 8 birlik + 1 onluk

3. Toplama işlemin sembolü hangisidir?

- A) Eksi B) Artı C) Çarpı

4. Üç kardeşin yaşları sırası ile 3, 5 ve 9'dur. Buna göre üç kardeşin yaşları toplamı kaçtır?

- A) 8 B) 14 C) 17

5. 8 yarım armut kaç bütün armut eder?

- A) 4 B) 16 C) 2

6. " $17-15=?$ " işleminin sonucu ile ilgili hangisi doğrudur?

- A) Sonuç 10'dan büyük olur.
B) Sonuç 1'den 1 fazladır.
C) Sonuç "0"dır.

7. Yılın 6. ayı hangisidir?

- A) Nisan
B) Mayıs
C) Haziran

8. Hangi sayının birliği "3"tür?

- A) 43 B) 38 C) 30

9. Hangisi ile sıvı ölçülebilir?

- A)  B)  C) 

10. İkışer ritmik sayma yaparken hangisi söylenmez?

- A) 10 B) 17 C) 20

❁ Aşağıdaki ifadeleri okuyalım. İfadeleri doğru ve ya yanlış olarak işaretleyelim.

	D	Y
Herkesin dış görünüş özelliği farklı olabilir.		
Farklı özelliği olan kişilerle arkadaş olamayız.		
Yazı tahtası sınıfımıza ait bir eşyadır.		
Sınıf içinde top oynayabiliriz.		
Kırtasiye okulumuzun bölümlerinden biridir.		
Aile içinde iş birliği ve nezaket önemlidir.		
Bize yardım eden birine "Geçmiş olsun" deriz.		
Evimizdeki kaynakları dikkatli kullanmalıyız.		
Annemizin erkek kardeşine amca deriz.		
Adres bilgilerimizde komşumuzun adı yazar.		
Tuvaletten çıkınca ellerimizi yıkamalıyız.		
Sağlıklı olmak için dengeli beslenmeliyiz.		
Süt, peynir, yoğurt bitkisel besindir.		
Günde en az iki kere dişimizi fırçalamalıyız.		
Telefon temizlik araçlarındandır.		
Uçak hava yolu taşıtlarından biridir.		
Tanımadığımız kişilerle bilgilerimizi paylaşmamalıyız.		
Bayrağımız bağımsızlık sembolüdür.		
İstanbul ülkemizin başkentidir.		
Atatürk 1981 yılında Ankara'da doğmuştur.		

❁ Aşağıdaki bulmacada hayat bilgisi dersinde öğrendiğimiz kavramları bulalım.

Y	B	U	B	A	Y	R	A	K	H	S
U	B	K	U	R	B	A	N	H	K	Ü
M	E	M	V	A	P	U	R	H	A	H
U	S	V	Y	Ü	Ü	Y	S	Ü	Y	A
R	L	S	L	P	G	Y	E	S	M	L
T	E	P	G	A	G	Y	L	A	A	A
A	N	L	L	R	L	G	A	B	K	Ü
P	M	S	Ü	K	K	K	N	U	A	Y
T	E	T	K	K	A	A	İ	N	M	G
P	P	T	A	H	T	A	K	L	G	G
S	B	İ	L	G	İ	S	A	Y	A	R
Ö	Z	Ü	R	D	İ	L	E	R	İ	M
S	O	N	B	A	H	A	R	L	G	A

- Atatürk'ün doğum yeri
- Bağımsızlık sembolü
- Babanın kız kardeşi
- Bir sınıf eşyası
- Temel ihtiyaçlardan biri
- Bir mevsim adı
- Kişisel temizlik ürünü
- Dini bir bayram
- Tavuktan elde edilen besin
- Bir deniz taşıtı
- Bir iletişim aracı
- Güvenli bir oyun alanı
- Kalbi kırılan kişiye söylenir
- İlçeyi yöneten kişi

❁ Aşağıdaki bulmacada hayat bilgisi dersinde öğrendiğimiz kavramları bulalım.

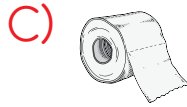
Y			B	A	Y	R	A	K		
U	B	K	U	R	B	A	N		K	
M	E		V	A	P	U	R		A	H
U	S						S		Y	A
R	L			P			E	S	M	L
T	E			A			L	A	A	A
A	N			R			A	B	K	
P	M			K			N	U	A	
T	E			K			İ	N	M	
		T	A	H	T	A	K			
	B	İ	L	G	İ	S	A	Y	A	R
Ö	Z	Ü	R	D	İ	L	E	R	İ	M
S	O	N	B	A	H	A	R			

- Atatürk'ün doğum yeri
- Bağımsızlık sembolü
- Babanın kız kardeşi
- Bir sınıf eşyası
- Temel ihtiyaçlardan biri
- Bir mevsim adı
- Kişisel temizlik ürünü
- Dini bir bayram
- Tavuktan elde edilen besin
- Bir deniz taşıtı
- Bir iletişim aracı
- Güvenli bir oyun alanı
- Kalbi kırılan kişiye söylenir
- İlçeyi yöneten kişi


1. Aşağıdakilerden hangisi okulumuzda çalışanlardan biri değildir?



2. Aşağıdakilerden hangisi kişisel bakım aracıdır?



3. Hangisi bitkisel bir besindir?



4. Babamızın abisine ne deriz?

A) Dayı B) Amca C) Hala

5. Acil durumlarda arayacağımız numara hangisidir?

A) 120 B) 211 C) 112

6. Hangisi milli bir bayram değildir?

A) 30 Ağustos Zafer Bayramı

B) Ramazan Bayramı

C) Cumhuriyet Bayramı

7. Hangisi trafik işaret levhası değildir?



8. Adres bilgisine hangisi yazılır?

A) Sokak adı

B) Apartmandaki kişi sayısı

C) Kimlik numarası

9. Gündüzlerin uzun, gecelerin kısa olduğu mevsim hangisidir?

A) Kış B) Yaz

C) İlkbahar

1. Aşağıdaki cümlelerden kelime sayısı az olan hangisidir?

- A) Cumartesi pikniğe gitti.
B) Ece ile oyun oynadık.
C) Oyunu yine ben kazandım.

2. Hangi cümlenin sonuna soru işareti konmalıdır?

- A) Paketi kargoya verdim
B) Ne dediğini duymadım
C) Kaç tane kitap okudun

3. Hangisi hecelerine yanlış ayrılmıştır?

- A) ak-ıl-lı B) ma-ki-ne
C) a-ra-ba

4. Salkımda tane tane,
Ye tadı pek şahane.

Yukarıdaki bilmecenin cevabı hangisidir?

- A)  B)  C) 

5. Verilen kelime çiftlerinden hangisi diğerlerinden farklıdır?

- A) gece-gündüz
B) beyaz-ak
C) dolu-boş

6.



Aşağıdakilerden hangisi görseli verilen varlığın özelliğini belirtmek için kullanılır?

- A) ağır B) yeni C) sarı

7. Hangisinin yazımı yanlıştır?

- A) Gökkuşığı
B) Pirenses
C) Matematik

8. Hangi kelime iş, oluş, hareket bildirmez?

- A) Askı
B) Bak
C) Gel

9. Takvimde "M" harfi ile başlayan kaç tane ay vardır?

- A) 3 B) 2 C) 1

10. Bir bütünün iki eş parçasından her birine ne denir?

- A) Çeyrek
B) Bütün
C) Yarım

11. 20 sayfalık kitabımın 5 sayfasını daha okursam kitabım bitecek. Okuduğum sayfa sayısı kaçtır?

- A) 25 B) 15 C) 10

12. Cenk halının uzunluğunu aşağıdakilerden hangisi ile ölçmesi doğru olur?

- A)  B)  C) 




13. Bir gün kaç saattir?

- A) 12 B) 7 C) 24

14. Nazlı ile kardeşinin şimdiki yaşları toplamı 15'tir. 2 yıl sonra yaşları toplamı ne olur?

- A) 19 B) 17 C) 15




15. Kağıtların geri dönüşe kazandırılması aşağıdakilerden hangisinin yok olmasını engeller?

- A)  B) 
C) 

16. Aşağıdakilerden hangisi yabani bir hayvandır?

- A)  B)  C) 

17. Hangisi geri dönüştürülmez bir atıktır?

- A)  B)  C) 

1. Aşağıdaki cümlelerden kelime sayısı az olan hangisidir?

- ☒ A) Cumartesi pikniğe gitti.
☐ B) Ece ile oyun oynadık.
☐ C) Oyunu yine ben kazandım.

2. Hangi cümlenin sonuna soru işareti konmalıdır?

- ☐ A) Paketi kargoya verdim
☐ B) Ne dediğini duymadım
☒ C) Kaç tane kitap okudun

3. Hangisi hecelerine yanlış ayrılmıştır?

- ☒ A) ak-ıl-lı ☐ B) ma-ki-ne
☐ C) a-ra-ba

4. Salkımda tane tane,
Ye tadı pek şahane.

Yukarıdaki bilmecenin cevabı hangisidir?

- ☐ A)  ☐ B)  ☒ C) 

5. Verilen kelime çiftlerinden hangisi diğerlerinden farklıdır?

- ☐ A) gece-gündüz
☒ B) beyaz-ak
☐ C) dolu-boş

6.



Aşağıdakilerden hangisi görseli verilen varlığın özelliğini belirtmek için kullanılır?

- ☐ A) ağır ☒ B) yeni ☐ C) sarı

7. Hangisinin yazımı yanlıştır?

- ☐ A) Gökkuşığı
☒ B) Pirenses
☐ C) Matematik

8. Hangi kelime iş, oluş, hareket bildirmez?

- ☒ A) Askı
☐ B) Bak
☐ C) Gel

9. Takvimde "M" harfi ile başlayan kaç tane ay vardır?

- A) 3 ☒ 2 C) 1

10. Bir bütünün iki eş parçasından her birine ne denir?

A) Çeyrek

B) Bütün

☒ Yarım

11. 20 sayfalık kitabımın 5 sayfasını daha okursam kitabım bitecek. Okuduğum sayfa sayısı kaçtır?

- A) 25 ☒ 15 C) 10

12. Cenk halının uzunluğunu aşağıdakilerden hangisi ile ölçmesi doğru olur?

- A)  ☒  C) 

13. Bir gün kaç saattir?

- A) 12 B) 7 ☒ 24

14. Nazlı ile kardeşinin şimdiki yaşları toplamı 15'tir. 2 yıl sonra yaşları toplamı ne olur?

- ☒ 19 B) 17 C) 15

15. Kağıtların geri dönüşe kazandırılması aşağıdakilerden hangisinin yok olmasını engeller?

A)



B)



16. Aşağıdakilerden hangisi yabani bir hayvandır?



B)



C)



17. Hangisi geri dönüştürülmez bir atıktır?



B)



C)

