

A colorful illustration of two children, a boy and a girl, sitting on the floor and reading books. The boy is on the left, wearing a blue shirt and orange shoes, holding an open book. The girl is on the right, wearing a yellow shirt and blue pants, also holding an open book. They are surrounded by stacks of books. Above them, a large, stylized diamond shape contains various symbols of learning and imagination, including a sun, a rainbow, a rocket, a unicorn, a crown, a heart, a star, a cloud, a book, a pencil, and a globe. The background is a light blue gradient with a large, stylized diamond shape in the center.


Okuduğunu Anlama
Harf Bilgisi
Hece Bilgisi
Kelime Kodlama
Özel ve Tür Adlar
Sebeup- Sonuç Cümleleri
Genel Tekrar

Mevsimler

Toplama işlemi
Çıkarma işlemi
Problemler
Veri Değerlendirme
Geometrik şekiller
Ölçme

34. HAFTA

Arkadaşlarını Kaybeden Bulut



Gökyüzünde dolanan sevimli mi sevimli bulutlar varmış. Bu bulutlar sürü halinde yaşarmış. O kadar güzel şekil alırlarmış ki görenlerin hayretle kendilerini gösterdiklerine şahit olur, fotoğraf çeken olursa da poz verirlermiş.

Bu bulut sürüsüne uyum sağlayamayan acemi bir bulut varmış. Acemi bulutun yeteneksizliği diğer bulutları rahatsız ediyormuş ama bir türlü yüzüne söylemiyorlarmış. Arkasından konuşmak onlara daha keyifli geliyormuş. Bir gün diğer bulutlar aralarında anlaşıp acemi bulut uyurken onu terk edip çok uzaklara kaçmışlar. Acemi bulut uyandığında kalbi heyecanla çarpmış. Bir sağa bakmış bir sola bakmış ama arkadaşlarından eser yokmuş. Yalnız kaldığı için o kadar üzülmüş ki üzüntüden ağlamaya başlamış. Acemi bulut bu konuda da acemi çıkmış. Bir türlü ağlamasını durduramıyormuş.

Bu böyle uzun bir süre devam etmiş. Bulutun ağladığı yerlerde çimen, çiçek yeşillenmiş. Tarlalarda tohum filizlenmiş. Toprak bereketlenmiş ve dereler gümbür gümbür akar olmuş. Bu değişim köylünün hemen dikkatini çekmiş. Zamanla acemi bulutu gördüklerinde el sallamaya başlamışlar. Sevgilerini gösterebilmek için bulutu işaret edip fotoğraflarını çekmeye başlamışlar.

En sonunda bulut da onları fark etmiş. Yalnız olmadığına ve insanlara faydasının dokunduğuna çok sevinmiş. Yüzü gülmeye başlamış. Zamanla onunla arkadaş olabilmek için diğer bulutlar sıraya girmeye başlamış. Acemi bulut gelen tüm bulutları sürüye kabul etmiş.

Sürünün adı Acemi Bulutlar Sürüsü olarak tüm göğe yayılmış. Sürüye katılmanın tek şartı ise dürüst olmakmış. Onu terk edip giden bulutlar ise bu sürüye asla girememiş.

Ezgi AYDEMİR KUTAY



1. Bulutlar gökyüzünde nasıl yaşarlarmış?
A) ayrı ayrı B) sürü halinde
C) tek tek
2. Bulut sürüsüne kim uyum sağlayamamış?
A) Acemi bulut
B) Hızlı bulut
C) Şirin bulut
3. Diğer bulutlar Acemi bulut uyurken ne yapmışlar?
A) Şarkı söyleyerek Acemi bulutu uyandırmışlar.
B) Acemi bulutu terk edip gitmişler.
C) Acemi buluta sürpriz hazırlamışlar.
4. Acemi bulut arkadaşlarını göremeyince ne yapmış?
A) Şaşırmış
B) Sevinmiş
C) Çok üzülmüş
5. Acemi bulut ağladıkça aşağıdakilerden hangisi olmamıştır?
A) Çimen, çiçek yeşillenmiş.
B) Tarlalarda tohum filizlenmiş.
C) Köyde sel olmuş.
6. Köylüler, acemi buluta sevgilerini gösterebilmek için ne yapmışlar?
A) Bulutun fotoğrafını çekmişler.
B) Bulutu görünce kızmışlar.
C) Buluta hediye almışlar.
7. Acemi Bulutlar Sürüsüne girebilmenin şartı ne olmuş?
A) Güçlü olmak
B) Güzel olmak
C) Dürüst olmak
8. "Acemi" sözcüğünün zıt anlamlısı hangisidir?
A) Beceri
B) Usta
C) Büyük

Asya'nın Düşü

Asya uyumadan önce her gece annesine masal anlattırırdı. O gece de annesinin yıldızlarla ilgili bir masal anlatmasını istedi. Ne yazık ki masalını dinleyemedi uyuyakalmıştı.

Uykuya dalması onun için bir son değildi çünkü düşünde kendini annesinin anlattığı masalın içinde buldu. Gökyüzündeki en büyük yıldızın tepesinden kayarak diğer yıldızlara atlıyordu. Birden bire diğerlerinden daha farklı ışıldayan bir yıldız tutunduğunu fark etti. Bu yıldız o kadar parlaktı ki gözünü alıyordu. Hemen başka bir yıldız atlamalıyım diye düşündü. O sırada bir ses duydu: " Bu dilek yıldızıdır. İyilik yapmayı seven her çocuk düşlerinde bir kez bu yıldız gelir. Dile benden ne dilersen!" Asya duydukları karşısında çok heyecanlandı ve hemen bir dilek tuttu. Tuttuğu dilek gökyüzünde yayıldı. "Dünyadan her çocuğun iyi insanlarla karşılaşmasını diliyorum."

Asya gözlerini açtığında hala gece vaktiydi. Annesi de yanında uyuyakalmıştı. Üşenmeden pencereye yaklaştı. Işıl ışıl bir yıldız kendisine göz kırparak kaydı. Asya da annesine sarılarak mutlu bir şekilde yeniden uykuya daldı.

Ezgi AYDEMİR KUTAY





1. Asya her gece kimden masal anlatmasını istiyor?

.....

2. Asya annesinden ne ile ilgili masal anlatmasını istiyor?

.....

3. Asya uyuyakalınca düşünde nereyi görüyor?

.....

4. Asya'nın rüyasında duyduğu ses ne söylüyor?

.....

5. Dilek yıldızına hangi çocuklar gelirmiş?

.....

6. Asya, dilek yıldızından ne diliyor?

.....

7. Asya pencereden bakınca ne görüyor?

.....

8. Pencereden gördüğü yıldız, Asya'ya ne yapmış?

.....

9. Dilek yıldızından bir dilek dileseydin ne dilerdin?

.....



MEVSİMLER

Bir yılda tam dört mevsim,
Hepsi ayrı resim,
Gel de birlikte sayalım,
Takalım birer isim.



İlkbahar, yaz, sonbahar,
Kış gelince kar yağar.
Haydi haydi evine.
Her tarafta soğuk var.

Kartal dağda uçuşur.
Bülbül dalda ötüşür.
Ovada kuzu meler.
Yazın her yer tutuşur.



Soruları cevaplayalım.

Soru: Bir yılda kaç mevsim var?

.....

Soru 2: Mevsimlerin isimleri neler?

.....

Soru 3: Kış gelince ne olur?

.....

Soru 4: Kartal nerede uçarmış?


.....

Köy


Aşağıdaki tabloda yer alan kelimelerin görselleri bir sonraki sayfada verilmiştir. Görselleri üstteki okunuşlarının yazılı olduğu gibi alttaki tabloya yerleştirelim.

	A	B	C	D	E
1	Kelebek	Şemsiye	Ağaç	Elma	Koyun
2	Tabak	Salyangoz	Çilek	Güneş	Zeytin
3	Gözlük	Makas	Limon	Keman	Uçak
4	Bal	Öğretmen	Çiçek	Dondurma	Şeker

	A	B	C	D	E
1					
2					
3					
4					



✂----- Bu sayfa iki öğrenci içindir



Alfabemizdeki eksik harfleri tamamlayalım.

A			Ç			F	
	H				K		
N			P				T

Harf sayıları eşit olan kelimeleri eşleştirelim.

bulut

papatya

çekirdek

yengeç

kurbağa

taş

şans

karantina

leylek

bataklık











top

çiçek

yetenekli

yurt

Aşağıdaki görsellerin adını ve kaç heceden oluştuğunu yazalım.



Aşağıdaki cümlelerin kelime sayılarını karşlarına yazalım.

CÜMLE	KELİME SAYISI
Beliz balkonda oyuncakları ile oynuyor.	
Koray fotoğraf kursuna gidecek.	
Cem de Ali de geziye katılacaklarmış.	
Annem geldi.	
Hep birlikte bu işi başaracağız.	
Cansu ile Gözde iki kişilik sinema bileti aldı.	
Oynadık.	
Dedemlerin bahçesinde büyük elma ağacı var.	
Eyvah! Çantamı kaybettim.	
Gözlerim ağrıdığı için doktora gideceğiz.	
Halıya süt döküldü.	
İzmir büyük ve güzel şehirlerimizden biridir.	
Yeşil bir elbise gördüm.	
Babam abur cubur yememize izin vermez.	
Yarın birlikte parkta oynayalım mı?	
Gülleri koparmak doğru değil.	

Aşağıda bulutlar içinde yazılı olan kelimelerden özel ad olanları mavi, tür adı olanları pembe renge boyayalım.

Hakan

Kedi

Pırasa

Türkiye

Atatürk
Caddesi

Kalp

Öğretmen

Bilim Dergisi

Şair

Yağız

Ankara

Gülsüm

Halı

Van Gölü

Pamuk

Mars

Yeşil Sokak

Defter

Kocaeli

Ege Denizi

Çocuk


Aslan

Beşiktaş


Nil Tunç

Verilen ifadeleri okuyalım. Sebep ve sonuç olan cümlelerin harflerini aşağıdaki ağaçlara yazalım.

A Annem izin verdiği için	Çok başarılı oldu Ç
N Hava yağışlı olduğundan	Planlı ders çalıştığı için K
Ü Çünkü kurallara uymadı	Pikniğimiz ertelendi Z
B Arkadaşımla parka gittim	Selim annesinden uyarı aldı R
E Okula geç kaldım	Akşam geç yattım bu yüzden Ş



SEBEP



SONUÇ

A. Görseldeki varlıkların ismini kullanarak cümle yazalım.



B. Aşağıdaki kelimelerin zıt anlamlılarını cümle içinde kullanalım.

düşman

.....

yok

.....

soru

.....

erken

.....

C. Aşağıdaki kelimelerin eş anlamlılarını yazalım.

misafir



.....

hikaye



.....

fakir



.....

hekim



.....

tabiat



.....

kara



.....

hasım



.....

hür



.....

tayyare



.....

öğrenci



.....

D. Aşağıdaki cümlelerde yazım yanlışları olan kelimelerin altını çizelim

- 1- babamla birlikte Adanaya gittik.
- 2- Annem bana yeni bir Defter almış?
- 3- Evimiz bayramoğlu mahallesindedir.
- 4- Gülce dedesine gaste aldı.

E. Aşağıdaki cümlelerde () içime gelmesi gereken noktalama işaretlerini yazalım.

Pazar sabahı annem bizi erkenden uyandırdı() Ablam() abim ve ben heyecanla kahvaltı masasına oturduk()

Annem()

() Çocuklar size babanızla bir süprizimiz var.

() Yaşasın() hemen söyleyin() Dedi ablam()

Abim()

() Yoksa bize tablet mi aldınız () dedi()

Babam dayanamadı ve hafta sonu hep birlikte Ankara() aile kampına katılacağımızı ve çok eğleneceğimizi söyledi()

F. Aşağıdaki kelimelerin son harfi ile başlayan yeni kelimeler yazalım.

tarak  _____  _____  _____  _____

halı  _____  _____  _____  _____

defter  _____  _____  _____  _____

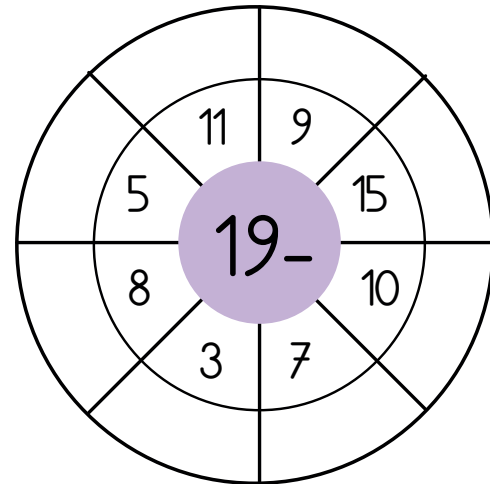
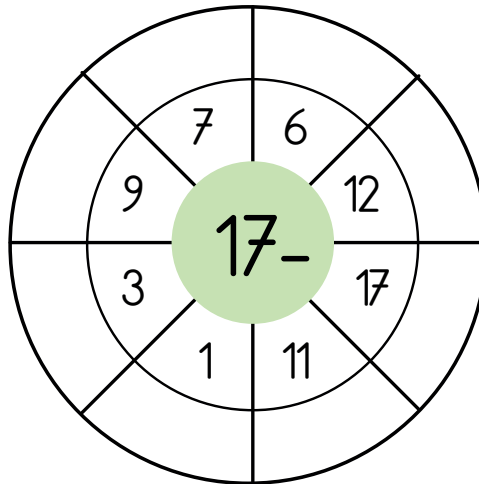
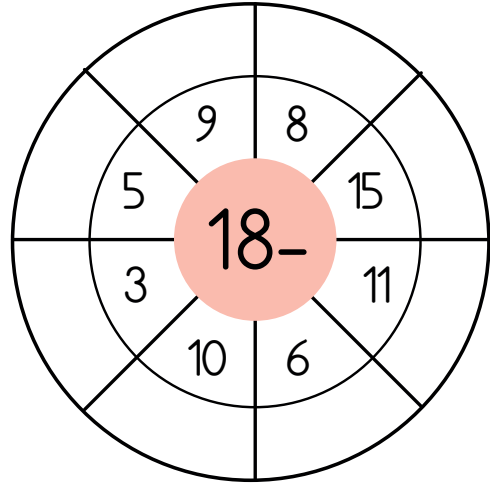
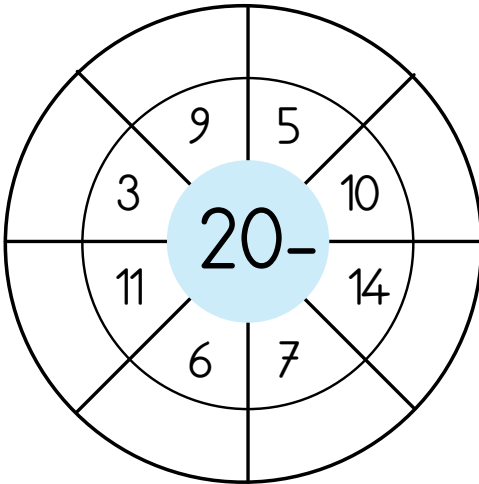
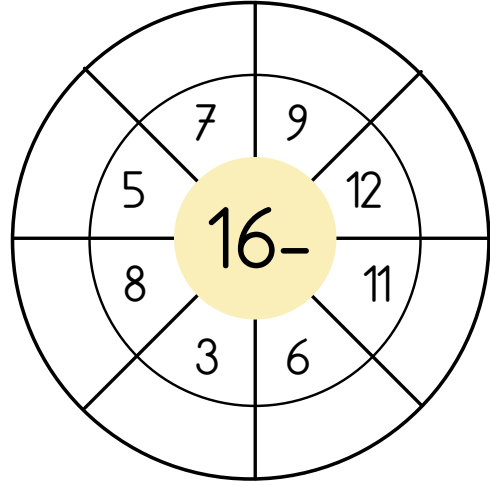
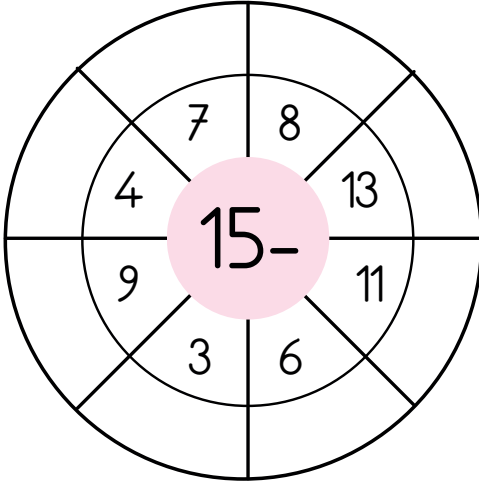
❁ Aşağıdaki toplama işlemlerini yapalım.

$\begin{array}{r} 15 \\ + 5 \\ \hline \end{array}$	$\begin{array}{r} 13 \\ + 6 \\ \hline \end{array}$	$\begin{array}{r} 9 \\ + 8 \\ \hline \end{array}$	$\begin{array}{r} 17 \\ + 5 \\ \hline \end{array}$	$\begin{array}{r} 14 \\ + 8 \\ \hline \end{array}$
$\begin{array}{r} 15 \\ + 9 \\ \hline \end{array}$	$\begin{array}{r} 18 \\ + 5 \\ \hline \end{array}$	$\begin{array}{r} 9 \\ + 9 \\ \hline \end{array}$	$\begin{array}{r} 11 \\ + 12 \\ \hline \end{array}$	$\begin{array}{r} 5 \\ + 8 \\ \hline \end{array}$
$\begin{array}{r} 20 \\ + 5 \\ \hline \end{array}$	$\begin{array}{r} 14 \\ + 7 \\ \hline \end{array}$	$\begin{array}{r} 13 \\ + 12 \\ \hline \end{array}$	$\begin{array}{r} 22 \\ + 8 \\ \hline \end{array}$	$\begin{array}{r} 16 \\ + 2 \\ \hline \end{array}$
$\begin{array}{r} 11 \\ + 9 \\ \hline \end{array}$	$\begin{array}{r} 10 \\ + 10 \\ \hline \end{array}$	$\begin{array}{r} 18 \\ + 8 \\ \hline \end{array}$	$\begin{array}{r} 19 \\ + 1 \\ \hline \end{array}$	$\begin{array}{r} 8 \\ + 6 \\ \hline \end{array}$

❁ Aşağıdaki toplama işlemlerini yapalım.

$13 + 6 = \dots\dots$	$17 + 8 = \dots\dots$	$19 + 6 = \dots\dots$
$10 + 5 = \dots\dots$	$16 + 5 = \dots\dots$	$21 + 7 = \dots\dots$
$8 + 4 = \dots\dots$	$13 + 4 = \dots\dots$	$20 + 10 = \dots\dots$

✿ Aşağıdaki çıkarma işlemlerini yapalım.



❁ Aşağıdaki problemleri çözelim. Problemin çözümü olan sayıları problem kutusu ile aynı renge boyayalım.

Ceren 15 limonun 8 tanesi ile limonata yaptı. Geriye kaç limon kaldı?

Benim 14 kalemim vardı. 8 kalem de babam aldı. Toplam kaç kalemim oldu?

Hangi sayının 5 fazlasının 4 eksiği 10'dur?

15 ile kaç toplarsak toplam 19 olur?

22

9

4

9

7

10


20 tane çikolatanın 5 tanesini Ersin'e, 6 tanesini Ece'ye verdim. Kaç şekerim kalır?

18 TL'min 8 TL'sini harcadım. Kaç TL param kalır?

❁ Aşağıdaki geometrik şekillerin kenar ve köşe sayıları ilgili istenilen bilgileri yazalım.



Şeklin adı	
Kenar sayısı	
Köşe sayısı	
Örnek nesne	



Şeklin adı	
Kenar sayısı	
Köşe sayısı	
Örnek nesne	



Şeklin adı	
Kenar sayısı	
Köşe sayısı	
Örnek nesne	



Şeklin adı	
Kenar sayısı	
Köşe sayısı	
Örnek nesne	

❁ Aşağıya geometrik şekilleri kullanarak bir örüntü yapalım.

Aşağıdaki tabloyu inceleyelim.
Soruların cevabını tablodan yararlanarak yazalım.

Dondurma	Öğrenci Sayısı
Çilekli	11
Muzlu	5
Çikolatalı	7
Vanilyalı	3
Karadutlu	6

TABLO: 1/B sınıfında sevilen dondurma çeşitleri

1. 1/B sınıfında en çok sevilen dondurma hangisidir?
2. En az sevilen dondurma hangisidir?
3. Muzlu ve karadutlu dondurma sevenlerin toplamı kaçtır?
4. Çilekli dondurma sevenler, vanilyalı dondurma sevenlerden ne kadar fazladır?
5. 1/B sınıfının mevcudu kaçtır?





Aşağıdaki tabloyu inceleyelim.
Soruların cevabını tablodan yararlanarak yazalım.

Hayvanlar	Sayısı
	15
	6
	2
	3

TABLO: Bir çiftlikteki hayvan sayısı

1. Bu çiftlikte en az hangi hayvan vardır?
2. En az hayvanın sayısı ile en fazla hayvanın sayısı toplamı kaçtır?
3. Koyun ve inek sayılarının toplamı kaçtır?
4. En fazla sayıya sahip olan hayvandan en az sayıya sahip hayvana doğru sıralayın.

❁ Aşağıdaki saatlerin okunuşlarını yazalım.



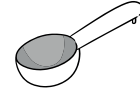

.....

❁ Aşağıdaki nesnelerin uzunluğunu hangi standart olmayan ölçüm ile ölçebileceğimizi yazalım.



.....

❁ Aşağıdaki nesneleri en az sıvı alandan en fazla sıvı alan nesneye göre numaralandıralım.



MEVSİMLER

KİŞ



İLKBAHAR



YAZ



SONBAHAR



Aralık, ocak ve şubat kış mevsiminin aylarıdır. Bu mevsimde havalar soğur. Bazı yerlerde kar yağar. Kış mevsiminde mont ve bot giyilir. Ayrıca bere, atkı ve eldiven takılır.

Havalar ısınır. Ağaçlar çiçek açar ve her yer yemyeşil olur. Yağmur yapar, karlar eriyerek derelere karışır. Mart, nisan ve mayıs ilkbahar mevsiminin aylarıdır.



Havanın en sıcak olduğu mevsimdir. Ekinler biçilir, meyveler olgunlaşır. Okullar tatil olur. Haziran, temmuz ve ağustos yaz mevsiminin aylarıdır.

Havalar serinlemeye başlar. Ağaçların yaprakları sararıp dökülür. Okullar açılır. Eylül, ekim ve kasım sonbahar mevsiminin aylarıdır.

İnteraktif Defter Etkinliği

❁ Aşağıda verilen şiirde özellikleri anlatılan mevsimin ismini yazalım.

Mart kapıdan baktırır,
Kazma kürek yaktırır.
Nisanda çiçek açar,
Sevinçle kuşlar uçar.
Mayısta kiraz yeriz,
Kuzuları severiz.

Aralık yılın sonu,
Soğuktur eni konu.
Yılın ilk ayı ocak,
Kar yağar kucak kucak.
İkinci ay şubattır,
Soğuğu pek berbattır.

Haziranda başlar
Dağılır arkadaşlar.
Temmuz yakar, kavurur,
Ekinleri oldurur.
Ağustos harman ayı,
Sevinir köylü dayı.

Eylüle yoktur sözüm,
Getirir incir, üzüm.
Ekim ayı gelince,
Kasımın yağmuru bol,
Üşüme dikkatli ol.

❁ Aşağıdaki cümlelerde boş bırakılan yerlerin cevabını bulmacadan bulalım.

1. Soba ve kaloriferler mevsiminde yakılır.
2. ayında okullar açılır.
3. İlkbaharda kuşlar geri gelir.
4. Havalar çok olduğu için mont giyilir.
5. Ağaçlar ilkbahar geldiğinde açar.
6. Dünya'nın Güneş' in etrafında dönmesiyle oluşur.
7. sararan yapraklar dökülmeye başlar.
8. Yazın biçilir.
9. Meyve ve sebzeler mevsiminde olgunlaşır.
10., ve ilkbahar mevsiminin aylarıdır.


E	G	E	G	Ö	Ç	M	E	N	E	M	İ	D
E	B	Ü	L	H	K	N	İ	D	V	S	Ü	A
Y	Ü	Ç	İ	Ç	E	K	D	D	M	O	E	A
L	G	U	H	N	İ	S	A	N	A	Ğ	M	E
Ü	B	Ş	Ü	L	K	İ	Ş	M	R	U	M	K
L	H	U	Y	A	Z	E	M	D	T	K	İ	İ
E	G	Ü	G	H	M	L	D	V	Ü	İ	Ü	N
M	M	E	V	S	İ	M	L	E	R	A	P	L
B	E	G	İ	M	A	Y	İ	S	İ	U	Ş	E
S	O	N	B	A	H	A	R	D	A	P	Ş	R

❁ Aşağıdaki cümlelerde boş bırakılan yerlerin cevabını bulmacadan bulalım.


1. Soba ve kaloriferler mevsiminde yakılır.
2. ayında okullar açılır.
3. İlkbaharda kuşlar geri gelir.
4. Havalarda çok olduğu için mont giyilir.
5. Ağaçlar ilkbahar geldiğinde açar.
6. Dünya'nın Güneş' in etrafında dönmesiyle oluşur.
7. sararan yapraklar dökülmeye başlar.
8. Yazın biçilir.
9. Meyve ve sebzeler mevsiminde olgunlaşır.
10., ve ilkbahar mevsiminin aylarıdır.

			G	Ö	Ç	M	E	N				
E										S		
Y		Ç	İ	Ç	E	K			M	O		
L				N	İ	S	A	N	A	Ğ		E
Ü					K	I	Ş		R	U		K
L			Y	A	Z				T	K		İ
												N
	M	E	V	S	İ	M	L	E	R			L
				M	A	Y	I	S				E
S	O	N	B	A	H	A	R	D	A			R


1. Aşağıdakilerden hangisi alfabemizin son harfi ile başlar?



2. Aşağıdaki hangi görselin adı 5 harf ve iki heceden oluşur?



3. Hangi görselin adının son harfi alfabemizin ilk harfidir?



4. Aşağıdaki cümlelerden hangisinde kelimeler sözlük sırasına göre dizilmiştir?

- A) Aylin yeni defter aldı.
B) Cihan doktor olacakmış.
C) Gülhan annesine çiçek aldı.

5. Hangi kelimenin ilk harfi her zaman büyük yazılır?

- A) Anne B) Polis C) Banu

6. Hangi noktalama işareti cümle sonuna konur?

- A) ? B) , C) —

7. Aşağıdaki cümlelerin hangisinde tek başına anlamı olmayan bir kelime kullanılmıştır?

- A) Top vazoyu kırdı.
B) Ferhat ile Cenk kazandı.
C) Hülya çok mutlu olacak.

8. 20 cevizin 5 tanesi ben, 7 tanesini kardeşim yedi. Geriye kaç cevizimiz kaldı?

- A) 8 B) 9 C) 10

9. 2 onluk ve 8 birlikten oluşan sayının 5 eksiği kaçtır?

- A) 28 B) 25 C) 23

10. Aşağıdakilerden hangisi standart olmayan bir ölçü birimidir?

- A) B) C)

11. Yarın günlerden salı olacağına göre dün hangi gündür?

- A) Pazar B) Cuma C) Salı

12. Aşağıdaki hangi geometrik şeklin köşesi ve kenarı yoktur?

- A) Üçgen B) Kare C) Daire

13. Bir yılda kaç mevsim vardır?

- A) 4 B) 12 C) 365

14. Aşağıdaki kaplardaki su azdan çoğa göre sıralandığında hangisi sonda yer alır?

- A) B) C)

15. Aşağıdaki mevsimlerden hangisinde havalar çok soğuk olur?

- A) Yaz B) Kış C) Mart

16. Okulların açıldığı eylül hangi mevsimin ayıdır?

- A) Sonbahar
B) Yaz
C) Kış

17. Aşağıdakilerden hangisi yaz mevsimine ait bir meyvedir?

- A) B) C)

18. Kırılan bir şişe hangi geri dönüşüm kutusuna atılmalıdır?

- A) B) C)


19. Aşağıdakilerden hangisi gökyüzünde bulunmaz?

- A) B) C)


1. Aşağıdakilerden hangisi alfabemizin son harfi ile başlar?




2. Aşağıdaki hangi görselin adı 5 harf ve iki heceden oluşur?



3. Hangi görselin adının son harfi alfabemizin ilk harfidir?



4. Aşağıdaki cümlelerden hangisinde kelimeler sözlük sırasına göre dizilmiştir?

- A) Aylin yeni defter aldı.
 Cihan doktor olacakmış.
 C) Gülhan annesine çiçek aldı.


5. Hangi kelimenin ilk harfi her zaman büyük yazılır?

- A) Anne B) Polis  Banu

6. Hangi noktalama işareti cümle sonuna konur?



7. Aşağıdaki cümlelerin hangisinde tek başına anlamı olmayan bir kelime kullanılmıştır?

- A) Top vazoyu kırdı.
 Ferhat ile Cenk kazandı.
 C) Hülya çok mutlu olacak.


8. 20 cevizin 5 tanesi ben, 7 tanesini kardeşim yedi. Geriye kaç cevizimiz kaldı?

-  8 B) 9 C) 10

9. 2 onluk ve 8 birlikten oluşan sayının 5 eksiği kaçtır?

- A) 28 B) 25  23

10. Aşağıdakilerden hangisi standart olmayan bir ölçü birimidir?



11. Yarın günlerden salı olacağına göre dün hangi gündür?




12. Aşağıdaki hangi geometrik şeklin köşesi ve kenarı yoktur?



13. Bir yılda kaç mevsim vardır?



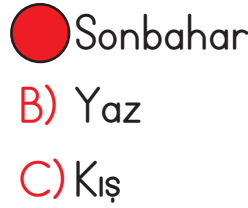
14. Aşağıdaki kaplardaki su azdan çoğa göre sıralandığında hangisi sonda yer alır?



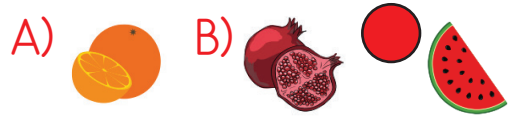
15. Aşağıdaki mevsimlerden hangisinde havalar çok soğuk olur?



16. Okulların açıldığı eylül hangi mevsimin ayıdır?



17. Aşağıdakilerden hangisi yaz mevsimine ait bir meyvedir?



18. Kırılan bir şişe hangi geri dönüşüm kutusuna atılmalıdır?



19. Aşağıdakilerden hangisi gökyüzünde bulunmaz?

