

[illegible]

HAYAT BİLGİSİ

MATEMATİK

Veri Toplama ve Değerlendirme Problemleri

31. HAFTA

Gezi Sabahı

Güneşli bir pazar sabahı erkenden uyandık. Heyecanımı bir kenara bırakıp hemen odamı topladım. Abim neşeyle şarkılar söylüyor, annem de bizi kahvaltıya çağırıyordu. Cümbüş mışıl mışıl uyuyordu. Babam valizlerimizi arabaya taşıyor, bir taraftan da ağır valizler yüzünden anneme tatlı tatlı söyleniyordu.

Kahvaltıda yapacağımız gezinin detaylarını annem ve babam tekrar anlattı. Beni ve abimi sürekli dikkat etmemiz gerekenler hakkında uyardılar. Abim:

- Nejla'yı uyarın, küçük olan o, dedi.

Abim yine beni kızdırmayı başardı,

- Abiciğim akıl yaşta değil baştadır, dedim. Türkçe dersinde atasözlerini öğrenmiştik. Çok sevmiştim bu atasözünü. Kullanmak bugüne nasip oldu.

Arabımıza bindik. Yolculuğumuz başlarken hepimiz de heyecanımızı yüzümüze yansıtmıştık. Selanik'e gidiyorduk. Atatürk'ün doğduğu evi görecektik. Büyüdüğü sokaklardan geçecektik. Nasıl heyecanlı olunmaz ki!

Geçen yıl Ankara'da bulunan Anıtkabir'e gitmiş, yattığı yerde ziyaret etmiştik. Şimdi doğduğu topraklara gidiyoruz.



Atatürk'ün 1881 yılında Selanik'te doğduğu ev.

Aşağıdaki soruları "Gezi Sabahı" metnine göre cevaplayalım.

1- Gezi sabahı Nejla uyandıktan sonra ne yapıyor?

2- Abisine kızan Nejla hangi atasözünü söylüyor?

3- Nejla ve ailesi nereye geziye gidiyorlar?

4- Nejla ve ailesini heyecanlandıran yer neresidir?

5- Nejla ve ailesi geçen yıl nereye gitmişler?

6- Bildiğiniz bir atasözünü yazınız.

7- Ünlü harf ile başlayan üç heceli dört tane kelime yazınız.


8- "A" harfi ile başlayan üç tane meyve adı yazınız.

9- Zıt anlamlı kelimelere iki tane örnek yazınız.

Karınca ile Kumru

Çok susayan karınca bir suyun başına giderek doya doya su içmek istemiş. Suyu doğru bir ot sarkıyormuş. Karınca bu ota tırmanmış suya uzanmak istemiş ama olmamış.

Birdenbire dengesini kaybedip suya düşmüş. Kurtulmak için çırpınırken kenardaki bir ağacın dalında dinlenen kumru onu görmüş ve hemen suya bir yaprak bırakmış.



Karınca bu yaprağa çıkarak boğulmaktan kurtulmuş. Bir gece bir avcı, kumruyu vurmak için yayını gerip nişan almış. Bunu fark eden karınca hemen avcının yanına gitmiş ve

ayağına çıkarak onu çorapsız yerinden ısırılmış.

Avcı ne oluyor diye bakınca dengesini kaybetmiş ve yayda hazır bekleyen ok rastgele bir tarafa fırlamış. Durumu fark eden kumru canını kurtarmış. Böylece yapılan iyilik karşılıksız kalmamış.



İlk 4 soruyu "Karınca ile Kumru" metnine göre cevaplayalım.

1. Karınca suyun başında ne yapmak istiyor?

- A) Banyo yapmak
- B) Su içmek
- C) Yüzmek

2. Karınca ota tırmandıktan sonra ne olmuş?

- A) Otun üzerinde zıplıyor.
- B) Yiyecek topluyor.
- C) Dengesini kaybedip suya düşüyor.

3. Karıncaya kim yardım ediyor?

- A) 
- B) 
- C) 

4. Karınca kumruya nasıl yardım ediyor?

- A) Kumruya kaçmasını söylüyor.
- B) Avcının ayağında çorapsız yeri ısıyor.
- C) Karınca, kumruya yaprak veriyor.

5. Aşağıdaki kelime çiftlerinden hangisi eş anlamlı değildir?

- A) yurt-vatan
- B) ileri-geri
- C) ikaz-uyarı

6. Hangisi özel bir isimdir?

- A) Timsah
- B) Harita
- C) Gaziantep

7. Hangi noktalama işareti doğru konulmuştur??

- A) Aylin okula gitti.
- B) Eyvah, parayı düşürdüm?
- C) Gül hasta mı oldu!

8. Aşağıdaki kelimelerden hangisi sözlükte diğerlerinden sonra gelir?

- A) şans
- B) şölen
- C) şemsiye

Ařağıda tabloda harfleri karıřık olarak verilmiř kelimeleri bulalım.

řATVAN	TAVřAN
ALB	
MALE	
IHLA	
ZÜKYÜ	
NEřİV	
AKLEM	
YAI	
KİřMEř	
ÇAT	
ULKO	
ZUM	
ZİVCE	
YANA	
YUNO	
ÜRAY	
ALYIN	
KÖZÜ	

NETEKE	
TAÇAL	
RAK	
MUTAR	
PIKA	
FISIN	
NEGÜř	
ZİNDE	
FERDET	
ÇAĞA	
BOTRO	
ÖRTEN	
OJTEN	
NİSAN	
VAHA	
İKTAP	
LİSPO	
PAROÇ	

Ařağıda tabloda harfleri karıřık olarak verilmiř kelimeleri bulalım.

řATVAN	TAVřAN
ALB	BAL
MALE	ELMA
IHLA	HALI
ZÜKYÜ	YÜZÜK
NEřİV	VIřNE
AKLEM	KALEM
YAI	AYI
KIřMEř	řİMřEK
ÇAT	TAÇ
ULKO	OKUL
ZUM	MUZ
ZİVCE	CEVİZ
YANA	AYNA
YUNO	OYUN
ÜRAY	RÜYA
ALYIN	YILAN
KÖZÜ	ÖKÜZ

NETEKE	TENEKE
TAÇAL	ÇATAL
RAK	KAR
MUTAR	ARMUT
PIKA	KAPI
FISIN	SINIF
NEGÜř	GÜNEř
ZİNDE	DENİZ
FERDET	DEFTER
ÇAĞA	AĞAÇ
BOTRO	ROBOT
ÖRTEN	TÖREN
OJTEN	JETON
NİSAN	İNSAN
VAHA	HAVA
İKTAP	KİTAP
LİSPO	POLİS
PAROÇ	ÇORAP

Aşağıdaki metinleri okuyalım soruları cevaplandıralım.



Merhaba ben Sinan. Yedi yaşındayım. Resim yapmayı çok seviyorum. Ailem ve öğretmenim resim yeteneğim olduğunu söylüyorlar. Bu yüzden resim kursuna gidiyorum.



Merhaba ben Rüya. Sekiz yaşındayım. İkinci sınıfa gidiyorum. Tenis oynamak en sevdiğimdir. Bu yüzden tenis kulübündeyim. Çok iyi tenis oynarım. Tenis yarışmasında il ikincisi oldum.

1- Sinan kaç yaşında?

2- Sinan neyi seviyor?

3- Hangi kursa gidiyor?

1- Çocuğun adı nedir?

2- Hangi kulübe gidiyor?

3- Yarışmada kaçınıcı olmuş?

RENKLİ BİLGİ

Bir iş, bir hareket, bir oluş bildiren kelimelere eylem bildiren kelimeler diyoruz.

"Gelmek, koşmak, yürümek..." bu kelimeler eylem bildiren kelimelerdir. Bu kelimeleri, diğer kelimelerden ayırmak için sonuna "-mek, -mak" getiririz.



zıpla-mak



yüz-mek



oku-mak

Aşağıdaki cümlelerde eylem bildiren kelimeleri tabloya yazalım.

Hasan tatile gidecek.	
Okulun bahçede resim yaptık.	
Selma ağaçtan elmalar topladı.	
Öğretmenimiz bize şiir okudu.	
Arkadaşım ile yarın tiyatroya gideceğiz.	
Mine kitap okuyor.	
Çınar yağmura yakalandığı için hasta olmuş.	
Öykü çok güzel şarkılar söyler.	
Kahve yeni aldığımız halıya döküldü.	
Gelmedi Ceren okula.	
Bu yaz giderceğimiz yer Muğla.	
Armin bale kursuna yazıldı.	
Törene gösteri hazırlıyoruz.	

Eylem bildiren kelimeleri işaretleyelim.

kedî	çilek	sevmek	dünya
<input type="radio"/>	<input type="radio"/>	<input type="radio"/>	<input type="radio"/>
kardeş	üşümek	akşam	kırmızı
<input type="radio"/>	<input type="radio"/>	<input type="radio"/>	<input type="radio"/>
tırmanmak	futbol	bilek	seyahat
<input type="radio"/>	<input type="radio"/>	<input type="radio"/>	<input type="radio"/>
düşünce	kazanmak	resim	şekerlik
<input type="radio"/>	<input type="radio"/>	<input type="radio"/>	<input type="radio"/>

Aşağıdaki tablodaki kelimelerin eylem bildirip bildirmediğini işaretleyelim.

KELİME	EYLEM	EYLEM DEĞİL
balık		
al		
düştü		
halı		
solgun		
indik		
bulacak		

KELİME	EYLEM	EYLEM DEĞİL
mendil		
içtim		
bekliyor		
gezi		
mutluluk		
oyna		
gitti		

Aşağıda verilen cümlelerin devamında gelebilecek cümleler yazalım.

Babamla markete gittik. Marketten yaptığımız ihtiyaç listesindeki ürünleri aldık.

Dedem bize çok güzel masallar anlattı.

.....

Okulda futbol maçı yaptık

.....

Gözlerim çok ağrıdığı için doktora gittim.

.....

Televizyonda zürafalar ile ilgili belgesel izliyorum.

.....

Kek yapmak için gerekli malzemeleri aldı.

.....

Ali yavru köpeği sokakta gördü.

.....

Teyzem yarın havalimanına gidecek.

.....

Aşağıdaki noktalama işaretlerine uygun cümleler yazalım.

.

?

!

,

?

!

.

1- Aşağıdaki sözcüklerin anlamlarını sözlükten bulup yazalım.

ziyaret:

.....

mülk:

.....

2- Aşağıya altı tane eş anlamlı kelime yazalım.

..... /

..... /

..... /




3- Aşağıya altı tane zıt anlamlı kelime yazalım.

..... X

..... X

..... X

4- Aşağıdaki görsellerin isimlerini yazalım.



.....

5- Aşağıdaki cümlelerde uygun noktalama işaretini yazalım.

Ayça() Kağan ve Çağla parkta oynadılar()

Papatya sevmeyen var mı()

Vah vah () Yavru köpek yaralanmış()

Kayseri()ye dayımlar ne zaman varacak()

6- Aşağıdaki tabloyu dolduralım.

Kelime	Harf Sayısı	Ünlü Harf Sayısı	Hecelerine Ayrılışı	Hece Sayısı

7- Aşağıdaki kelimeleri sözlük sırasına göre dizelim.

çekirge - saat - inek 1-..... 2-..... 3-.....

pul - çilek - fıstık 1-..... 2-..... 3-.....

kibrit - ısıklık - vazo 1-..... 2-..... 3-.....

lamba - limon - leylek 1-..... 2-..... 3-.....

üzüm - ütü - börek 1-..... 2-..... 3-.....


1- Aşağıdaki görsellerden hangisinde "ke" hecesi vardır?




2- Aşağıdaki varlıkların hangisinin isminde "ba" hecesi vardır?



3- Aşağıdaki varlıkların hangisinin adında "le" hecesi vardır?



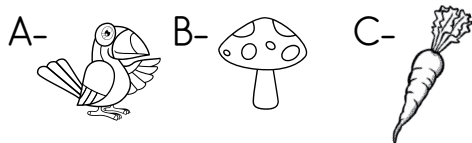
4- Aşağıdaki varlıkların hangisinin isminde "ra" hecesi yoktur?



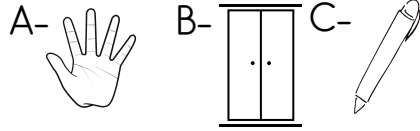
5- Aşağıdaki varlıkların hangisinin isminde "çe" hecesi yoktur?



6- Aşağıdaki varlıkların hangisinin ismindeki hece sayısı diğerlerinden fazladır?



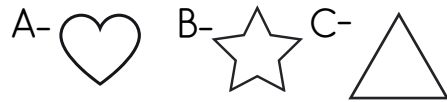
7- Aşağıdaki varlıkların hangisinin ismindeki hece sayısı diğerlerinden azdır?



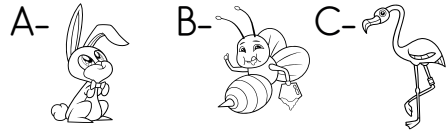
8- Aşağıdakilerden hangisinin hecelerine ayrılışı doğrudur?

- A) pa_pat_ya_lı
B) ku_mba_ra
C) as_ker_lik

9- Hangisinin ismindeki hece sayısı diğerlerinden azdır?



10- Hangisinin ismindeki hece sayısı diğerlerinden azdır?



11- Aşağıdakilerden hangisinin hecelerine ayrılışı doğrudur?

- A) Bi_lek_lik
B) has_ta_ne
C) şe_ker_li-k

19 MAYIS

19 Mayıs günü,
Yaşıyor kalbimizde,
Atatürk güneş gibi,
Her zaman içimizde.



Ülkü verir, hız verir.
Bize 19 Mayıs
Yurdumuzu kurtaran,
Ata'yı unutmayız.

Tembellik yasak bize,
Parolamız ileri,
Dünyaya örnek olsun,
Çalışkan Türk gençleri.

Tembellik yasak bize,
Parolamız ileri,
Dünyaya örnek olsun,
Çalışkan Türk gençleri.



1. Kalbimizde ne yaşıyor?

2. Yurdumuzu kurtaran kim-
dir?





3. Bize yasak olan şey nedir?

4. Dünyaya kim örnek olacak?

Türkçe

Aşağıdaki tabloya göre soruları cevaplayalım.

Tablo: Bahçedeki Meyve Ağaçları

MEYVELER	SAYISI
Elma	
Muz	
Armut	
Portakal	

 Bahçedeki elma ağacı sayısı kaçtır?

.....

 Muz ve portakal ağaçlarının toplamı kaçtır?

.....

 Bahçedeki armut ağacı sayısı kaçtır?

.....

 Elma ağaçları muz ağacından kaç fazladır?

.....

 Bahçede hangi ağaçlar eşit sayıdadır?





.....

 Bahçede hangi ağaçlar eşit sayıdadır?

.....

Aşağıdaki tabloya göre soruları cevaplayalım..

Tablo: Okulumuzda Bulunan Toplar

TOPLAR	SAYISI
Futbol topu	
Basketbol topu	
Voleybol topu	
Hentbol topu	



Futbol topu sayısı kaçtır?

.....



Okulumuzda bulunan en az top hangi oyunundur?

.....



Basketbol topu sayısı kaçtır?

.....



Voleybol topu hentbol topundan kaç fazladır?

.....



Futbol ve voleybol topları toplam sayısı kaçtır?



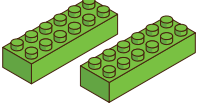

.....



Basketbol, voleybol ve hentbol topları toplam sayısı kaçtır?

.....

1. Aşağıdaki tabloyu inceleyelim. Soruları cevaplandıralım.

OYUNCAKLAR	
	7
	9
	6
	4

A. Sayısı en az ve en çok olan oyuncakları yazalım.

En az :

En çok :

B. Bebeklerle, legoların toplamı kaçtır?

.....





C. Arabalarla, uçakların toplamı kaçtır?

.....

Ç. Bebeklerle, arabaların farkı kaçtır?

.....

2. Aşağıdaki tabloyu inceleyelim. Soruları cevaplandıralım.

HAYVANLAR	
	10
	8
	5
	12

A. Kuşlarla, tavşanların toplamı kaçtır?

.....

B. İneklerle, koyunların farkı kaçtır?

.....

C. Tavşanlarla, kuşların toplamı kaçtır?

.....

Ç. İnekler, kuşlardan kaç fazladır?

.....

Aşağıda verilen bilgilere göre nesne grafiğini dolduralım.

Bir sınıfta 7 kişi muz, 5 kişi elma, 6 kişi çilek, 4 kişi de armut sevmektedir.

Nesne Grafiği	
Muz	
Elma	
Çilek	
Armut	
Her şekil 1 meyveyi gösterir.	

Bir okulda 12 kişi basketbol, 16 kişi futbol, 8 kişi resim, 10 kişi müzik, 4 kişi de tenis kursuna gidiyor.

Nesne Grafiği	
Basketbol	
Futbol	
Resim	
Müzik	
Tenis	
Her şekil 2 kişiyi gösterir.	

1/A sınıfında yapılan sınıf başkanlığı seçiminde adayların aldığı oy sayıları aşağıdaki tabloda verilmiştir.

Öğrenciler	Oy Sayıları
Kübra	6
Elif	8
Zehra	4
Sefa	5
Samet	6

1. En az oy alan öğrenci kimdir?

.....

2. Zehra ve Sefa'nın oy sayıları toplamı kaçtır?

.....

3. Hangi öğrenciler eşit oy almıştır?

.....

4. Sınıf başkanı kim olmuştur?

.....

5. En az ve en fazla oy alan öğrencilerin toplamı kaçtır?

.....

6. Kübra'nın oy sayısı Zehra'nın oy sayısından kaç fazladır?

.....

7. Sefa'nın oy sayısı, Elif'in oy sayısından kaç eksiktir?

.....

Aşağıdaki tabloyu ve nesne grafiğini sınıf arkadaşlarımızdan bilgi alarak dolduralım.

Arkadaşlarımıza verilen renklerden en sevdikleri rengi soralım.

Nesne Grafiği	
Kırmızı	
Sarı	
Yeşil	
Mavi	
Pembe	
Her şekil kişiyi gösterir.	

Renk Tablosu	
Kırmızı	
Sarı	
Yeşil	
Mavi	
Pembe	

1- Sınıfınızda en çok hangi renk seviliyor?

2- Sınıfınızda en az hangi renk seviliyor?

3- Sarı ve mavi renk sevenlerin toplamı kaçtır?

4- En sevilen renk ile en az sevilen renk arasındaki fark kaçtır?

5- Pembe renk sevenler ile yeşil renk sevenlerin toplam sayısı kaçtır?

Aşağıdaki problemleri karşılarına çözelim.

Aslı 6 sayfa kitap okudu. Rüya Aslı'dan 5 sayfa fazla kitap okudu. İkisi toplam kaç sayfa kitap okudu?

20 sayısının 5 eksiğinin 7 fazlası kaçtır?

6 yıl önce 7 yaşında olan Ceren, ablasından 5 yaş küçüktür. Ceren'in ablasının yaşı kaçtır?

Çiğdem kitaplığına önce 7, sonra 5 kitap dizdi. Geriye 9 kitabı kaldığına göre Çiğdem'in kaç kitabı var?

15 ile 3 sayısını toplayıp, 10 sayısını çıkardığımızda bulunan sayı kadar elmadan kaç yarım elma elde edilir?

Sare ile kardeşinin yaşı toplamı 16'dır. Kardeşi 5 yıl önce 2 yaşında olduğuna göre Sare kaç yaşındadır?

Bir sınıfta 8 kız, kızlardan 4 fazla erkek öğrenci var. Bu sınıfta toplam kaç öğrenci vardır?

Aşağıdaki davranışlardan doğru olanların kutucuğunu yeşile, yanlış olanların kutucuğunu kırmızıya boyayalım.

Sokaktaki hayvanlara kötü davranmak.

☐

Evimizdeki bitkileri sulamak.

☐

Yaz günlerinde hayvanların su içmesi için sokaklara su kabı koymak.

☐

Ağaçların dallarını kırmak.

☐

Evde beslenen hayvanı aç bırakmak.

☐

Okul bahçesindeki fidanları korumak.

☐

Sokak hayvanlarına mama vermek.

☐

Ormanlarda ateş yakmak.

☐

Çiçekleri koparmak.

☐

Ağacın dalındaki kuş yuvasını bozmak.

☐

Aşağıdaki cümlelerde boş bırakılan yerleri, verilen kelimelerden uygun olanı yazalım.

yaşama

şiddet

su ve yiyecek

çiçekleri

veteriner

bakımı

dallarını

fidan

sulanmayan

- 1- bitkiler bir süre sonra kurur.
- 2- Evde beslediğimiz hayvanların bizim sorumluluğumuzdur.
- 3- hekimler hayvan sağlığı ile ilgilenir.
- 4- Ağaçların kırmamalıyız.
- 5- Park ve bahçemizdeki koparmamalıyız.
- 6- Sokak hayvanları için kapları koymalıyız.
- 7- Ülkemizi ağaçlandırmak için dikmeliyiz.
- 8- Hayvanların ve bitkilerin de hakkı vardır.
- 9- Sokak hayvanlarına uygulamamalıyız.



1- Sınıfta kullandığımız 4 eşyanın adını yazalım.

1- 2- 3- 4-

2- Aile üyeleri birbirine nasıl davranmalıdır? Yazalım.

.....

.....

.....

3- Okul çantamızı hazırlarken nelere dikkat etmeliyiz?

.....

.....

.....

4- Ev kazalarından korunmak için nelere dikkat etmeliyiz?

.....

.....

.....

5- Ece okul bahçesinde oynarken Zeynep'e çarptı. Ece ne yapmalıdır?

.....

6- Sabah ilk derse geç gelen Gökhan ne yapmalıdır?

.....



7- Aşağıdaki trafik işaret levhalarının adını yazalım.



.....



.....



.....



.....

8- Sağlıklı olmak için neler yapmalıyız?

.....

.....

.....

9- Güvenli oyun alanlarını yazalım.

.....

10- Yaşadığınız yer hangi ilçe ve ile bağlıdır? Yazalım.

.....

11- Aşağıda verilen yerlerin tarihi mi, doğal güzellik mi olduğunu yazalım.

Galata Kulesi: Pamukkale Travertenleri:

Tuz Gölü: Sultan Ahmet Camii:

12- Aşağıda istenilen bilgileri yazalım.

Ülkemizin Adı: Bayrağımızın Rengi:

Ülkemizin Başkenti: Milli Marşımızın Adı:

1. Aşağıdakilerden hangisi eylem bildiren bir kelimedir?

- A) kitaplık
- B) beklemek
- C) çiçek

2. Aşağıdaki cümlelerden hangisinin sonuna farklı bir noktalama işareti gelmelidir?

- A) Ali size geldi mi
- B) Elma sever misin
- C) Ada acıktı mı bilmiyorum.

3. Hangi kelime hece sayısı bakımından diğerlerden farklıdır?

- A) Cumhuriyet
- B) özgürlük
- C) kabiliyet

4. Hangi görselin adı tek hecelidir?

- A) 
- B) 
- C) 

5. "kırmızı" kelimesi hangi kelimenin özelliğini belirtmez?

- A) elma
- B) inmek
- C) ayakkabı

6. Aşağıdaki kelimelerden hangisi tekil bir isimdir?

- A) papatyalar
- B) silgiler
- C) defter

7. Aşağıdaki cümlelerin hangisinde özel isim kullanılmıştır?

- A) Şule akşam bize gelecek.
- B) Babam ile akşam tiyatroya gideceğiz.
- C) Ülkemizde çok sayıda doğal güzellikler var.

Tablo: Bir bahçede yetişen ağaç sayıları

Elma	9
Armut	7
Kiraz	8
Şeftali	7
Erik	6

8.-9.ve 10.soruyu tabloya göre cevaplayalım.

8. Bahçede en fazla yetişen ağaç hangisidir?

A) Erik B) Elma C) Kiraz

9. Bahçede toplam kaç ağaç vardır?

A) 33 B) 35 C) 37

10. En fazla yetişen ağaç ile en az yetişen ağaç arasındaki fark kaçtır?

A) 3 B) 4 C) 5

11. Gül ile kardeşinin yaşının toplamı 20'dir. 4 yıl önce Gül 8 yaşında olduğuna göre kardeşinin yaşı kaçtır?

A) 6 B) 7 C) 8

12. Aşağıdakilerden hangisi yanlış bir davranıştır?

A) Hayvanlara su ve yiyecek vermek.

B) Hayvanları sevmemek.

C) İhtiyacı olan hayvana yardım etmek.

13. Aşağıdakilerden hangisi doğrudur?

A) Ağaçların dalını kırmak

B) Ağaç dikmek

C) Parktan çiçek koparmak

14. Bitkiler hangi mevsimde çiçek açar?

A) Yaz B) İlkbahar

C) Kış

1. Aşağıdakilerden hangisi eylem bildiren bir kelimedir?

A) kitaplık

☒ beklemek

C) çiçek

2. Aşağıdaki cümlelerden hangisinin sonuna farklı bir noktalama işareti gelmelidir?

A) Ali size geldi mi

B) Elma sever misin

☒ Ada acıktı mı bilmiyorum.

3. Hangi kelime hece sayısı bakımından diğerlerden farklıdır?

A) Cumhuriyet

☒ özgürlük

C) kabiliyet

4. Hangi görselin adı tek hecelidir?

A)



B)



☒



5. "kırmızı" kelimesi hangi kelimenin özelliğini belirtmez?

A) elma

☒ inmek

C) ayakkabı

6. Aşağıdaki kelimelerden hangisi tekil bir isimdir?

A) papatyalar

B) silgiler

☒ defter

7. Aşağıdaki cümlelerin hangisinde özel isim kullanılmıştır?

☒ Şule akşam bize gelecek.

B) Babam ile akşam tiyatroya gideceğiz.

C) Ülkemizde çok sayıda doğal güzellikler var.

Tablo: Bir bahçede yetişen ağaç sayıları

Elma	9
Armut	7
Kiraz	8
Şeftali	7
Erik	6

8.-9.ve 10.soruyu tabloya göre cevaplayalım.

8. Bahçede en fazla yetişen ağaç hangisidir?

A) Erik ☒ Elma C) Kiraz

9. Bahçede toplam kaç ağaç vardır?

A) 33 B) 35 ☒ 37

10. En fazla yetişen ağaç ile en az yetişen ağaç arasındaki fark kaçtır?

☒ 3 B) 4 C) 5

11. Gül ile kardeşinin yaşının toplamı 20'dir. 4 yıl önce Gül 8 yaşında olduğuna göre kardeşinin yaşı kaçtır?

A) 6 B) 7 ☒ 8

12. Aşağıdakilerden hangisi yanlış bir davranıştır?

A) Hayvanlara su ve yiyecek vermek.

☒ B) Hayvanları sevmemek.

C) İhtiyacı olan hayvana yardım etmek.

13. Aşağıdakilerden hangisi doğrudur?

A) Ağaçların dalını kırmak

☒ B) Ağaç dikmek



C) Parktan çiçek koparmak

14. Bitkiler hangi mevsimde çiçek açar?

A) Yaz ☒ B) İlkbahar

C) Kış

19 MAYIS ETKİNLİK SAYFASI



19 MAYIS ETKİNLİK SAYFASI

