











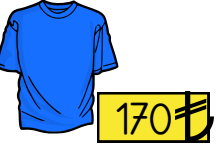



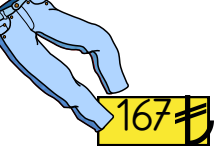




Aşağıdaki paraların toplam miktarlarını bulalım. Yanlarına yazalım.



Aşağıdaki ürünleri aldığımızda ödememiz gereken ücret için gerekli paraların kaç tane olduğunu yazalım.

<div>fiyat</div> <div>ürün</div>									
 <div>95 ₺</div>				4	1		5		
 <div>225 ₺</div>									
 <div>13 ₺</div>									
 <div>170 ₺</div>									
 <div>153 ₺</div>									
 <div>227 ₺</div>									
 <div>274 ₺</div>									
 <div>167 ₺</div>									
 <div>99 ₺</div>									
 <div>162 ₺</div>									

Aşağıda verilen paraların toplamını yanlarına yazalım.



.....



.....



.....



.....



.....

Aşağıda verilen paralardan değeri küçük olanın altına **az**, değeri büyük olanın altına **fazla** yazalım.

