

# 3. SINIF



## TÜRKÇE

*Okuduğunu Anlama  
Dilimize Yabancı Dillerden  
Giren Sözcükler  
Eş Sesli Kelimeler*

## MATEMATİK

*Kesir Problemleri  
Zaman Ölçme Birimleri Arasındaki İlişki  
Zaman Ölçme*

## HAYAT BİLGİSİ

*Güvendeyim*

## FEN BİLİMLERİ

*Sesin Şiddeti ve  
Uzaklık Arasındaki İlişki  
İşitme Kaybına Sebep Olabilecek  
Durumlar*

## İNGİLİZCE

*My House*

# 23. HAFTA

**Etkinlik**

Metni okuyalım. Soruları metne göre cevaplayalım.



## İNANMAZSANIZ ÖLÇÜN

Bir gün yolda iki komşusu Hoca'yı durdurmuş. Önce Hoca'ya hâl hatır sormuşlar. Sonra adamlardan uzun boylu olan:

- Hocam bizim merak ettiğimiz bazı şeyler var. Sana sorabilir miyiz, demiş. Hoca:

- Buyurun, sorun evladım. Bildiğim şeylerse elbet söylerim, demiş. Aslında adamların niyeti Hoca'ya cevaplayamayacağı sorular sorup onu zor durumda bırakmış. Uzun boylu adam:

- Hocam, Dünya'nın ortası neresi, diyerek ilk sorusunu sormuş.

Nasrettin Hoca kendinden emin cevap vermiş:

- Eşeğimin ayağını bastığı yer, Dünya'nın ortasıdır. Adamlar, Hoca'nın cevabını pek beğenmemişler. Uzun boylu adam alaylı alaylı:

- Doğru söylediğini nereden bileceğim, diye sormuş.

Nasrettin Hoca dudağını bükmüş:

- İnanmıyorsanız ölçün o zaman, demiş. Adam ikinci sorusuna geçmiş:


- Peki Hocam, gökyüzünde kaç yıldız var? Nasrettin Hoca:
- Gökyüzündeki yıldızların sayısı eşeğimin tüyleri kadar, demiş.
- Öyle şey olur mu Hocam, diyerek itiraz etmiş adam.

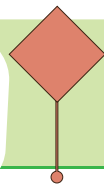
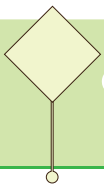
Hoca, sordukları her soruya bir cevap buluyormuş. Aralarında gizlice konuşmuşlar. Sonra uzun boylu olanı bir soru daha sormuş:

- Eee, peki Hocam, benim başımda kaç tel saç var? Nasrettin Hoca gülmüş. Adamın sorusunu kendinden emin bir şekilde cevaplamış:

- Eşeğimin kuyruğunda ne kadar tüy varsa senin başında da o kadar saç var. Adam bu cevaba itiraz etmiş:

- İyi de Hocam, nerden biliyorsun bunları? Hoca:
- Bak oğlum, eğer dediğime inanmıyorsan, bir tel senin saçından bir tüy eşeğimin kuyruğundan koparalım. Bitirinceye kadar devam edelim. O zaman eşit mi değil mi görürsün, demiş.





**Etkinlik**

Aşağıdaki soruları metne göre cevaplayalım.

Nasreddin Hoca'yı yolda kim / kimler durdurmuş?

.....

Nasreddin Hoca'yı durduranların asıl amacı neymiş?

.....

Nasreddin Hoca'nın cevabına göre Dünya'nın ortası neresiymiş?

.....

Nasreddin Hoca'ya göre gökyüzünde kaç yıldız varmış?

.....

Adamlardan biri 'başında kaç tel var?' sorusunun cevabına nasıl itiraz etmiş?

.....

Nasreddin Hoca, başındaki saç teli sayısını bulmak için adama nasıl bir çözüm sunmuş?

.....

Metnin konusu nedir?

.....


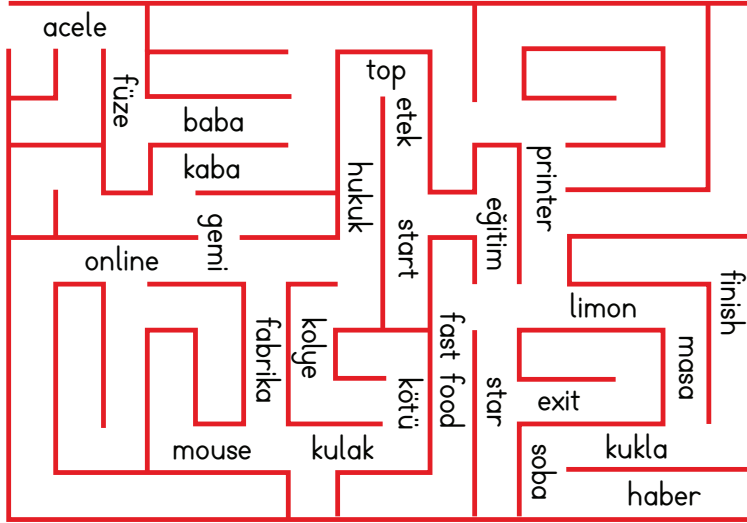
Metnin ana fikri nedir?

.....



## Etkinlik

Nasreddin Hoca eşeğini arıyor. Türkçe kelimeleri takip ederse bulabilecek. Nasreddin Hoca'ya yardım edelim.



## Etkinlik

Aşağıda verilen sözcükleri Türkçe karşılıkları ile eşleştirilim.

printer

hazır yemek

star

çevrim içi

fast food

tarafsız

finish

başlangıç

online

tam

start

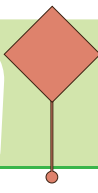
yıldız

ful

yazıcı

objektif

bitiş






## Yabancı Dillerden Alınan Sözcükler

3.  
SINIF

### Etkinlik

Aşağıda dilimize yabancı dillerden girmiş olan sözcükler numaralandırılmıştır. Bu numaraları, sözcüklerin Türkçe karşılıklarının yazıldığı tabelalara yazalım.



seslendirme



gösteri



tamam



engel



özçekim



iş yeri



şenlik



iki katlı



duyuru



sunucu



düğme




diz üstü  
bilgisayar


## Etkinlik

Aşağıda verilen sözcüklerden eş sesli olanları boyayalım.


Koş




Göz



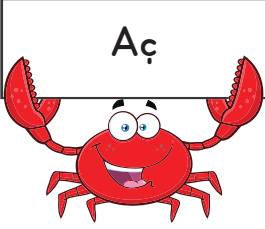
Ses




Bağ




Aç




Ben



Saz




Defter




Pazar



Kap




Saat




Gün




Güz




Yaz




Ton




Küp




Yaş




Sol

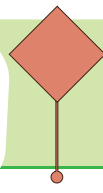
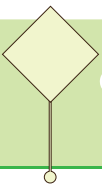


Sağ



Ünlü





#### Etkinlik

Aşağıda verilen cümlelerden eş sesli kelime kullanılmış olanların kutusunu boyayalım.

Sinema salonu dolu olduğu için filmi izleyemedik.

Ormanda yürüyüş yaparken bir dal parçasına takılıp düştüm.

Bugün günlerden çarşamba mı?

Kaz ve ördeklerin tüyleri su geçirmezdir.

Hafta sonu çok eğlenceli geçeceğe benziyor.

Kır çiçeklerinin açmaya başladığı mevsimdeyiz.

Şu hayatta en sevdiğim yüz annemin yüzü.

Baykuş ve yarasa gececil hayvanlardır.

Bu yüksek ses nereden geliyor?

En sevdiğim renk mavidir.

Çay, kahvaltılarının olmazsa olmazıdır.

## Etkinlik

Aşağıda verilen cümlelerdeki eş sesli kelimeyi bulalım ve bu kelimenin diğer anlamıyla yeni bir cümle kuralım.

En yakın arkadaşım ile aramızda güçlü bir bağ vardır.

.....

En sevdiğim oyuncu, maçta yedi sayı yaptı.

.....

Aç kapıyı, biz geldik.

.....

Yaş günü partim için çok heyecanlıyım.

.....

Göz, görmemizi sağlayan duyu organımızdır.

.....

Ben bu yola baş koydum, ya yapacağım, ya yapacağım.

.....

Sağ ve sol, günlük hayatımızı kolaylaştıran yönlerdir.

.....

Gözünün kenarındaki ben sana çok yakışıyor.

.....

**Etkinlik**

Her çocuğun söylediği kelimelerin farklı anlamları ile farklı cümleler kuralım.



.....

.....



.....

.....



.....

.....



.....

.....



.....

.....



.....

.....

1. Resim kulübündeki 78 öğrencinin  $\frac{1}{3}$ 'ü aynı zamanda müzik kulübüne de gidiyor. Buna göre bu iki kulübe toplam kaç öğrenci gidiyor?

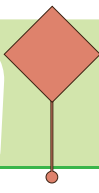
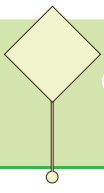
2. Bir sınıftaki 36 öğrencinin  $\frac{1}{6}$ 'i Galatasaray'ı,  $\frac{2}{6}$ 'si Fenerbahçe'yi tutuyor. Bu iki takımı tutan toplam öğrenci sayısı kaçtır?

3. 40 sayısının  $\frac{1}{5}$ 'i ile 30 sayısının  $\frac{1}{5}$ 'inin toplamı kaçtır?

4. Bir sütçü sağdığı 92 litre sütün  $\frac{1}{4}$ 'ünü sabah,  $\frac{2}{4}$ 'ünü öğleden sonra satıyor. Buna göre sütçünün elinde satmadığı kaç litre süt kalmıştır?

5. Bir çiçekçideki 84 demet çiçeğin  $\frac{1}{3}$ 'ü papatya,  $\frac{1}{3}$ 'ü lale, geriye kalanların hepsi güldür. Buna göre çiçekçide kaç demet gül vardır?

6. 64 sayısının  $\frac{1}{8}$ 'i ile  $\frac{2}{8}$ 'inin toplamı kaç eder?



## Kesir Problemleri

3.  
SINIF

1. 90 kilometrelik yolun  $\frac{1}{3}$ 'ini gidip mola veren bir arabanın gideceği kaç kilometre yolu kalmıştır?

2. 66 kişilik bir sınıfta öğrencilerin  $\frac{2}{3}$ 'si erkek olduğuna göre bu sınıfta kaç kız öğrenci vardır?

3. 75 kişi kapasiteli bir tiyatro salonunda biletlerin  $\frac{2}{5}$ 'si satılmıştır? Buna göre tiyatro salonunda biletli kaç izleyici vardır?

4. Bir sütçü 120 litre sütün  $\frac{4}{6}$ 'ünü satmıştır. Geriye satacağı kaç litre sütü kalmıştır?

5. Bir fırın günde 140 ekmek üretiyor. Ürettiği ekmeklerin ise her gün  $\frac{1}{7}$ 'ini ihtiyacı olanlara dağıtıyor. Fırın 1 haftada kaç ekmeği ihtiyacı olanlara dağıtır?

6. 5 düzine kalemin  $\frac{2}{4}$ 'si kırmızı,  $\frac{1}{4}$ 'i yeşil geri kalanı ise mavidir. Buna göre kaç mavi kalem vardır?

Matematik



## Etkinlik

Aşağıdaki boşlukları uygun ifadelerle dolduralım.

1

yılda  mevsim vardır.yılda  ay vardır.yılda  hafta vardır.yılda  gün vardır.

1

ayda  hafta vardır.ayda  gün vardır.haftada  gün vardır.

1

gün  saattir.saat  dakikadır.dakika  saniyedir.

### Etkinlik

Aşağıdaki boşlukları uygun ifadelerle dolduralım.

#### Haftanın Günleri

- .....
- .....
- .....
- .....
- .....
- .....
- .....

Dün

Bugün

Yarın

Cuma

Pazar

Salı

Perşembe

Pazartesi

Çarşamba

Cuma

- ◆ Bugün günlerden salı ise dün günlerden .....dir.
- ◆ Yarın günlerden cuma ise bugün günlerden .....dir.
- ◆ Dün günlerden pazar ise yarın günlerden .....dir.
- ◆ Yarın günlerden cumartesi ise dün günlerden .....dir.
- ◆ Bugün günlerden çarşamba ise yarın günlerden .....dir.
- ◆ Dün günlerden salı ise bugün günlerden .....dir.

## Etkinlik

Aşağıdaki boşlukları uygun ifadelerle dolduralım.

## Yılın Ayları

- .....
- .....
- .....
- .....
- .....
- .....
- .....
- .....
- .....
- .....

Önceki  
ayŞimdiki  
aySonraki  
ay

Aralık

Mart

Haziran

Ağustos

Nisan

Temmuz

Mayıs

### Etkinlik

Aşağıdaki görsellerde verilen mevsimlerin adını ve bu mevsimlere ait olan ayları yazalım.



.....

.....

.....

.....

.....

.....



.....

.....

.....

.....

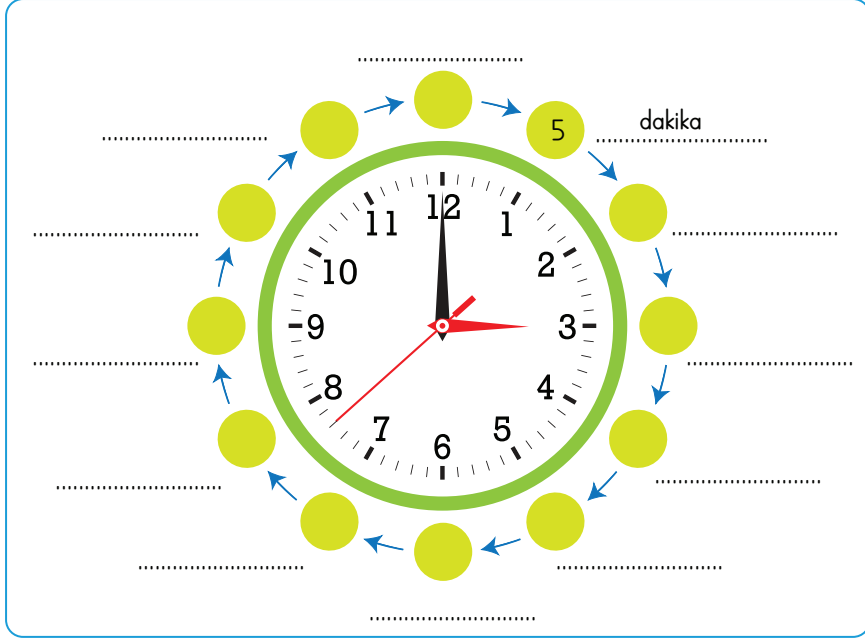
.....

.....



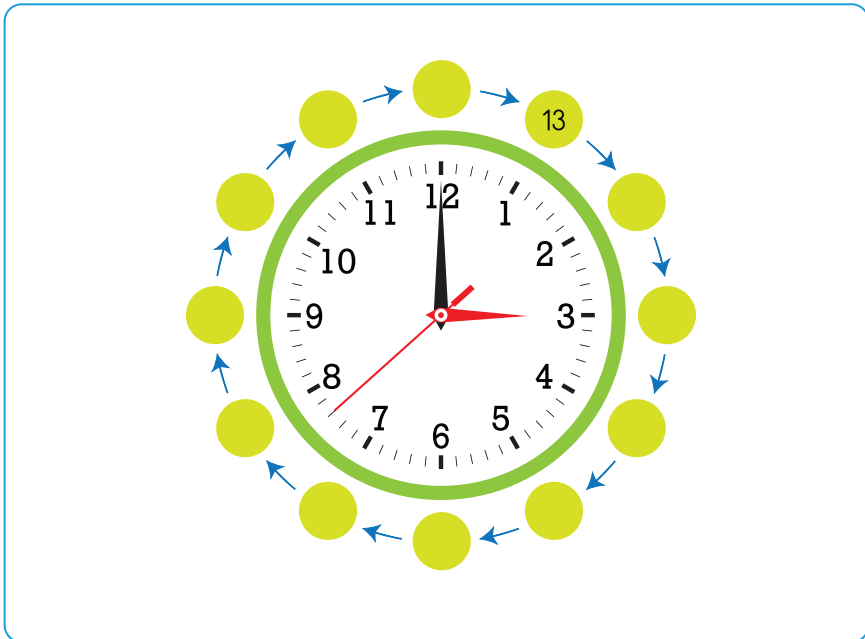
## Etkinlik

Analog saatlerde yelkovan bir sayıdan sonraki sayıya ilerlediğinde 5 dakika geçmiş olur. Bu bilgiye göre aşağıda verilen görseldeki boşlukları dolduralım.



## Etkinlik

Analog saatlerde, öğleden sonraki saatleri bulmak için akrebin gösterdiği saate 12 ekleriz. Aşağıda verilen analog saatteki boşlukları bu bilgiye göre uygun sayılarla dolduralım.



### Etkinlik

Aşağıdaki saatlerin gösterdiği zamanları örnekteki gibi yazalım.



Öğleden Önce:

11.30

Öğleden Sonra:

23.30

Okunuşu:

On bir buçuk



Öğleden Önce:

Öğleden Sonra:

Okunuşu:



Öğleden Önce:

Öğleden Sonra:

Okunuşu:



Öğleden Önce:

Öğleden Sonra:

Okunuşu:



Öğleden Önce:

Öğleden Sonra:

Okunuşu:



Öğleden Önce:

Öğleden Sonra:

Okunuşu:



Öğleden Önce:

Öğleden Sonra:

Okunuşu:



Öğleden Önce:

Öğleden Sonra:

Okunuşu:



Öğleden Önce:

Öğleden Sonra:

Okunuşu:



Öğleden Önce:

Öğleden Sonra:

Okunuşu:



Öğleden Önce:

Öğleden Sonra:

Okunuşu:



Öğleden Önce:

Öğleden Sonra:

Okunuşu:

## Etkinlik

Aşağıdaki saatlerin gösterdiği zamanları örnekteki gibi yazalım.



Öğleden Önce:

02.45

Öğleden Sonra:

14.45

Okunuşu:

Üç çeyrek kala



Öğleden Önce:

Öğleden Sonra:

Okunuşu:



Öğleden Önce:

Öğleden Sonra:

Okunuşu:



Öğleden Önce:

Öğleden Sonra:

Okunuşu:



Öğleden Önce:

Öğleden Sonra:

Okunuşu:



Öğleden Önce:

Öğleden Sonra:

Okunuşu:



Öğleden Önce:

Öğleden Sonra:

Okunuşu:



Öğleden Önce:

Öğleden Sonra:

Okunuşu:



Öğleden Önce:

Öğleden Sonra:

Okunuşu:



Öğleden Önce:

Öğleden Sonra:

Okunuşu:



Öğleden Önce:

Öğleden Sonra:

Okunuşu:



Öğleden Önce:

Öğleden Sonra:

Okunuşu:

### Etkinlik

Aşağıdaki saatlerin gösterdiği zamanları örnekteki gibi yazalım.



Öğleden Önce:

11.00

Öğleden Sonra:

23.00

Okunuşu:

On bir



Öğleden Önce:

Öğleden Sonra:

Okunuşu:



Öğleden Önce:

Öğleden Sonra:

Okunuşu:



Öğleden Önce:

Öğleden Sonra:

Okunuşu:



Öğleden Önce:

Öğleden Sonra:

Okunuşu:



Öğleden Önce:

Öğleden Sonra:

Okunuşu:



Öğleden Önce:

Öğleden Sonra:

Okunuşu:



Öğleden Önce:

Öğleden Sonra:

Okunuşu:



Öğleden Önce:

Öğleden Sonra:

Okunuşu:



Öğleden Önce:

Öğleden Sonra:

Okunuşu:



Öğleden Önce:

Öğleden Sonra:

Okunuşu:



Öğleden Önce:

Öğleden Sonra:

Okunuşu:



## Etkinlik

Aşağıdaki saatlerin gösterdiği zamanları örnekteki gibi yazalım.



Öğleden Önce:

07.15

Öğleden Sonra:

19.15

Okunuşu:

Yedi on beş



Öğleden Önce:

Öğleden Sonra:

Okunuşu:



Öğleden Önce:

Öğleden Sonra:

Okunuşu:



Öğleden Önce:

Öğleden Sonra:

Okunuşu:



Öğleden Önce:

Öğleden Sonra:

Okunuşu:



Öğleden Önce:

Öğleden Sonra:

Okunuşu:



Öğleden Önce:

Öğleden Sonra:

Okunuşu:



Öğleden Önce:

Öğleden Sonra:

Okunuşu:



Öğleden Önce:

Öğleden Sonra:

Okunuşu:



Öğleden Önce:

Öğleden Sonra:

Okunuşu:



Öğleden Önce:

Öğleden Sonra:

Okunuşu:



Öğleden Önce:

Öğleden Sonra:

Okunuşu:

### Etkinlik

Aşağıda verilen görselde Öykü, arkadaşlarına sesleniyor. Buna göre aşağıdaki ifadelerden doğru olanların kutusunu sarıya boyayalım.



Öykü'nün sesini en şiddetli duyan .....tır.

Tuğrul, Öykü'nün sesini en ..... şiddette duyan arkadaşındır.

Seher, Öykü'nün sesini Nejat'tan daha ..... şiddette duyar.

Ayhan ve Seher, Öykü'nün sesini ..... şiddette duyar.

Defne, Öykü'nün sesini Tuğrul'a göre daha ..... duyar.

Nejat, Öykü'ye en ..... mesafede olan arkadaşı olduğu için sesi en şiddetli duyar.

Tuğrul, Öykü'ye en ..... mesafede olan arkadaşı olduğu için sesi en az şiddette duyar.

Nejat

yakın

şiddetli





eşit

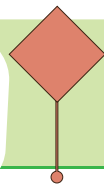
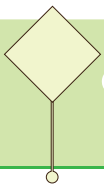
az

uzak

## Etkinlik

Çok şiddetli sesler ve bu seslere uzun süreli maruz kalmak işitme kaybına sebep olabilir. Aşağıda verilen görsellerden hangileri bu duruma örnek olabilir bulalım ve kutusuna **X** işareti atalım.





## İşitme Kaybına Sebep Olabilecek Durumlar

3.  
SINIF

### Etkinlik

Bazı meslek grupları şiddetli seslere maruz kalır ve kulak sağlıkları için ses geçirmeyen kulaklık kullanmalıdırlar. Aşağıda verilen görsellerden hangileri bu mesleklerdendir bulalım ve kutusuna ✓ işareti koyalım.



## Etkinlik

Aşağıdaki ifadelerden doğru olanların başına D, yanlış olanların başına Y harfi koyalım.



- ☐ Kulaklıkla uzun süre müzik dinlemek işitme kaybına sebep olabilir.
- ☐ Yüksek şiddetteki seslerin bulunduğu ortamlar kulak sağlığınıza iyi gelir.
- ☐ Yüksek şiddette ses çıkaran iş makinesi operatörleri, gürültü azaltıcı kulaklık kullanmalıdır.
- ☐ Hoparlör gibi sesin şiddetini yükselten aletlerin yakınında durmamalıyız.
- ☐ Film izlerken filmin sesini yükseltebildiğimiz kadar yükseltmeliyiz.
- ☐ Sınıfta gürültü önleyici kulaklık kullanmalıyız.
- ☐ Sesin şiddeti ne kadar yükselirse işitme kaybına uğrama riskimiz o kadar yükselir.
- ☐ Yüksek şiddette ses üreten meslek grubundaki insanların koruyucu gözlük takması işitme kaybına engel olur.
- ☐ Evden çıkarken mutlaka gürültü önleyici kulaklık takmalıyız.
- ☐ Hava alanındaki trafik kontrol görevlileri işitme kaybı yaşamamak için mutlaka kulaklık takmalıdır.
- ☐ Yüksek sesle müzik dinlemek kulaklarımız için zararlı değildir.

**Etkinlik**

Aşağıdaki boşlukları uygun kelimeleri seçerek dolduralım.

Bazen oyun alanlarımızda veya okulumuzda ..... insanlarla karşılaşabilir ve bu insanlardan bazı teklifler alabiliriz.

Bu gibi durumlarda hemen ..... ve ..... bilgilendirmeliyiz.

Tanımadığımız insanlardan gelen teklifleri ..... etmemeliyiz. Eğer bizi bir yere götürmeye çalışırsa veya istemediğimiz bir şeyi yapmaya zorlarsa hemen oradan ..... ve ..... yardım istemeliyiz.

Bize bu şekilde davranabilecek insanlar sadece yabancılar olmayabilir.

Arkadaşlarımızın da bizi zorlayıcı ..... veya teklifleri olabilir. Bizi kandırmaya çalışabilirler. Bu gibi durumlarda arkadaşlarımıza ..... diyebilmeli ve mutlaka öğretmenimizi, ailemizi .....

İnternet üzerinde oynadığımız oyunlarda eğer bizden ..... ,  
..... gibi kişisel bilgilerimiz istenirse asla paylaşmamalıyız.

Kişisel bilgilerimizi saklı tutmak ve yabancıardan gelen her türlü teklife hayır diyebilmek bizi ..... tutar.

çevreden

istekleri

ailemizi

adres

kabul

öğretmenimizi

uzaklaşmalı

bilgilendirmeliyiz

hayır


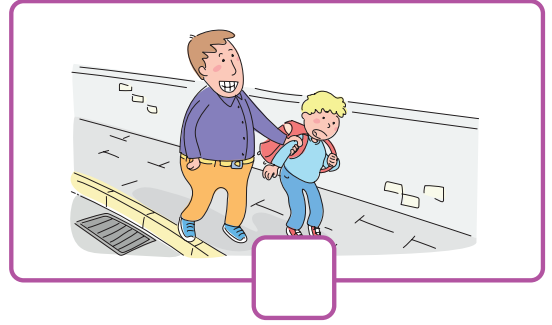

tanımadığımız

telefon numarası

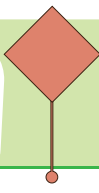
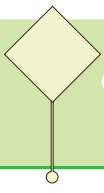
güvende

## Etkinlik

Aşağıda verilen görsellerde güvenliğimizi tehdit edecek durumların kutularına çarpı koyalım.







Etkinlik

Aşağıda bazı çocukların konuşmaları verilmiştir. Konuşmalarında doğruyu söyleyen çocukların kutusunu işaretleyelim.



Okuldan çıktığımda bahçede beni evime götüreceğini ve ailemin haberi olduğunu söyleyen biri yanıma geldi. Hiç düşünmeden onunla gittim. Ailemin haberi vardı sonuçta. Hiç yanlış olduğunu düşünmedim.



Hafta sonu hava çok güzeldi. Arkadaşlarımla parkta buluştuk. Biz salıncakta sallanırken yanıma bir anda bir kadın geldi ve hepimize çikolata aldığını söyledi. Arkadaşlarımdan biri çikolatayı tam alacaktı ki elini tutup; tanımadığımız insanlardan yiyecek almamalıyız diyerek uyardım.



Alışveriş merkezinde annemle gezerken bir an annemi gözden kaybettim. Benim heyecanla annemi aradığımı fark eden birisi yanıma geldi. Kolumdan tutup beni çekmeye ve hızlı hızlı yürütmeye başladı. O an bağırabildiğim kadar bağırdım ve çevreden ben bu insanı tanımıyorum diyerek yardım istedim.



Online oynadığım oyunda edindiğim arkadaşlarım var. Bir yandan oyun oynayıp bir yandan sohbet ediyoruz. Dün yine oyun esnasında sohbet ederken, arkadaşım evimin adresini sordu. Bana hediye yollayacaktı. Ne kadar güzel değil mi? Hemen ev adresimi verdim. Şimdi heyecanla hediyemi bekliyorum.





1. Aşağıdaki cümlelerde dilimize başka dillerden girmiş bazı kelimeler kullanılmıştır. Cümleleri, bu kelimelerin Türçe'sini kullanarak yeniden yazalım.

Sürekli fast food yiyerek beslenmek sağlıklı değildir.

.....

.....

Eve gittiğim gibi laptopumu açacağım.

.....

.....

Filmleri Türkçe dublajlı izlemeyi seviyorum.

.....

.....

Babam ofisteki işi bitince mi gelecek?

.....

.....

Bu boyama sayfasını printerden mı çıkardın?

.....

.....

2. Aşağıdaki tabloda dilimize yabancı dillerden girmiş olan kelimeleri boyayalım.

selfie	kalem	bariyer	mouse
dolap	spiker	dublex	uçak
kapı	anons	ses	festival
exit	ceket	buton	kâğıt

3. Aşağıdaki kelimelerden eş sesli olanları bulup, bu kelimelerden 2 tanesini seçip farklı anlamları ile cümle kuralım.

göz	silgi	araba	bin
sağ	sol	oyun	kara
yaş	mum	bel	dosya
ben	al	gel	aç

Kelime: .....

Cümle: .....

Cümle: .....

Kelime: .....

Cümle: .....

Cümle: .....

4. 92 sayısının  $\frac{1}{4}$ 'i ile  $\frac{2}{4}$ 'ünün toplamı kaçtır?

A large rectangular area filled with a light gray grid pattern, intended for drawing a picture.

5. Bir kitaplığın bir rafındaki kitaplar, kitaplıktaki tüm kitapların  $\frac{1}{9}$ 'idir. Kitaplıkta toplam

180 kitap olduğuna göre kitaplığın 3 rafında toplam kaç kitap vardır?

[illegible]

6. Aşağıda boş bırakılan yerleri uygun ifadelerle dolduralım.

1

yılda  mevsim vardır.

yılda  ay vardır.

yılda  hafta vardır.

yılda  gün vardır.

ayda  hafta vardır.

ayda  gün vardır.

haftada  gün vardır.

**7.** Aşağıdaki tabloda boş bırakılan yerleri dolduralım.

Dün	Bugün	Yarın
çarşamba		
	salı	
		cuma
	pazartesi	

8. Aşağıda verilen analog saatlerin kaçı gösterdiğini yazalım.



Öğleden Önce:

Öğleden Sonra:

Okunuşu:



Öğleden Önce:

Öğleden Sonra:

Okunuşu:

9. Aşağıda okunuşu verilen saatlerle, bu saatleri gösteren analog saatleri eşleştirelim.

Altı buçuk

Sekize çeyrek var

Dokuzu çeyrek geçiyor

On ikiyi çeyrek geçiyor.



10. Aşağıdaki ifadelerden doğru olanların başına D, yanlış olanların başına Y harfi koyalım.

- ☐ Ambulansın sesi gittikçe azalıyorsa ambulans bizden uzaklaşıyor demektir.
- ☐ Arkadaşıma sırtım dönükse onların seslerini duyamam.
- ☐ Aşağıdan seslendiğimde beni 1. katta oturan arkadaşım, 2. katta oturan arkadaşıma göre daha şiddetli duyar.
- ☐ Yalnızca görebildiğim ses kaynaklarının sesini duyabilirim.

11. Aşağıdaki ifadelerden hangileri kulak sağlığımız için zararlıdır? İşaretleyelim.

- ☐ Çok yüksek sesli ortamlarda uzun süre vakit geçirmek.
- ☐ Sınıfta öğretmeni dinlemek.
- ☐ Kulaklıkla uzun süre müzik dinlemek.
- ☐ Araba yolculuğu yapmak.
- ☐ Şarkı söylemek.
- ☐ Arkadaşımızın kulağına bağırarak.
- ☐ Soğuk havalarda kulaklarımızı sıcak tutmak için kulaklık takmak.

12. Aşağıdaki durumlarda ne yapılması gerektiğini yazalım.

Online oyunda ev adresimi isteyen bir arkadaşım var.

Okul çıkışında arkadaşlarım beni ısrarla evine çağırıyor.

Sınıf arkadaşım her gün ona para getirmemi istiyor.

Tanımadığım insanlar karşı evin penceresine tırmanıyor.

1. Aşağıdaki cümlelerde dilimize başka dillerden girmiş bazı kelimeler kullanılmıştır. Cümleleri, bu kelimelerin Türçe'sini kullanarak yeniden yazalım.

Sürekli fast food yiyerek beslenmek sağlıklı değildir.

Sürekli hazır yemek yemek sağlıklı değildir.

Eve gittiğim gibi laptopumu açacağım.  
Eve gittiğim gibi diz üstü bilgisayarımı açacağım.

Filmleri Türkçe dublajlı izlemeyi seviyorum.  
Filmleri Türkçe seslendirmeli izlemeyi seviyorum.

Babam ofisteki işi bitince mi gelecek?  
Babam iş yerindeki işi bitince mi gelecek?

Bu boyama sayfasını printerdan mı çıkardın?  
Bu boyama sayfasını yazıcıdan mı çıkardın?

2. Aşağıdaki tabloda dilimize yabancı dillerden girmiş olan kelimeleri boyayalım.

selfie	kalem	bariyer	mouse
dolap	spiker	dublex	uçak
kapı	anons	ses	festival
exit	ceket	buton	kâğıt

3. Aşağıdaki kelimelerden eş sesli olanları bulup, bu kelimelerden 2 tanesini seçip farklı anlamları ile cümle kuralım.

göz	silgi	araba	bin
sağ	sol	oyun	kara
yaş	mum	bel	dosya
ben	al	gel	aç

Kelime: .....

Cümle: .....

Cümle: .....

Kelime: .....

Cümle: .....

Cümle: .....

Öğrenci Yorumu

4. 92 sayısının  $\frac{1}{4}$ 'i ile  $\frac{2}{4}$ 'ünün

toplamı kaçtır?

$$92 \div 4 = 23$$

$$23 \times 2 = 46$$

$$23 + 46 = 69$$

5. Bir kitaplığın bir rafındaki kitaplar, kitaplıktaki tüm kitapların  $\frac{1}{9}$ 'idir. Kitaplıkta toplam

180 kitap olduğuna göre kitaplığın 3 rafında toplam kaç kitap vardır?

$$180 \div 9 = 20 \text{ bir raftaki kitap sayısı}$$

$$20 \times 3 = 60 \text{ üç raftaki kitap sayısı}$$

6. Aşağıda boş bırakılan yerleri uygun ifadelerle dolduralım.

1 yılda 4 mevsim vardır.  
yılda 12 ay vardır.  
yılda 52 hafta vardır.  
yılda 365 gün vardır.  
ayda 4 hafta vardır.  
ayda 30 gün vardır.  
haftada 7 gün vardır.

7. Aşağıdaki tabloda boş bırakılan yerleri dolduralım.

Dün	Bugün	Yarın
çarşamba	perşembe	cuma
pazartesi	salı	çarşamba
çarşamba	perşembe	cuma
pazar	pazartesi	salı

8. Aşağıda verilen analog saatlerin kaç gösterdiğini yazalım.



Öğleden Önce:  
10.45

Öğleden Sonra:  
22.45

Okunuşu:  
On bire çeyrek var.



Öğleden Önce:  
6.15

Öğleden Sonra:  
18.15

Okunuşu:  
Altıyı çeyrek geçiyor.

9. Aşağıda okunuşu verilen saatlerle, bu saatleri gösteren analog saatleri eşleştirelim.

Altı buçuk

Sekize çeyrek var

Dokuzu çeyrek geçiyor

On ikiyi çeyrek geçiyor.



10. Aşağıdaki ifadelerden doğru olanların başına D, yanlış olanların başına Y harfi koyalım.

- ☒ Ambulansın sesi gittikçe azalıyorsa ambulans bizden uzaklaşıyor demektir.
- ☒ Arkadaşlarıma sırtım dönükse onların seslerini duyamam.
- ☒ Aşağıdan seslendiğimde beni 1. katta oturan arkadaşım, 2. katta oturan arkadaşıma göre daha şiddetli duyar.
- ☒ Yalnızca görebildiğim ses kaynaklarının sesini duyabilirim.

11. Aşağıdaki ifadelerden hangileri kulak sağlığımız için zararlıdır? İşaretleyelim.

- ☒ Çok yüksek sesli ortamlarda uzun süre vakit geçirmek.
- ☐ Sınıfta öğretmeni dinlemek.
- ☒ Kulaklıkla uzun süre müzik dinlemek.
- ☐ Araba yolculuğu yapmak.
- ☐ Şarkı söylemek.
- ☒ Arkadaşımızın kulağına bağırmak.
- ☐ Soğuk havalarda kulaklarımızı sıcak tutmak için kulaklık takmak.

12. Aşağıdaki durumlarda ne yapılması gerektiğini yazalım.

Online oyunda ev adresimi isteyen bir arkadaşım var.

Öğrenci  
Yorumu

Okul çıkışında arkadaşlarım beni ısrarla evine çağırıyor.

Öğrenci  
Yorumu

Sınıf arkadaşım her gün ona para getirmemi istiyor.

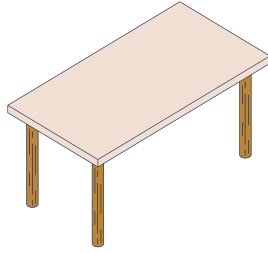
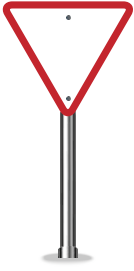
Öğrenci  
Yorumu

Tanımadığım insanlar karşı evin penceresine tırmanıyor.

Öğrenci  
Yorumu

## MY HOUSE

Match the shapes with pictures .



RECTANGLE

TRIANGLE

CIRCLE

SQUARE


Write "Yes, it is." or "No, it isn't".

Boşluklara uygun cevapları yazınız.



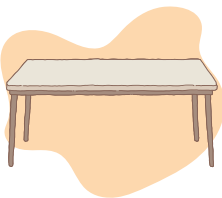
A : Is it rectangle?

B :



A : Is it square?

B :



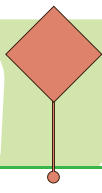
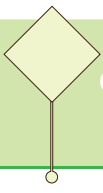
A : Is it round?

B :



A : Is it triangle?

B :



1.



Verilen görsele göre hangi seçenek doğrudur?

- A) My mother is in the bedroom.
- B) My father is in the bathroom.
- C) My mother is in the kitchen.

2. The cat is ..... the table  
The dog is .....the table.

Yandaki resme göre verilen boşluklara uygun kelimeler hangileridir?



- A) on - in
- B) on - under
- C) in - on

3.



sofa

bathroom



kettle

kitchen



cup

kitchen

Verilen eşleştirmelerden hangisi yanlıştır?

A)



B)



C)



4.

? upboard  
? owel

"?" yerine hangi harfler yazılmalıdır.

- A) C - H
- B) N - L
- C) C - T

5.

book

The

on

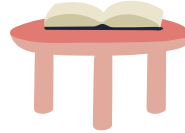
is

table


the

Kelimeleri karışık verilen cümlede kelimeler doğru sıralanırsa hangi görsel ortaya çıkar?


A)



B)



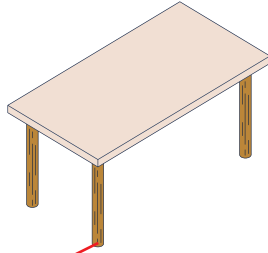

C)





## MY HOUSE

Match the shapes with pictures .



RECTANGLE

TRIANGLE

CIRCLE

SQUARE


Write "Yes, it is." or "No, it isn't".

Boşluklara uygun cevapları yazınız.



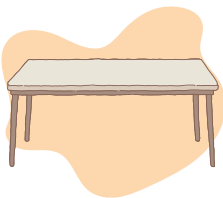
A : Is it rectangle?

B : No, it isn't.



A : Is it square?

B : Yes, it is.



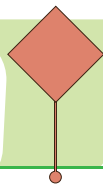
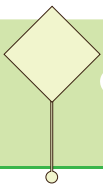
A : Is it round?

B : No, it isn't.



A : Is it triangle?

B : Yes, it is.



1.



Verilen görsele göre hangi seçenek doğrudur?

- A) My mother is in the bedroom.  
B) My father is in the bathroom.  
☒ C) My mother is in the kitchen.

2. The cat is ..... the table  
The dog is .....the table.

Yandaki resme göre verilen boşluklara uygun kelimeler hangileridir?



- A) on - in  
☒ B) on - under  
C) in - on

3.



sofa

bathroom



kettle

kitchen



cup

kitchen

Verilen eşleştirmelerden hangisi yanlıştır?

- A)  ☒  C) 

4.

? upboard  
? owel

"?" yerine hangi harfler yazılmalıdır.

- A) C - H  
B) N - L  
☒ C) C - T

5.

book

The

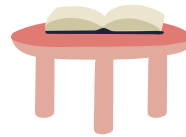
on

is


table

the

Kelimeleri karışık verilen cümlede kelimeler doğru sıralanırsa hangi görsel ortaya çıkar?



B)



C)

