

1. SINIF



TÜRKÇE

Okuduğunu Anlama
Kelimenin Çağrışımları
Zıt Anımlı Kelimeler
Noktalama İşaretleri
Cümle Oluşturma

HAYAT BİLGİSİ

Güvenli Yolculuk Trafik Kuralları

MATEMATİK

**Çıkarma İşlemi Gerektiren
Problemler**
İki İşlem Gerektiren Problemler
Toplamı 10 Olan Sayılar

24. HAFTA

Ablam

Benim adım Sevda. Ben on yaşımdayım. Benim bir ablam var. Adı Yelda. Ablam Ankara'da büyük bir alışveriş merkezinde bulunan bir giyim mağazasında çalışıyor. Ablam işini çok seviyor. Hem yeni insanlarla tanışıyor. Hem de yeni elbiseleri ilk ablam görüyor. Ablam hafta sonları binicilik kulübüne gidiyor. Ata binmeyi çok seviyor. Bir hafta sonu beni de götürdü. Ata binmek tehlikelidir. Bu yüzden biniciler ata binerken kask takmalıdır. Ablam çok iyi bir binici olmak istiyor. Ben ata binerken çok heyecanlıyım. Korkarak bindim. Ama ata binmeyi çok sevdim.

Aşağıdaki soruları metne göre cevaplayalım.

- 1) Çocuğun ablasının adı ne?
- 2) Sevda'nın ablası nerede çalışıyor?
- 3) Ablası hafta sonları nereye gidiyor?
- 4) Biniciler ata binerken ne takar?

Aşağıdaki ifadeleri metne göre doğru ise "D" yanlış ise "Y" harfi yazalım.

- ☐ Sevda'nın ablası işini seviyor.
- ☐ Ata binmek tehlikelidir.
- ☐ Yelda ata binmekten korkuyor.
- ☐ Yelda iyi bir binici olmak istiyor.
- ☐ Sevda ata binmek istemiyor.



Öfke Durağı

Deniz ailesinin en küçüğü, akıllı bir çocuktur. Deniz bu yıl okula başladı. Bir ablası ve bir abisi var. Deniz ablası ile çok iyi anlaşır. Abisi ile de anlaşır ancak bazen tartışabiliyorlar. Deniz, abisi ile bir sorun yaşadığında çok öfkeli oluyor. Bu öfkesi yüzünden bazen abisine kötü davranıyor. Sonra yaptığı bu kötü davranışlarından anne ve babasından uyarı alıyor. Zaten kendisi de yaptığı davranıştan pişman oluyor.



Deniz okulda arkadaşlarına da öfkelenildiği zaman doğru olmayan davranışlarda bulunabiliyor. Öğretmeni de Deniz'i uyarıyor. Ancak Deniz öfkesini kontrol edemiyor. Birgün öğretmeni Deniz'i yanına çağırdı:

- Deniz sen çok akıllı ve sevgi dolu bir çocuksun. Ancak öfkelenildiğinde arkadaşlarına zarar veriyorsun. Bu şekilde davranman hem arkadaşlarını hem de beni çok üzüyor, dedi.

- Öğretmenim ben de çok üzgünüm. Ama kızdığım zaman kendimi kontrol edemiyorum, dedi Deniz.

- Deniz çok kızgın olduğunda önce bir nefes al ve öfke durağında bekle. Öfke durağında ona kadar sayman gerek. Ona kadar saydıktan sonra tekrar bir nefes al ve düşün. Doğru olanı yap, dedi ve gülümsedi öğretmeni.

Deniz öğretmenini dinledi ve kızgın olduğunda nefes alıp ona kadar saydı ve tekrar nefes alıp düşündü. Sakinleşti ve öfkeyle davranmak yerine konuşmayı seçti. Öfke durağı işe yarıyordu. Deniz artık uyarı almadığı için de çok mutluydu.

Aşağıdaki soruları "Öfke Durağı" metnine göre cevaplayalım.

Sorular

1) Deniz kiminle iyi anlaşabiliyor?

.....

2) Deniz'i anne ve babası neden uyarıyor?

.....

3) Deniz kızgın olduğunda arkadaşlarına nasıl davranıyor?

.....

4) Öğretmeni Deniz'i neden uyarıyor?

.....

5) Öğretmeni, Deniz'e kızgın olduğunda ne yapmasını öneriyor?

.....

6) Deniz öğretmenin söylediği öfke durağını uyguladıktan sonra neler olmuş?

.....

.....

7) Siz kızgın olduğunuzda nasıl sakinleşiyorsunuz?sonra neler olmuş?

.....

.....

Aşağıdaki kelimelerin bize çağrıştırdığı 3 kelime yazalım.



Güneş



bayrak



iyilik



kalem



ülke



anne



kitap



top



dostluk



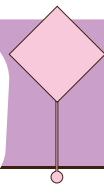
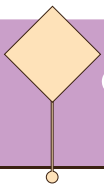
su



kaşık



sevgi



İnteraktif Defter Etkinliği

Zıt Anlamalı Kelimeler	büyük
	ileri
	erken
	var
	yukarı
	açık
	karanlık
	siyah
	ihtiyar
	usta
	güzel
	ilk
	faydalı
	zengin
	çıkış

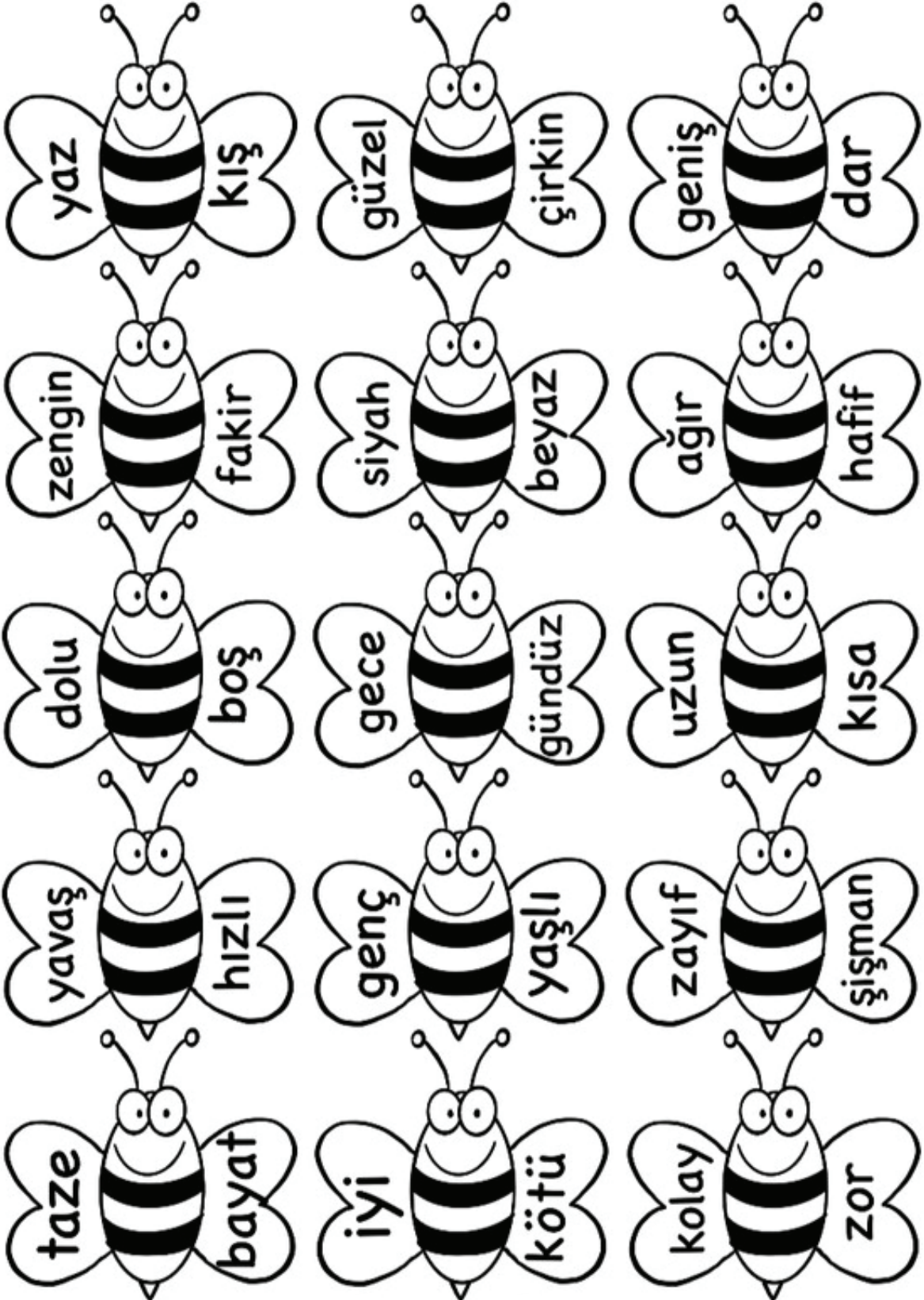



Bu tabloyu deftere yapıştır

Türkçe

Yukarıdaki kelimelerin zıt anlamlılarını boş tabloya yazalım. Defterimize yapıştıralım.








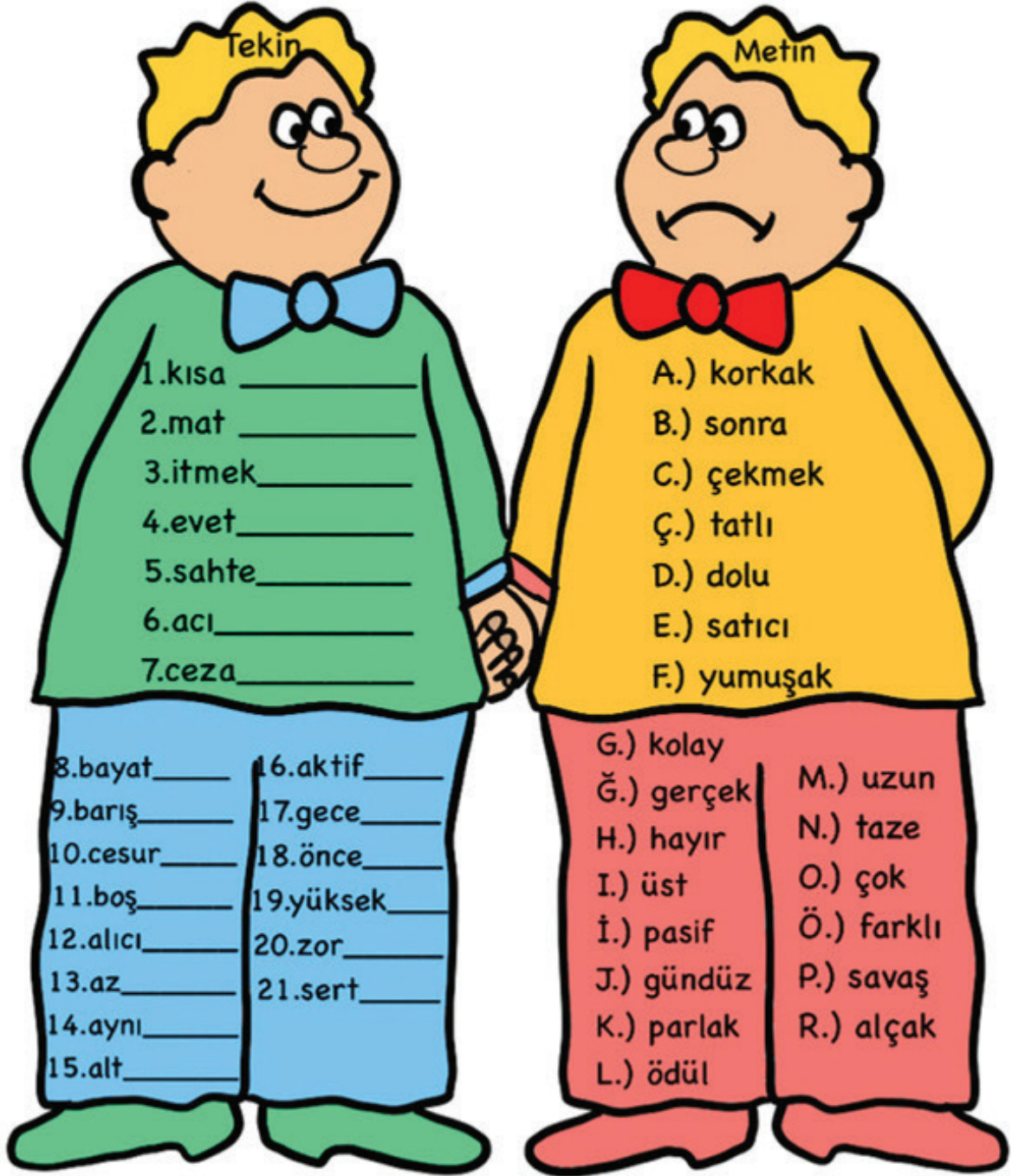
ZIT KARDEŞLER

Tekin ve Metin ikiz ama olduka zıt karakterler. Tekin'deki her kelimeyi Metin'deki zıttı ile eşleřtirin.



ZIT KARDEŞLER

Tekin ve Metin ikizler ama oldukça zıt karakterler. Tekin'deki her kelimeyi Metin'deki zıttı ile eşleştirin.



Aşağıdaki cümleleri okuyalım Sonuna gelmesi gereken noktalama işaretini boyayalım.

Nisa akşam kitap okudun mu	<input type="radio"/>	?
Ceren ile kursa katıldık	<input type="radio"/>	?
Bebek çok ağladı	<input type="radio"/>	?
Zeytin sever misin	<input type="radio"/>	?
Dayım yatın bize gelecek	<input type="radio"/>	?
Seninle oyun oynayalım mı	<input type="radio"/>	?
Ben de severim pasta	<input type="radio"/>	?
Çiçek sever mi bilmiyorum	<input type="radio"/>	?
Çok çalışarak başarılı olursun	<input type="radio"/>	?
Anne akşam film izleyelim mi	<input type="radio"/>	?
Berk hasta mı oldu	<input type="radio"/>	?
Sınıf kurallarına uymamız gerekir	<input type="radio"/>	?
Sınıf kurallarına uymamız gerekir	<input type="radio"/>	?
Çiğdem adil davrandın mı	<input type="radio"/>	?
Bu keki sen mi yaptın	<input type="radio"/>	?
Yolculuk sırasında emniyet kemeri takmalıyız	<input type="radio"/>	?
Fikret nerede oturuyorsun	<input type="radio"/>	?
Çalışmak başarmanın yarısıdır	<input type="radio"/>	?

t  

Ç   

40 

 e

O 

f  

 ZA

S  Gi

  k

G  r 

k  

P 

f   l


Aşağıdaki görellere uygun cümle yazar mısın?



Eren



Aslı Can



Deniz Hakan



Burak



Kıvanç ve annesi



Cenk



Mehmet



Yaren

1

.....

2

.....

3

.....

4

.....

5

.....

6

.....

7

.....

8

.....

Sedef pazardan balık aldı.
Kim balık aldı?
Nereden aldı?
Ne aldı?

Armin akşam kitap okudu.
Kim okudu?
Ne okudu?
Ne zaman okudu?

Taner matematik dersini
sever.
Kim sever?
Ne sever?

Can ile okulda kursa katıldık.
Kiminle katıldık?
Nerede katıldık?
Neye katıldık?

Demir ailesi ile tatile köye gitti.
Kim gitti?
Nereye gitti?
Kiminle gitti?

Yarın arkadaşlarla geziye
gideceğiz.
Kiminle gideceğiz?
Nereye gideceğiz?
Ne zaman gideceğiz?

Ayşe dün akşam tiyatroya
gitmiş.
Kim gitmiş?
Nereye gitmiş?
Ne zaman gitmiş?

Gözde dün salıncaktan düştü.
Kim düşmüş?
Nereden düşmüş?
Ne zaman düşmüş?

Aşağıdaki cümleleri okuyalım. Cümle doğruysa "D" cümle yanlışsa "Y" kutucuğunu boyayalım.

Okulda kurallara uymalıyız. ☐ D ☐

Arkadaşlarımıza vurmaliyiz. ☐ D ☐ Y

Çevremizi temiz tutmalıyız. ☐ D ☐ Y

Kedi hav hav der. ☐ D ☐ Y

Bayrağımız yeşil renktir. ☐ D ☐ Y

Aslanlar suda yaşar. ☐ D ☐ Y

Annemize yardım etmeliyiz. ☐ D ☐ Y

Havuç turuncudur. ☐ D ☐ Y

Yazın kar yağar. ☐ D ☐ Y

Ellerimizi yıkamamalyız. ☐ D ☐ Y

Yaşlılara saygı göstermeliyiz. ☐ D ☐ Y

Çocuklar araba sürer. ☐ D ☐ Y

Peynir süten yapılır. ☐ D ☐ Y

Tavşanlar ağaca yuva yapar. ☐ D ☐ Y



Aşağıdaki şiiri ezberleyelim ve en güzel yazımızla defterimize yazalım.

ÇANAKKALE DESTANI

Kınalı kuzuların yurt aşkı
Yaralı anaların ağıdı,
Kahraman şehitlerin yatağı
Çanakkale destanıdır.

Kahraman şehitlerin anıldığı
Vatan sevdasının yazıldığı
Seyit Onbaşı'nın kahramanlığı
Çanakkale destanıdır.

Anlatır milletler bu zaferi
İnançlıydı Türk'ün her neferi
Kazandığı büyük zaferi
Çanakkale destanıdır.

T	M	A	R	K	E	T	L	Ş	H	A	L	A	S
Z	H	V	İ	R	A	J	C	D	K	F	A	R	E
İ	K	A	N	T	İ	N	T	E	D	G	H	Ü	R
N	C	Y	A	Ğ	M	U	R	F	Z	K	L	O	E
C	İ	P	F	İ	L	O	N	T	B	E	B	E	K
İ	V	E	R	E	H	Ş	E	E	J	T	M	P	E
R	C	J	S	T	B	O	L	R	Ç	K	İ	E	V
H	İ	Ö	Ğ	R	E	T	M	E	N	N	Ü	Ç	J
N	V	T	P	A	S	T	A	P	Ü	R	G	L	E
Y	E	Ş	İ	L	S	K	Ü	Ç	Ü	K	E	B	T
B	P	D	E	Ğ	İ	R	M	E	N	E	H	İ	O
E	U	P	T	Ü	N	E	L	M	Ş	G	E	A	N
Ş	H	V	A	R	L	İ	K	G	J	E	A	M	Ş

VİRAJ

FARE

MARKET

HÜR

HALA

ZİNCİR

BEBEK

DEĞİRMEN

DEFTER

CİVCİV

YEŞİL

VARLIK

KANTİN

YAĞMUR

ÖĞRETMEN

JETON

TÜNEL

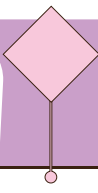
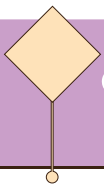
ÜÇ

BEŞ

FİL

PASTA

KÜÇÜK



Oyun Zamanı

1.
SINIF

İsim- Şehir- Hayvan...

Harf	İsim	Şehir	Hayvan	Eşya
A				
K				
Y				
M				
E				
R				
D				
O				
B				
i				
S				
V				
H				

Türkçe



www.renkli dersler.com

17

24. HAFTA

Aşağıdaki cümleleri tamamlamak için noktalı yerlere kutulardaki uygun olan sözcüğü yazalım.

1. Fatma kitap

geldi.

yedi.

koptu.

okudu.

2. Derya mektup

kokladı.

yazdı.

pişirdi.

döktü.

3. Miran araba

kokladı.

yazdı.

pişirdi.

döktü.

4. Aslı ile dayısı ağaçtan kiraz

geldi.

şışirdi.

topladı.

okudu.

5. Mehmet ödevlerini

pişirdi.

şışirdi.

topladı.

yaptı.

6. Gülden saksıya çiçek

ekti.

yazdı.

pişirdi.

oldu.

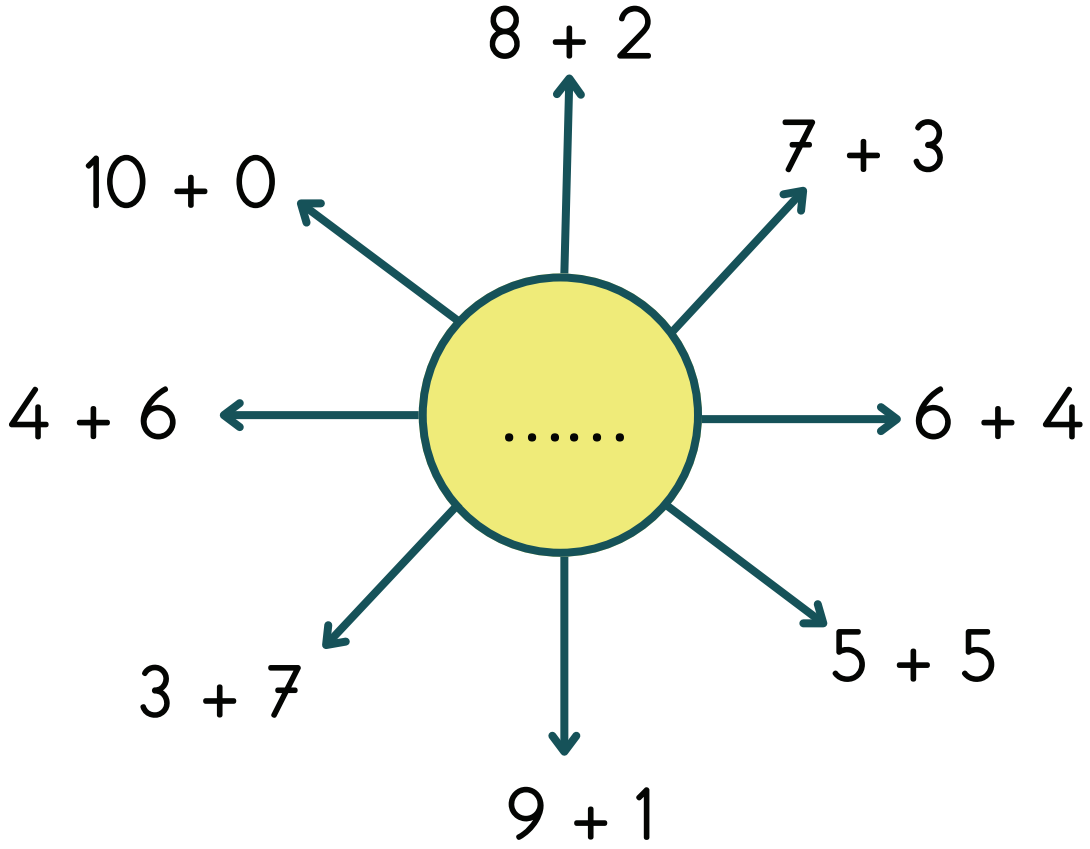
7. Jale arkadaşına yardım

ekti.

itti.

etti.

verdi.



$9 + 1 = \dots\dots$

$10 + 0 = \dots\dots$

$1 + 9 = \dots\dots$

$2 + 8 = \dots\dots$

$6 + 4 = \dots\dots$

$0 + 10 = \dots\dots$

$7 + 3 = \dots\dots$

$7 + 3 = \dots\dots$

$6 + 4 = \dots\dots$

$5 + 5 = \dots\dots$

$9 + 1 = \dots\dots$

$5 + 5 = \dots\dots$

$1 + 9 = \dots\dots$

$5 + 5 = \dots\dots$

$8 + 2 = \dots\dots$

$4 + 6 = \dots\dots$

$4 + 6 = \dots\dots$

$7 + 3 = \dots\dots$

$8 + 2 = \dots\dots$

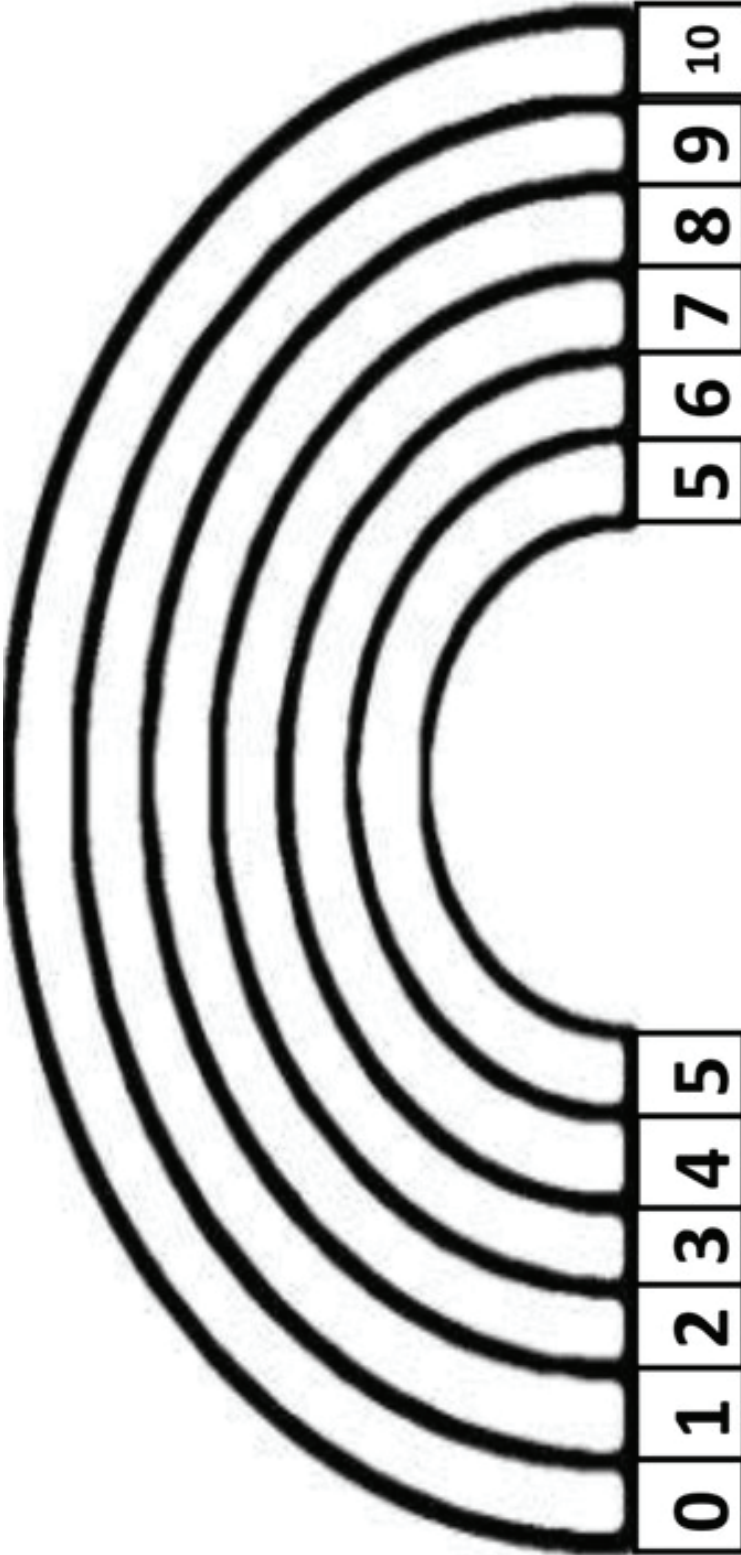
$2 + 8 = \dots\dots$

$2 + 8 = \dots\dots$

$3 + 7 = \dots\dots$

$7 + 3 = \dots\dots$

$3 + 7 = \dots\dots$



$$\dots + \dots = \dots$$

Aşağıdaki sayıların onluk ve birlik sayılarını örnekteki gibi yazalım.

Onluk	Birlik
4	5

45 =

Onluk	Birlik

8 =

Onluk	Birlik

16 =

Onluk	Birlik

10 =

Onluk	Birlik

5 =

Onluk	Birlik

30 =

Onluk	Birlik

93 =

Onluk	Birlik

17 =

Onluk	Birlik

55 =

Onluk	Birlik

84 =

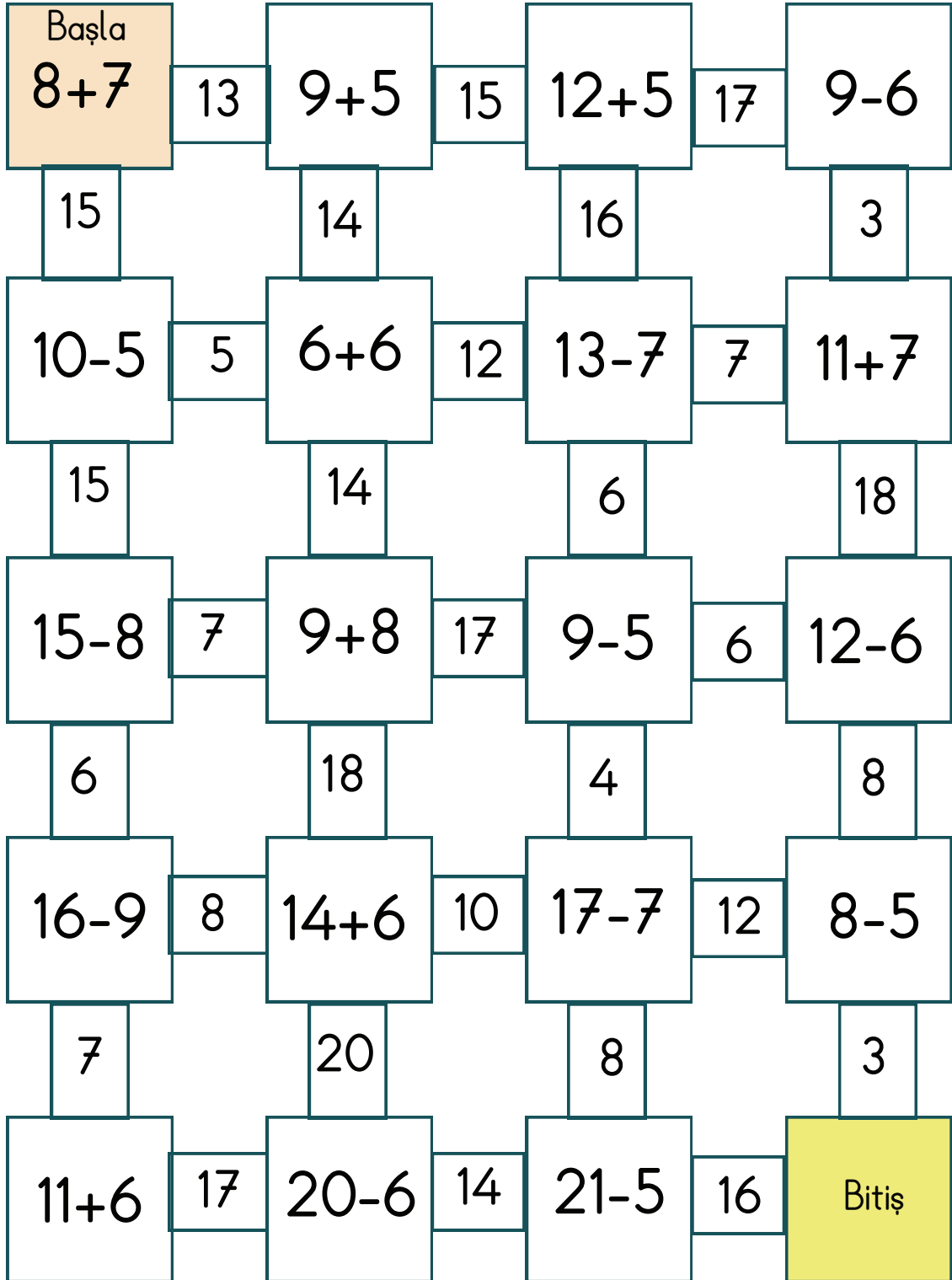
Onluk	Birlik

73 =

Onluk	Birlik

71 =

Aşağıdaki büyük kutulardaki işlemin doğru sonucunu takip edelim ve "Bitiş"e ulaşalım.



Yusuf'un topladığı fındıklara 8 ekleyince 15 fındık oluyor. Yusuf ilk önce kaç fındık toplamış?



İkranur 4 oyuncak daha alırsa 12 oyuncak oluyor. İkranur'un kaç oyuncak vardı?



Öykü 9 kitap okudu. Kaç kitap daha okursa 15 kitap okumuş olur?



Eylül dün biraz soru çözdü. Bugün de 8 soru çözdü. Eylül iki günde 16 soru çözdüğüne göre dün kaç soru çözmüştür?



Betül evindeki 17 balondan 7 tanesini patlattı. Mina kaç balon daha şişirirse 20 balonları olur?



Yağız bahçeye 3 ağaç daha dükirse bahçede 10 ağaç oluyor. Bahçede önce kaç ağaç vardı?



Dalda 8 kuş var. Kaç kuş konarsa dalda 17 kuş olur?



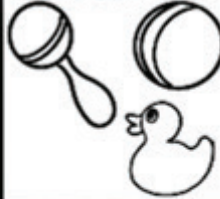
Sınıfımızda 9 kız var. Sınıfımızın mevcudu 17 ise kaç tane erkek öğrenci vardır?




Yusuf'un topladığı fındıklara 8 ekleyince 15 fındık oluyor. Yusuf ilk önce kaç fındık toplamış?





İkranur 4 oyuncak daha alırsa 12 oyuncak oluyor. İkranur'un kaç oyuncak vardı?




Öykü 9 kitap okudu. Kaç kitap daha okursa 15 kitap okumuş olur?




Eylül dün biraz soru çözdü. Bugün de 8 soru çözdü. Eylül iki günde 16 soru çözdüğüne göre dün kaç soru çözmüştür?



Betül evindeki 17 balondan 7 tanesini patlattı. Mina kaç balon daha şişirirse 20 balonları olur?




Yağız bahçeye 3 ağaç daha dikerse bahçede 10 ağaç oluyor. Bahçede önce kaç ağaç vardı?



Dalda 8 kuş var. Kaç kuş konarsa dalda 17 kuş olur?



Sınıfımızda 9 kız var. Sınıfımızın mevcudu 17 ise kaç tane erkek öğrenci vardır?



1. Asya 15 ile 6 sayısını topluyor. Daha sonra toplamdan 8 sayısını çıkarıyor. Aslı sonucu kaç bulur?

2. Defne 8 yaşında. Ablası Defne'den 6 yaş büyük. İki kardeşin yaşları toplamı kaçtır?

3. Koray 18 sayfalık kitabın önce 5 sonra 7 sayfasını okudu. Koray'ın okunacak kaç sayfası kaldı?

4. Ömer'in 12 tane bilyesi var. Eren'in bilyeleri Ömer'in bilyelerinden 5 tane az. İki bilyelerini birleştiriyor. Kaç bilye olur?

5. Sabah 5, akşam 4 ekmek tüketen bir aile iki günde kaç ekmek tüketir?

6. 13 sayısının 6 fazlasının 8 eksiği kaçtır?


7. 15 sayısının 9 eksiğinin 7 fazlası kaçtır?

8. Abim ile benim yaşımın toplamı 15'tir. Ben 6 yaşında olduğuma göre abimin yaşı kaçtır?

9. Suna ile Ece boya kalemlerini birleştirdiğinde toplam kalemleri 18 oluyor. Suna'nın 11 kalemi olduğuna göre Ecenin kaç kalemi vardır?

10. Bahçemizde bulunan armut ağacından dün 13, bugün ise dünden 6 tane daha az armut topladım. İki günde kaç armut topladım?

Aşağıdaki görselleri inceleyelim. Doğru davranış olan görsele 😊 yanlış davranış olan görsele ☹️ çizelim.



Aşağıdaki ifadelerden doğru olanların kutucuğunu işaretleyelim.

- ☐ Trafiğe açık alanlarda oyun oynamalıyız.
- ☐ Duran araçların arasından hızlıca karşıya geçmeliyiz.
- ☐ Trafikte ışıklı cihaz yoksa dikkatli bir şekilde sol-sağ ve tekrar sola bakarak geçmeliyiz.
- ☐ Trafiğin yoğun olduğu yollarda üst geçitten karşıya geçmeliyiz.
- ☐ Hareket eden araca binmeye çalışmamalıyız.
- ☐ Araca bindiğimizde emniyet kemeri takmalıyız.
- ☐ Toplu taşıma araçlarında sürücünün dikkatini dağıtmamalıyız.

Aşağıdaki trafik işaret ve levhalarını anlamları ile eşleştirelim.



Park yapılmaz.



Bisiklet giremez.



Mecburi yaya yolu.



Bisiklet yolu.



Dikkat.



Okul geçidi.



Işıklı işaret cihazı.

kırmızı

üst

yaya

kaldırımını

oynamamalıyız.

emniyet kemeri

arasından

okul geçidi

sağ

sürücü

polisinin

Yukarıdaki kelimeleri aşağıdaki noktalı yerlere uygun olacak şekilde yazalım.

1. Araca bindiğimizde öncelikle kemeri takmalıyız.
2. ışık yandığında durup beklemeliyiz.
3. Duran araçların geçmemeliyiz.
4. Yürürken yaya kullanmalıyız.
5. Otobüs, otomobil ve kamyon kullanan kişiye denir.
6. Caddelerde yayalar geçit kullanmalıdır.
7. Trafik yönlendirmelerine uyulmalıyız.
8. Trafiğin olduğu yerlerde oyun
9. Okula giderken levhası olan yerden karşıya geçmeliyiz.
10. Toplu taşıma araçlarının arka kapısından inmeliyiz.
- 11- Yürüyerek giden kimseye denir.

1. Aşağıdaki harflerden hangisi ünlü harftir?

A) u B) k C) h

2. Aşağıdaki görsellerin hangisinin harf sayısı diğerlerinden fazladır?

A)  B)  C) 

3. Aşağıdaki görsellerin hangisinin hece sayısı diğerlerinden fazladır?

A)  B)  C) 

4. Bir düşünce, olay, durum bildiren cümlenin sonuna hangi noktalama işareti kullanılır?

A) noktal
B) soru işareti
C) virgöl

5. "Kalın" sözcüğünün zıt anlamlısı hangisidir?

A) boş B) ince C) uzun

6. Kelime gruplarından hangisi zıt anlamlıdır?

A) açık-geri
B) ileri-geri
C) evet-az

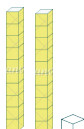
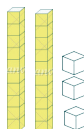
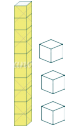
7. Aşağıdakilerden hangisi hecelerine doğru ayrılmıştır?

A) me-nd-il
B) yu-rt
C) ye-şil-lik

8. "6 - 8 - 10 - - 14 - 16"
Yukarıdaki ikişer ritmik saymada noktalı yere kaç yazılmalıdır?

A) 11 B) 12 C) 13

9. Aşağıdaki modellerden hangisi 23 sayısını modeller?

A)  B)  C) 

10. Yandaki modelle gösterilen sayı kaçtır?

A) 15 B) 16 C) 17

11. $12 + 5 = ?$

Yukarıdaki işlemin sonucu kaçtır?

- A) 17 B) 18 C) 19

12. Aşağıdaki toplama işlemlerinden hangisinin sonucu diğerlerinden büyüktür?

- A) $8 + 9$ B) $7 + 5$ C) $8 + 8$

13. Bir nesnenin sayısında belli bir miktar azalma olduğunda hangi işlem yapılır?

- A) Toplama
B) Çıkarma
C) İşlem yapılmaz

14. Aşağıdaki çıkarma işlemlerinden hangisinin sonucu 7'dir?

- A) $9 - 4$ B) $12 - 5$ C) $10 - 6$

15. " $11 + \square = 17$ "

Yukarıdaki işlemde kutucuk yerine hangi sayı yazılmalıdır?

- A) 8 B) 7 C) 6

16. Aşağıdaki nesnelerden hangisi sınıf eşyası değildir?

- A)  B)  C) 




17. Aslı okulda arkadaşlarına aşağıdaki cümlelerden hangisini kullanırsa nazik davranmış olur?

- A) Önüne baksana.
B) Şunu yerden al!
C) Lütfen kalemimi verir misin?

18. Aşağıdakilerden hangisi yanlıştır?

- A) Trafik kurallarına uymalıyız.
B) Aracın camından sarkmalıyız.
C) Emniyet kemeri takmalıyız.




19. Aşağıdakilerden hangisi iletişim aracıdır?

- A)  B)  C) 

1. Aşağıdaki harflerden hangisi ünlü harftir?

☒ u ☐ B) k ☐ C) h

2. Aşağıdaki görsellerin hangisinin harf sayısı diğerlerinden fazladır?

A)  ☒  C) 

3. Aşağıdaki görsellerin hangisinin hece sayısı diğerlerinden fazladır?

☒  B)  C) 

4. Bir düşünce, olay, durum bildiren cümlelerin sonuna hangi noktalama işareti kullanılır?

☒ noktal
B) soru işareti
C) virgül

5. "Kalın" sözcüğünün zıt anlamlısı hangisidir?

A) boş ☒ ince ☐ C) uzun

6. Kelime gruplarından hangisi zıt anlamlıdır?

A) açık-geri

☒ ileri-geri

C) evet-az

7. Aşağıdakilerden hangisi hecelerine doğru ayrılmıştır?

A) me-nd-il

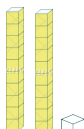
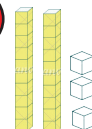
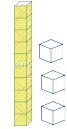
B) yu-rt

☒ ye-şil-lik

8. "6 - 8 - 10 - - 14 - 16"
Yukarıdaki ikiser ritmik saymada noktalı yere kaç yazılmalıdır?

A) 11 ☒ 12 ☐ C) 13

9. Aşağıdaki modellerden hangisi 23 sayısını modeller?

A)  ☒  C) 

10. Yandaki modelle gösterilen sayı kaçtır?

A) 15 ☒ 16 ☐ C) 17

11. $12 + 5 = ?$

Yukarıdaki işlemin sonucu kaçtır?

☒ A) 17 ☐ B) 18 ☐ C) 19

12. Aşağıdaki toplama işlemlerinden hangisinin sonucu diğerlerinden büyüktür?

☒ A) $8 + 9$ ☐ B) $7 + 5$ ☐ C) $8 + 8$

13. Bir nesnenin sayısında belli bir miktar azalma olduğunda hangi işlem yapılır?

☐ A) Toplama

☒ B) Çıkarma

☐ C) İşlem yapılmaz

14. Aşağıdaki çıkarma işlemlerinden hangisinin sonucu 7'dir?





☐ A) $9 - 4$ ☒ B) $12 - 5$ ☐ C) $10 - 6$

15. " $11 + \square = 17$ "

Yukarıdaki işlemde kutucuk yerine hangi sayı yazılmalıdır?

☐ A) 8 ☐ B) 7 ☒ C) 6

16. Aşağıdaki nesnelerden hangisi sınıf eşyası değildir?

☐ A)  ☐ B)  ☒ C)  

17. Aslı okulda arkadaşlarına aşağıdaki cümlelerden hangisini kullanırsa nazik davranmış olur?

☐ A) Önüne baksana.

☒ B) Şunu yerden al!

☐ C) Lütfen kalemimi verir misin?



18. Aşağıdakilerden hangisi yanlıştır?

☐ A) Trafik kurallarına uymalıyız.

☒ B) Aracın camından sarkmalımız.

☐ C) Emniyet kemeri takmalıyız.

19. Aşağıdakilerden hangisi iletişim aracıdır?

☐ A)  ☐ B)  ☒ C) 