

2. SINIF



TÜRKÇE

*Okuduğunu Anlama
Kurallı Cümle Yazma
Hikaye Yazma
Farklı Düşünmeye Yönlendiren İfadeler
Eş-Zıt Anlam, Eş Sesli Kelime
Noktalama İşaretleri*

MATEMATİK

*İşlemmatik
Zaman Ölçme Birimleri
Arasındaki İlişki
Zaman Ölçme Problemleri
Paralarımız*

HAYAT BİLGİSİ

Kültürel Mirasımız

İNGİLİZCE

Pets

29. HAFTA

23 NİSAN

Birinci Dünya Savaşından yeni çıkmış bir millet, özgürlük ve bağımsızlık için daha büyük bir mücadeleye, Kurtuluş Savaşı'na başladı. Ulu Önder Mustafa Kemal Atatürk ve silah arkadaşları, yurt savunmasına göğsünü siper etti. Büyük kararlılık ve azimle Kurtuluş Savaşı kazanıldı.

Bağımsızlık ve millet egemenliği için atılması gereken çok önemli bir adım vardı. Milletin temsilcilerinden oluşan meclisin açılması... O meclis, Ankara'da toplanacaktı. Açılış tarihi ise 23 Nisan 1920 olarak açıklandı.

O gün geldiğinde Ankara'da büyük bir coşku vardı. Mustafa Kemal ve beraberindeki milletvekilleri, önce Hacı Bayram Camii'nde cuma namazını kıldı. Ardından da dualarla ilk Meclis'in açılışını gerçekleştirdi. Aynı gün, meclisin adının, "Türkiye Büyük Millet Meclisi" olmasına karar verildi.

Bir milletin kaderinin değiştiği 23 Nisan günü, Türkiye'nin ilk resmi bayramı ilan edildi. Ulu Önder Atatürk, 23 Nisan'ı çocuklara armağan etti.

Anadolu'nun yokluk içinde olduğu yıllarda kutlanmaya başlandı 23 Nisan. Aradan geçen yıllarda o coşku daha da arttı.

Dünyada çocuklarına bayram veren ilk ve tek ülke Türkiye'dir. Her yıl 23 Nisan Ulusal Egemenlik ve Çocuk Bayramı'nı kutlamak için pek çok ülkeden, farklı milletlerden binlerce çocuk ülkemize gelir. Okullarda törenler, gösteriler yapılır. Her yer bayraklarla süslenir. Tüm ülke bu coşkuya katılır.



ETKİNLİK: Aşağıdaki soruları metne göre cevaplayalım.

1) Kurtuluş Savaşı nasıl kazanılmıştır?

.....

2) Meclis nerede açıldı?

.....

3) Meclisin açılış tarihi ne zamandır?

.....

4) Mustafa Kemal ve milletvekilleri meclisi açmadan önce ne yaptılar?

.....

5) Türkiye'nin ilk resmi bayramı hangisidir?

.....

6) Ulu Önder Mustafa Kemal Atatürk 23 Nisan'ı kime armağan etti?

.....

7) 23 Nisan Ulusal Egemenlik ve Çocuk Bayramı ülkemizde nasıl kutlanır?

.....

ETKİNLİK: Aşağıda karışık olarak verilen kelimelerle anlamlı ve kurallı cümle oluşturalım.

yıl / 23 Nisan / ülkemizde / coşkuyla / her / kutlanır /

.....

23 Nisan'ı / armağan / çocuklara / etti / Atatürk

.....

çocuklarına / dünyada / veren / ülke / tek / Türkiye'dir / bayram

.....

23 NİSAN

23 Nisan 1920'de,
Meclis açıldı Türkiye'de.
Ata'm armağan etti bugünü,
Dünyadaki tüm küçüklere.

Dünyanın çocukları gelir ülkemize,
Sevgiyle tutuşuruz el ele.
Barış içinde, hep birlikte,
Örnek oluruz tüm yetişkinlere.



Dans ederiz, şarkı söyleriz,
Okullarımızı rengarenk süsleriz.
Bu güzel armağan için,
Ata'mıza çok teşekkür ederiz.



ETKİNLİK: Aşağıdaki sorulara verilen cevaplardan yola çıkarak bir hikaye yazalım. Hikayemize uygun başlık bulalım. Hikayemizin en ilgi çekici bölümünün resmini çizelim.

KİM? → Leyla ve annesi

NEREDE? → Evlerinin bahçesinde

NEDEN? → Yaralı olduğu için

NE ZAMAN → Hafta sonu tatilinde

.....

.....

.....

.....

.....

.....

.....

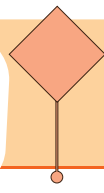
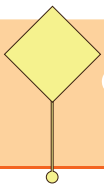
.....

.....

.....

.....





Farklı Düşünmeye Yönlendiren İfadeler

2.
SINIF

Cümle içinde yer alan bazı ifadeler düşüncemizin yönünü değiştirerek bizi farklı düşünmeye yönlendirir. Buna **farklı düşünmeye yönlendiren ifadeler** denir.

Bu ifadeler, kendinden önceki ya da sonraki düşüncenin farklı olduğunu anlatır. Ama, ancak, fakat, ya da, veya, rağmen, yalnız gibi kelimeler kullanılarak farklı düşünmeye yönlendiren ifadeler oluşturulur.

ETKİNLİK: Aşağıdaki cümleleri uygun şekilde tamamlayalım.

Bugün arkadaşımın evine gittim **ama**

Tatilde Antalya'ya **veya**

Bu akşam size yemek yapacağım dedi **ancak**

Sınava çok iyi çalıştı **buna rağmen**

Ağaçtaki elmaları toplayacaktım **fakat**

Tabi ki arkadaşına gidebilirsin **yalnız**

Babama doğum gününde **ya da**

Bacağım ağrıyor demiştin **ancak**

Burada çok eğleneceğimi düşünmüştüm **fakat**

ETKİNLİK: Aşağıdaki söz gruplarını anlamlı olacak şekilde eşleştirelim.

① Marketi alt üstü etti

☐ ya da mühendis olmak istiyor.

② Aldığı araba çok güzeldi

☐ ancak yine de hasta oldu.

③ Büyüdüğünde çok iyi bir doktor

☐ ama tadilat varmış.

④ Karnabahar yemeyi çok severdi

☐ fakat aradığını bulamadı.

⑤ Hafta sonu sinemaya gidecektik

☐ lakin ağzına bile sürmedi.


⑥ Yeterince sıkı giyindi

☐ ama uzun yolda bozuldu.

Türkçe



ETKİNLİK: Boşlukları uygun kelimelerle dolduralım. (Bir kelimeyi birden fazla boşluğa getirebilirsin.)



Babam beni basketbol voleybol kursuna yazdıracak.
 Günlerce bu yarışmaya hazırlandı.....başarılı olamadı.
 Konuyu çok iyi anlamasına.....soruyu çözemedi.
 Bu oyuncuğu tamir edeceğine emindim.....o hiç uğraşmamış.
 Boyama yapmana izin veririm.....önce yemeğini yemelisin.
 Pazardan elmaarmut alır mısın?
 Bilgisayarımı çok dikkatli kullanmama.....bozuldu.
 Seni çok seviyorum.....bazı davranışların beni üzüyor.
 Beni iyi dinlemesine.....ne dediğimi anlamamış.
 Seni defalarca uyarmama bu sırrımı saklamadın.
 Çok şiddetli bir kaza yaptık.....burnumuz bile kanamadı.
 Fiyatı çok uygundu.....onu kimse almadı.

ETKİNLİK: Verilen farklı düşünmeye yönlendiren ifadeleri kullanarak cümle kuralım.

rağmen	
ancak	
fakat	
ya da	

ETKİNLİK: Aşağıdaki cümleleri okuyunuz. Başta verilen kelimelerin eş anlamını cümle içinde bulup, altını renkli kalemle çiziniz.

Yaşlı

İhtiyar teyze pazardan gelirken bakkala uğradı.

Tümce

Okuduğum metin, kırk yedi cümleden oluşuyor.

Kelime

Bugün derste eş anlamlı sözcükleri öğrendik.

Önder

En büyük lider Mustafa Kemal Atatürk'tür.

ETKİNLİK: Aşağıdaki kelimelerin zıt anlamlarını cümlelerdeki boşluklara yazalım.

alt

Semalar bir sokakta oturuyormuş.

fazla

Bu masadaki sandalyeler misafirlere göre

uzak

Karşıdaki köy, diğer köyden daha

sert

Oturduğumuz koltuk çok geldi bana.

kalın

Saçlarım telli olduğu için dökülüyor.

boş

Bardağın tarafını görmemiz gerekiyor.

küçük

Kapının önünde bir köpek bize bakıyordu.

ETKİNLİK: Verilen eş sesli kelimelerin iki anlamı ile de cümle kuralım.

ATLET

.....
.....

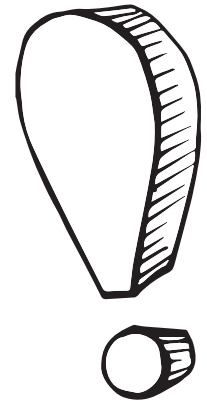
BAĞ

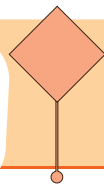
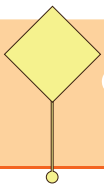
.....
.....

ETKİNLİK: Parantez içlerini uygun noktalama işareti ile dolduralım.



- Yaşasın() Anneannem gelecek()
- 23()04()2017 tarihinde ameliyat oldum()
- Fatih Mah() Mehmet Akif Ersoy Cad()
- Atatürk()ün mezarı Anıtkabir()dedir()
- Pazardan elma() armut() nar aldım()
- Bu keki sana kim yaptı()
- Okulun bahçesindeki çöpleri topladık()
- Saat 13()20() de arkadaşım ile buluşacağız()
- ()Alo, kimsiniz()
- () Merhaba ben Vedat()
- () Merhaba kimi aramıştınız()
- () Ben Rıdvan() la görüşebilir miyim()
- Tüh() En sevdiğim vazo kırıldı()
- Yaşasın () yarın bayram()
- Dr() Ahmet Mümtaz ameliyata girdi ()
- Ayakkabılarını kaç liraya aldın()
- Malatya()nın kayısı meşhur()
- Art Mah() Selvi Sok() Şen Apt() No()2
- Genç() çocuğu sevdi ()
- Ömerler Ordu ()dan geldi mi ()
- Çantasında kalem() silgiler() defterler()
- Babaaaa() Yardım et()





Aşağıdaki işlemleri yapalım.

$$\begin{array}{r} 48 \\ + 33 \\ \hline \end{array}$$

$$\begin{array}{r} 65 \\ + 25 \\ \hline \end{array}$$

$$\begin{array}{r} 90 \\ - 18 \\ \hline \end{array}$$

$$\begin{array}{r} 77 \\ - 39 \\ \hline \end{array}$$

$$\begin{array}{r} 45 \\ - \quad \quad \quad \\ \hline 17 \end{array}$$

$$\begin{array}{r} \quad \quad \quad \\ - 28 \\ \hline 44 \end{array}$$

$$\begin{array}{r} \quad \quad \quad \\ + 19 \\ \hline 81 \end{array}$$

$$\begin{array}{r} 96 \\ + \quad \quad \quad \\ \hline 46 \end{array}$$

$$\begin{array}{r} 4 \\ \times 4 \\ \hline \end{array}$$

$$\begin{array}{r} 3 \\ \times 9 \\ \hline \end{array}$$

$$\begin{array}{r} 10 \\ \times 5 \\ \hline \end{array}$$

$$\begin{array}{r} 7 \\ \times 4 \\ \hline \end{array}$$

$$\begin{array}{r|l} 20 & 4 \\ - & \\ \hline \end{array}$$


$$\begin{array}{r|l} 28 & 4 \\ - & \\ \hline \end{array}$$

$$\begin{array}{r|l} 36 & 4 \\ - & \\ \hline \end{array}$$

$$\begin{array}{r|l} 27 & 3 \\ - & \\ \hline \end{array}$$



- Saat 60 dakikadır.
- Gün 24 saattir.
- Hafta 7 gündür.
- Ay 4 haftadır.
- Ay 30 gündür.
- Yıl 4 mevsimdir. Her mevsim 3 aydır.
- Yıl 12 aydır.




Haftanın Günleri

- 1.gün : Pazartesi
- 2.gün : Salı
- 3.gün : Çarşamba
- 4.gün : Perşembe
- 5.gün : Cuma
- 6.gün : Cumartesi
- 7.gün : Pazar

Yılın Ayları

- 1.ay : Ocak
- 2.ay : Şubat
- 3.ay : Mart
- 4.ay : Nisan
- 5.ay : Mayıs
- 6.ay : Haziran
- 7.ay : Temmuz
- 8.ay : Ağustos
- 9.ay : Eylül
- 10.ay : Ekim
- 11.ay : Kasım
- 12.ay : Aralık

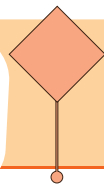
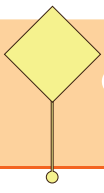


Mevsimler

Ayları

- İlkbahar → Mart, Nisan, Mayıs
- Yaz → Haziran, Temmuz, Ağustos
- Sonbahar → Eylül, Ekim, Kasım
- Kış → Aralık, Ocak, Şubat





Zaman Ölçme Birimleri Arasındaki İlişki

2.
SINIF

Aşağıdaki cümlelerde boş bırakılan yerleri uygun ifadelerle tamamlayalım.

- | | |
|---------------------------|--------------------------|
| ★ 1 gün saattir. | ★ 1 ay haftadır. |
| ★ 1 saat dakikadır. | ★ 1 yıl mevsimdir. |
| ★ 1 hafta gündür. | ★ 1 yıl aydır. |
| ★ 1 ay gündür. | ★ 1 mevsim aydır. |

Mevsimlerde yer alan ayların isimlerini yazalım.

SONBAHAR

.....

.....

.....

KIŞ

.....

.....

.....

İLKBAHAR

.....

.....

.....

YAZ

.....

.....

.....

Haftanın günlerini yazalım.

- | | |
|---------|---------|
| 1. | 4. |
| 2. | 5. |
| 3. | 6. |
| 7. | |

Matematik

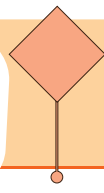
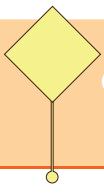


Aşağıda verilen tablodaki boşluklara uygun gün adlarını yazalım.

DÜN	BUGÜN	YARIN
Cuma
.....	Salı
.....	Perşembe
.....	Pazar
.....	Cumartesi
Pazar

Aşağıdaki noktalı yerlere uygun ifadeleri yazalım.

- ★ 1 haftada gün vardır. ve haftasonu günleridir.
- ★ Pazardan 2 gün sonra gelir.
- ★ Dün salı günü olduğuna göre 3 gün sonra günüdür.
- ★ Yarın günlerden çarşamba günü ise dün günüdür.
- ★ Cumadan 3 gün sonra günü gelir.
- ★ Dün perşembe günü olduğuna göre 2 gün sonra günüdür.
- ★ Çarşambadan 2 gün sonra gelir.



Zaman Ölçme Birimleri Arasındaki İlişki

2.
SINIF

MAYIS

2023

PZT	SAL	ÇAR	PER	CUM	CMT	PZR
1	2	3	4	5	6	7
8	9	10	11	12	13	14
15	16	17	18	19	20	21
22	23	24	25	26	27	28
29	30	31				

Aşağıdaki soruları yukarıdaki takvime göre yanıtlayalım.

- ★ Mayıs ayı kaç gündür?
- ★ Atatürk'ü Anma, Gençlik ve Spor bayramı hangi güne denk gelmektedir?
- ★ Mayıs ayı hangi gün ile başlıyor?
- ★ Mayıs ayında kaç tane cuma günü vardır?
- ★ Mayıs ayındaki hafta sonu gün sayısı kaçtır?
- ★ 23 Mayıs hangi güne denk gelmektedir?
- ★ Mayıs ayında kaç tane pazartesi günü vardır?
- ★ Mayıs ayının son günü hangi gündür?

Matematik



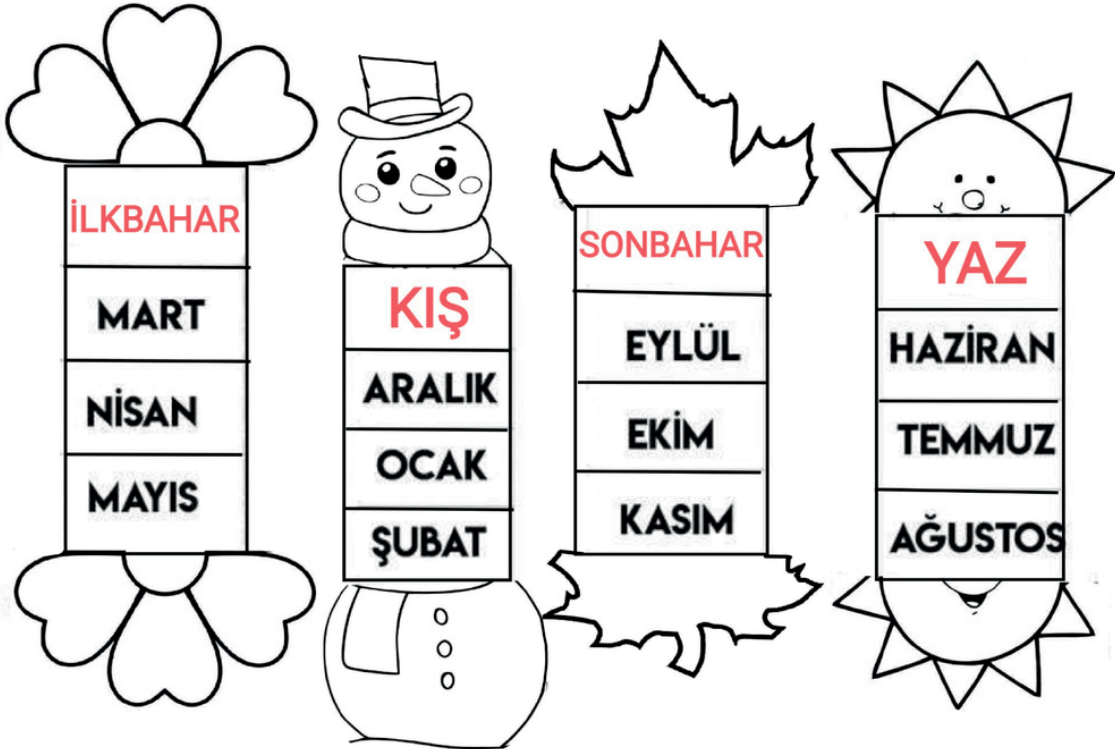

NİSAN

2023

PZT	SAL	ÇAR	PER	CUM	CMT	PZR
					1	2
3	4	5	6	7	8	9
10	11	12	13	14	15	16
17	18	19	20	21	22	23
24	25	26	27	28	29	30

Aşağıdaki soruları yukarıdaki takvime göre yanıtlayalım.

- ★ Nisan ayı kaç gündür?
- ★ Ulusal Egemenlik ve Çocuk Bayramı hangi güne denk gelmektedir?
.....
- ★ Nisan ayı hangi gün ile başlıyor?
- ★ Nisan ayında kaç tane pazartesi günü vardır?
- ★ Nisan ayındaki hafta sonu gün sayısı kaçtır?
- ★ 10 Nisan hangi güne denk gelmektedir?
- ★ Nisan ayında kaç tane perşembe günü vardır?
- ★ Nisan ayının son günü hangi gündür?



Aşağıdaki problemleri çözelim.

1. Her gün yarım saat kitap okuyan Tuana, 1 haftada kaç saat kitap okur?

2. Her gün yarım saat yüzen Akın, 4 günde toplam kaç saat yüzer?

3. Pınar'ın resim kursu, 2 buçuk saat sürmektedir. Saat 08.30'da başlayan kurs saat kaçta biter?

4. Cumartesi ve pazar günleri keman kursuna giden Cenk, 5 haftada kaç gün keman kursuna gitmiştir?


5. Her mevsimde 3 kez yayımlanan şiir dergisi, 1 yılda kaç kez yayımlanır?

Aşağıdaki problemleri çözelim.

1. Haftada toplam 4 saat matematik dersi alan Kayra, 5 haftada kaç saat matematik dersi almış olur?




2. Derin Hanım'ın işe gidişi 30 dakika, işten dönüşü 30 dakika sürmektedir. Hafta sonları işe gitmeyen Derin Hanım'ın 1 haftalık işe gidiş geliş süresi kaç saattir?




3. Serkan'ın futbol antrenmanı iki buçuk saat sürüyor. Antrenman saat 10.00'da başladığına göre saat kaçta biter?



4. Ayda 5 kez Pamukkale'ye gezi düzenleyen tur şirketi, yaz mevsimi boyunca kaç tur düzenlemiştir?



5. Leman Hanım, eylül ayında 6 ay sürecek bir yoga eğitimine başlayacaktır. Leman Hanım'ın kursu hangi ayda biter?



Aşağıdaki problemleri çözelim.

1. Sevgi sabah yarım saat, akşam da 40 dakika yürüyüş yapmıştır. Sevgi, toplam kaç dakika yürüyüş yapmıştır?

2. Saat 08.00'de okula giden Melih, 15.00'te okuldan çıkıyor. Buna göre Melih okulda kaç saat kalmıştır?


3. 1 saat önce saat 06.00 ise 4 saat sonra saat kaç olur?

4. Fidan kedisi Pamuk'a saat 09.00'da mama vermiştir. Pamuk 3 saat sonra tekrar mama yiyecektir. Buna göre Pamuk mamasını saat kaçta yer?

5. Serkan, bir ayda 2 hafta 3 gün kütüphaneye ders çalışmaya gitmiştir. Buna göre Serkan kaç gün kütüphaneye gitmiştir?

Aşağıdaki problemleri çözelim.

1. İlkur yanda belirtilen saatte evden çıkıp 3 saat sonra eve geldi. İlkur eve geldiğinde saat kaçtır?



2. Aşağıdaki saate yarım saat daha eklersem saat kaç olur?

A blank sheet of graph paper with a grid pattern. The grid consists of small squares, approximately 1 cm by 1 cm each, arranged in a uniform pattern across the entire page. There are no margins or additional markings on the paper.

3. Aşağıdaki saate çeyrek saat daha eklersem saat kaç olur?

A blank sheet of graph paper with a grid pattern. The grid consists of small squares formed by light gray lines. The entire page is covered by this grid, except for the margins at the top, bottom, and sides.

4. Mahallemizdeki dondurmacı yılın 7 ayı kapalıdır. Buna göre mahallemizdeki dondurmacı yılın kaç ayı açıktır?

[illegible]

5. Oya öğleden önce saat 11.00'da kursa gitti. 3 saat kursta kaldı. Yarım saatte eve geldi. Oya eve geldiğinde saat kaçtı?

A blank sheet of graph paper with a grid pattern. The grid consists of small squares formed by light gray lines. There are 20 columns and 15 rows of squares. The entire grid is enclosed within a black rectangular border.

Aşağıdaki problemleri çözelim.

1. Gözde 13.30'da film izlemeye başladı. Film 90 dakika sürdü. Film bittiğinde saat kaçtı?

2. 06.30'da uyanan bir aşçı 4 saat boyunca yemek hazırladı. Aşçı yemek yapmayı bitirdiğinde saat kaç gösterir?

3. 2 Nisan Salı günü başlayan dans kursu bir hafta sürdüğüne göre hangi tarihte biter?

4. Hatice Hanım tepsi kebabını fırında 4 saatte pişiriyor. Hatice Hanım, yemeği saat 14.30'da fırına koyduğuna göre fırını saat kaçta kapatmıştır?

5. Tolga, bir gününün 8 saatini uyuyarak, 7 saatini de okulda geçiriyor. Tolga'nın bir gününden geriye kaç saati kalır?

- Ülkemizin para birimi “**Türk Lirası**” dır. Türk lirası “**TL**” şeklinde kısaltılır. Sembolü “**₺**” dir.
- Alışveriş yaparken liradan küçük harcamalarımızda kuruş kullanırız. Kuruş “**kr.**” ile gösterilir.
₺1 = 100 kr.
- Türk lirası sembolü “**₺**” parasal değerin önüne boşluk bırakılmadan kullanılır.
Örnek : 10 TL → ₺10
- **Kağıt paralarımız:** 5 TL, 10 TL, 20 TL, 50 TL, 100 TL, 200 TL’dir.
- **Madeni paralarımız:** 1 kuruş, 5 kuruş, 10 kuruş, 25 kuruş, 50 kuruş, 1 TL, 5 TL’dir.

Aşağıdaki paraların değerini yazalım.



.....



.....



.....



.....



.....



.....



.....



.....



.....



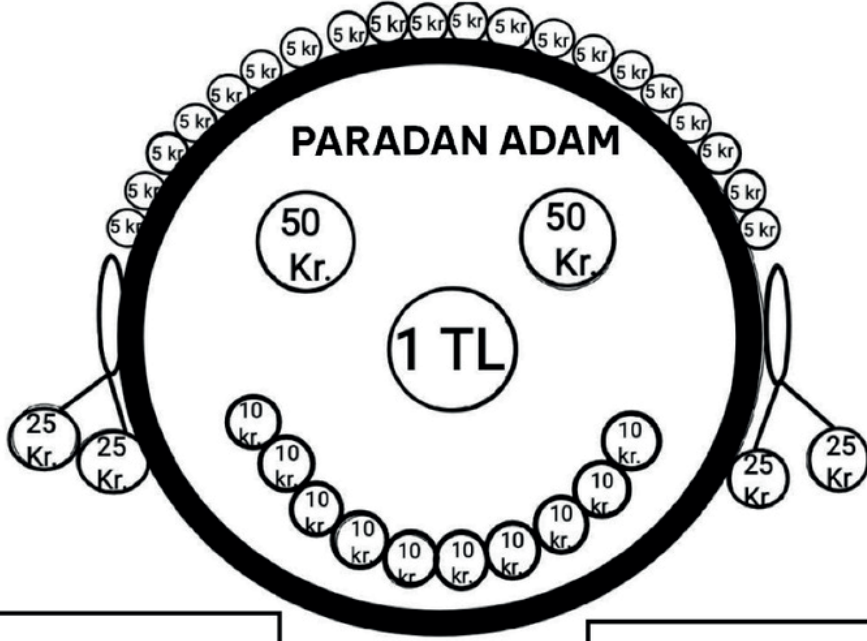
.....



.....



.....

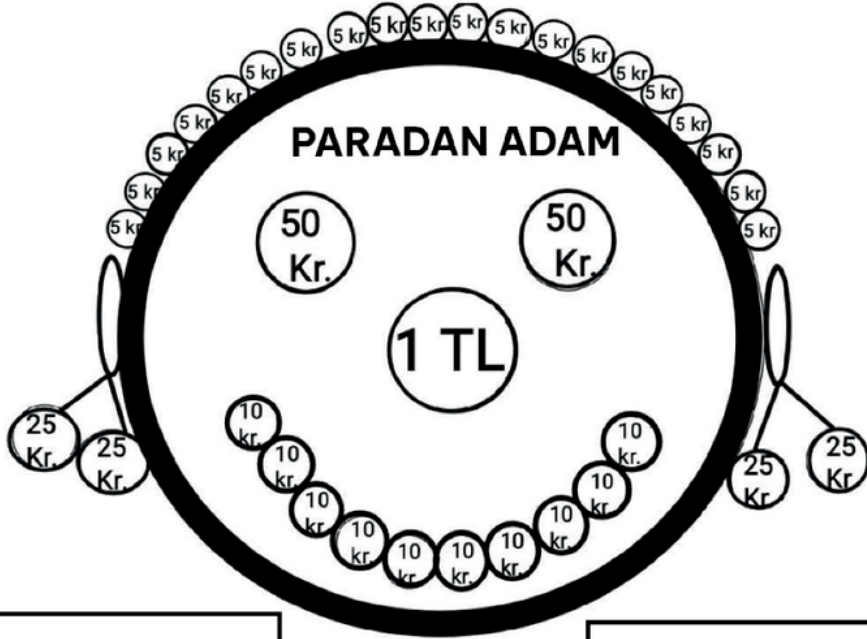


2 tane 50 Kr.= 1TL

4 tane 25 Kr.= 1TL

10 tane 10 Kr.= 1TL

20 tane 5 Kr.= 1TL



2 tane 50 Kr.= 1TL

4 tane 25 Kr.= 1TL

10 tane 10 Kr.= 1TL

20 tane 5 Kr.= 1TL

Aşağıdaki paraların toplam miktarlarını bulalım. Yanlarına yazalım.



Kültür Mirası, bir neslin kendinden sonra gelecek kuşaklara bıraktığı her şeydir. Bu miras bir ev olabileceği gibi dedemizden kalan bir halı ya da kitap olabilir. Geçmişten günümüze gelen gelenekler, görenekler, dil, yemekler, oyunlar, kıyafetler, el sanatları, mimari eserler, milli sporlarımız gibi değerler kültürel miraslara örnektir.

Gelenek-görenek, toplum olarak kabul ettiğimiz yaşam tarzı haline getirdiğimiz, nesilden nesile aktarılan her şeydir.

Gelenek ve Göreneklerimiz

- gelin kınası
- düğünler
- büyüklerin elini öpme
- asker kınası
- çeyiz

Yemeklerimiz

- mantı
- lahmacun
- baklava
- çiğ köfte

Müzik

- türkülerimiz
- kemençe
- saz
- davul
- zurna

Halk Oyunlarımız

- halay
- horon
- zeybek
- kafkas
- kaşık

El Sanatlarımız

- dokumacılık
- çömlekçilik
- ebru sanatı
- çinicilik
- iğne oyası
- bakırcılık

Kıyafetlerimiz

- şalvar
- bindallı
- tülbent
- fistan

Milli Sporlarımız

- güreş
- cirit
- okçuluk

Oyunlarımız

- çelik-çomak
- misket
- körebe
- dokuz kiremit
- beş taş, dokuz taş


ETKİNLİK: Kültürel mirasımıza örnek olanları işaretleyelim.

<input type="checkbox"/> sünnet töreni	<input type="checkbox"/> semazen	<input type="checkbox"/> sinema	<input type="checkbox"/> cirit atmak
<input type="checkbox"/> kına gecesi	<input type="checkbox"/> pizza	<input type="checkbox"/> futbol	<input type="checkbox"/> Hacivat Karagöz
<input type="checkbox"/> baklava	<input type="checkbox"/> vals	<input type="checkbox"/> halk oyunu	<input type="checkbox"/> zeybek
<input type="checkbox"/> sirtaki	<input type="checkbox"/> basketbol	<input type="checkbox"/> Kafkas dansı	<input type="checkbox"/> kız isteme
<input type="checkbox"/> okçuluk	<input type="checkbox"/> çinçilik	<input type="checkbox"/> tenis	<input type="checkbox"/> bindallı
<input type="checkbox"/> asker kınası	<input type="checkbox"/> dalış	<input type="checkbox"/> kemeçe	<input type="checkbox"/> körebe

ETKİNLİK: Aşağıdaki yemeklerimizin adını ve hangi şehrimize ait olduğunu yazalım.



Manti
Kayseri



ETKİNLİK: Aşağıdaki soruları cevaplayalım.

Yaşadığınız yöreye ait yemekler nelerdir? Araştırarak yazalım.

.....

.....

Yaşadığınız yöreye ait oyunlar nelerdir? Araştırarak yazalım.

.....

.....

Yaşadığınız yöreye ait gelenek görenekler nelerdir? Araştırarak yazalım.

.....

.....

ETKİNLİK: Aşağıdaki görsellerle isimlerini numara yazarak eşleştirelim.



1 güreş



2 horon



3 sünnet düğünü



4 cirit



5 kına gecesi




6 kaşık oyunu

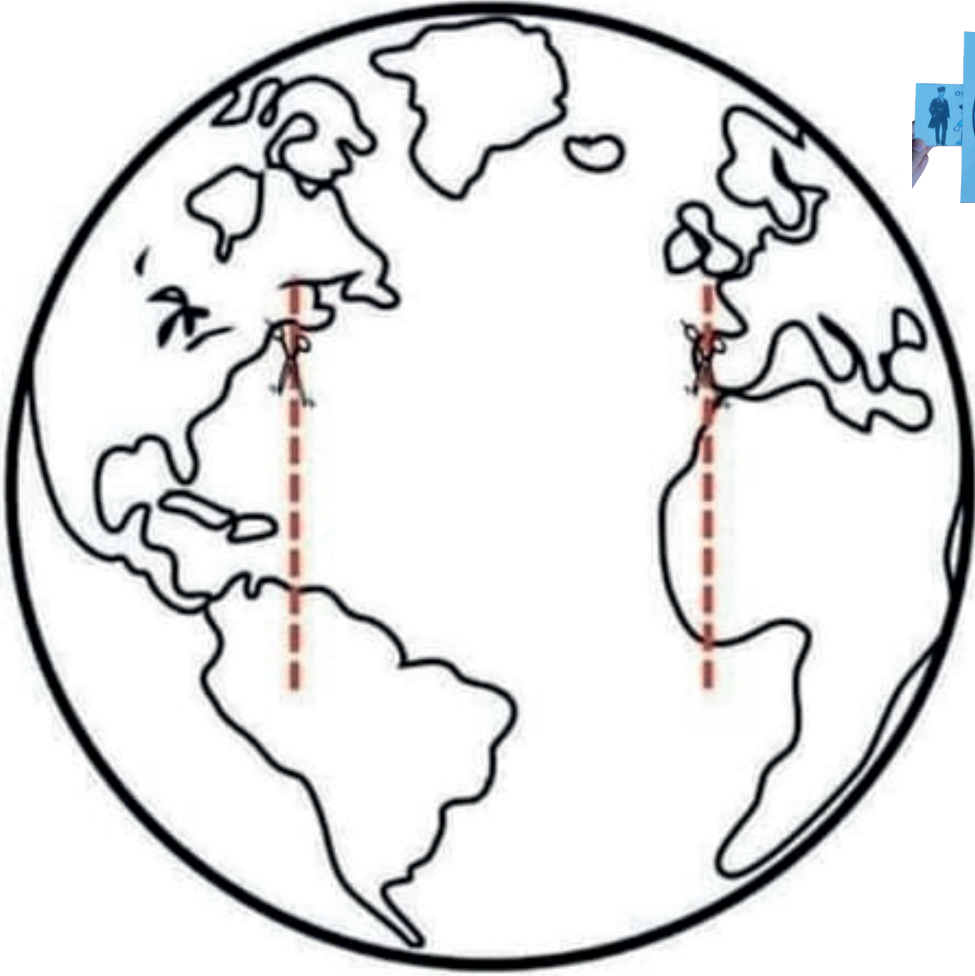



7 zeybek



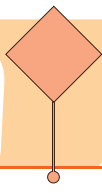
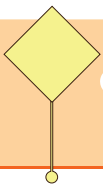
8 çinicilik











1. Aşağıdaki cümlelerin hangisinde "kaz" sözcüğü farklı bir anlamda kullanılmıştır?

- A) Gölde dört kaz yüzüyordu.
- B) Evimizin temelini kazdılar.
- C) Toprağı kazıp fidan diktik.

2. Aşağıdaki farklı düşünmeye yönlendiren ifadeleri kullanarak cümle kurulum.

ama
veya
ya da

3. Verilen deyimleri zıt anlamları ile eşleştirelim.

göze girmek	gönül kırmak
gönül almak	gözden düşmek
kulak kesilmek	gölgesinden korkmak
gözü kara	kulak asmamak

4. Tamamlanmamış cümlelerin sonuna korku, heyecan, sevinç bildiren cümlelerin sonuna eş görevli sözcüklerin arasına konur.

Yukarıda boş bırakılan yerlere sırası ile hangi noktalama işaretleri gelmelidir?

- A) ... ! , B) . ? ! C) : ! ,

5. Aşağıdaki cümlelerin hangisinde büyük harflerin kullanımı ile ilgili yanlışlık yapılmıştır?

- A) Kayseri'liler mantığı güzel yapar.
- B) Bizimle gelecek misin!
- C) Van gölünü çok merak ediyorum.

6. İsmail saat 15.30'da parka gitti. Parkta 45 dakika oynadı. İsmail parktan ayrıldığında saat kaçtır?

Grid for answer 6

7. 1 çeyrek saat ve 1 yarım saatin toplamı kaç dakikadır?

Grid for answer 7



8. Dün günlerden pazar ise yarın hangi gündür?

[illegible]

9. 1 yıl 58 haftadır.

1 ay 5 haftadır.

1 yıl 12 aydır.

1 ay 30 gündür.

Yukarıdaki ifadeler doğru ise başına “D”, yanlış ise başına “Y” yazılacaktır.

Buna göre, sonuç aşağıdakilerden hangisi gibi olur?

A)

D
Y
D
D

B)

Y
Y
D
D

C)

D
D
Y
Y

10. Aşağıda verilen paraların miktarlarını bulalım.



..... TL kr.



..... TL kr.

11. Aşağıdaki eşleştirmelerden hangisi yanlıştır?

A)



Van

B)



Rize

C)



Eskişehir

12. Aşağıdaki ifadelerden doğru olanlara D, yanlış olanlara Y yazalım.

☐ Kemençe çalgısı ile ünlü olan ilimiz İzmir'dir.

☐ Pizza, ülkemize ait çok sevilen bir yemektir.

☐ Horon, Karadeniz Bölgesine ait bir dans türüdür.

☐ Aydın ilimiz suşisi ile ünlüdür.

13. Aşağıdakilerden hangisi ülkemize ait bir kültürel miras değildir?

A) Kına gecesi yapılması.

B) Asker uğurlaması yapılması.

C) Yeni yıl kutlamaları.

1. Aşağıdaki cümlelerin hangisinde "kaz" sözcüğü farklı bir anlamda kullanılmıştır?

- ☒ A) Gölde dört kaz yüzüyordu.
 B) Evimizin temelini kazdılar.
 C) Toprağı kazıp fidan diktik.

2. Aşağıdaki farklı düşünmeye yönlendiren ifadeleri kullanarak cümle kuralım.

ama	Cok çalıştım ama sınavı kazanamadım.
veya	Bugün veya yarın kütüphaneye gideceğiz.
ya da	Futbol ya da basketbol kursuna katılmak istiyorum.

3. Verilen deyimleri zıt anlamları ile eşleştirelim.

göze girmek	gönül kırmak
gönül almak	gözden düşmek
kulak kesilmek	gölgesinden korkmak
gözü kara	kulak asmamak

4. Tamamlanmamış cümlelerin sonuna korku, heyecan, sevinç bildiren cümlelerin sonuna eş görevli sözcüklerin arasına konur.

Yukarıda boş bırakılan yerlere sırası ile hangi noktalama işaretleri gelmelidir?

- ☒ A) ... ! , B) . ? ! C) : ! ,

5. Aşağıdaki cümlelerin hangisinde büyük harflerin kullanımı ile ilgili yanlışlık yapılmıştır?

- A) Kayseri'liler mantığı güzel yapar.
 B) Bizimle gelecek misin!

- ☒ C) Van gölünü çok merak ediyorum.

6. İsmail saat 15.30'da parka gitti. Parkta 45 dakika oynadı. İsmail parktan ayrıldığında saat kaçtır?

$$\begin{array}{r} 15.30 \\ + 45 \\ \hline 16.15 \end{array}$$

7. 1 çeyrek saat ve 1 yarım saatin toplamı kaç dakikadır?

$$\begin{array}{l} \text{Çeyrek saat} = 15 \text{ dakika} \\ \text{Yarım saat} = 30 \text{ dakika} \\ 15 + 30 = 45 \text{ dakika} \end{array}$$

8. Dün günlerden pazar ise yarın hangi gündür?

DÜN	BUGÜN	YARIN
Pazar	Pazartesi	Salı

9. ☐ Y 1 yıl 58 haftadır.
☐ Y 1 ay 5 haftadır.
☐ D 1 yıl 12 aydır.
☐ D 1 ay 30 gündür.

Yukarıdaki ifadeler doğru ise başına "D", yanlış ise başına "Y" yazılacaktır.

Buna göre, sonuç aşağıdakilerden hangisi gibi olur?

- A) ☐ D ☒ Y ☐ D
☐ Y ☐ Y ☐ D
☐ D ☐ D ☐ Y
☐ D ☐ D ☐ Y

10. Aşağıda verilen paraların miktarlarını bulalım.



..... 6 TL 75 kr.



..... 61 TL 25 kr.

11. Aşağıdaki eşleştirmelerden hangisi yanlıştır?

A)



Van

B)



Rize



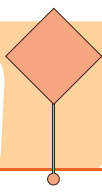
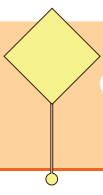
Eskişehir

12. Aşağıdaki ifadelerden doğru olanlara D, yanlış olanlara Y yazalım.

- ☐ Y Kemençe çalgısı ile ünlü olan ilimiz İzmir'dir.
☐ Y Pizza, ülkemize ait çok sevilen bir yemektir.
☐ D Horon, Karadeniz Bölgesine ait bir dans türüdür.
☐ Y Aydın ilimiz suşisi ile ünlüdür.

13. Aşağıdakilerden hangisi ülkemize ait bir kültürel miras değildir?


- A) Kına gecesi yapılması.
B) Asker uğurlaması yapılması.
☒ Yeni yıl kutlamaları.



Pets

2.
SINIF

Write the missing letters. (Evcil hayvanların isimlerindeki eksik harfleri yazınız.)




1. b _ rd
2. c _ _
3. p _ r _ ot
4. _ ur _ le
5. d _ g
6. r _ bb _ t
7. f _ s _

Fill in the blanks with using "in, on, under". (Boşlukları "in, on, under" kullanarak doldurunuz.)



The cat is the box.



The cat is the table.



The cat is the chair.

İngilizce






1.  That's an orange
and blue cat.
2 3 1

Yukarıdaki resme ve cümleye göre numaralandırılan ifadelerden hangisi yanlıştır?

- A) 2
B) 1
C) 3

2. R - B - I - A - B - T


Harfleri karışık olarak verilen kelimelerin harfleri doğru sıralanırsa hangi görsel ortaya çıkar?

- A)  B) 
C) 

3. The turtle is the table.

Yandaki görsele göre boşluğa hangi kelime gelmelidir?

- A) in
B) on
C) under



- 4.



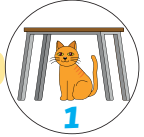
The cat is -----.

Cümlelerin devamı için hangi seçenek uygundur?

- A) on the chair
B) under the tree
C) on the car

- 5.

- A) The cat is in the box.



- B) The dog is on the car.

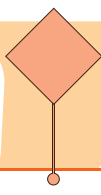
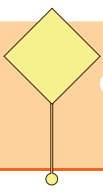


- C) The cat is under the table.



Görseller ile cümlelerin doğru eşleştirildiği seçenek aşağıdakilerden hangisidir?

- A) A - 3 B) A - 2 C) A - 1
B - 2 B - 1 B - 2
C - 1 C - 3 C - 3



CEVAP ANAHTARI

2.
SINIF

Write the missing letters. (Evcil hayvanların isimlerindeki eksik harfleri yazınız.)




1. b i rd
2. c a t
3. p a r r ot
4. t u r t l e
5. d o g
6. r a b b i t
7. f i s h

Fill in the blanks with using "in, on, under". (Boşlukları "in, on, under" kullanarak doldurunuz.)



The cat is in the box.



The cat is under the table.



The cat is on the chair.

İngilizce






1.  That's an orange
and blue cat.
2 3 1

Yukarıdaki resme ve cümleye göre numaralandırılan ifadelerden hangisi yanlıştır?

- ☒ 2
B) 1
C) 3

2. R - B - I - A - B - T


Harfleri karışık olarak verilen kelimenin harfleri doğru sıralanırsa hangi görsel ortaya çıkar?

- ☒  B) 
C) 

3. The turtle is the table.

Yandaki görsele göre boşluğa hangi kelime gelmelidir?

- A) in
B) on
☒ under



- 4.



The cat is -----.

Cümlelerin devamı için hangi seçenek uygundur?

- A) on the chair
☒ under the tree
C) on the car

- 5.

- A) The cat is in the box.



- B) The dog is on the car.



- C) The cat is under the table.



Görseller ile cümlelerin doğru eşleştirildiği seçenek aşağıdakilerden hangisidir?

- ☒ A - 3 B) A - 2 C) A - 1
B - 2 B - 1 B - 2
C - 1 C - 3 C - 3