

Transportation

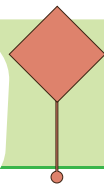
Geometrik Cisimler

Geometrik Cisimlerin Açınımı

Yapay Çevre- Doğal Çevre

Yapay ve Doğal Çevre Arasındaki Farklar

27. HAFTA



EŞİM VE BEN

Al bayrağım dalga dalga,
Kırmızı rengi bir başka.
Beyaz ay ve yıldızı,
Ak elmaslar gibi parlaktı.

Vatan çok kıymetli,
Yurt insanın evi.
Millet olup tek yürek,
Ulus olarak çalışmalı hep.

Hediye bu güzellikler bize,
Armağan ise bakmalı özenle.
Doğa emanet hepimize,
Tabiat binlerce yıldır bizimle.

Zaman çok kıymetli,
Vakit nakittir, bilmeli.
Okul hepimizin evi,
Mektep yıllarını güzel geçirmeli.

Handan TÜRKMEN



Etkinlik

Aşağıdaki soruları şiire göre yanıtlayalım.

Bayrağımızın ay ve yıldızı, şiirde neye benzetilmiştir?

Şiire göre insanın evi neresidir?

Şiire göre bize emanet olan nedir?

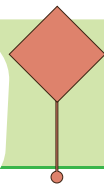
Şiirde okul neye benzetilmiştir?

Şiire göre hangi yıllarımızı güzel geçirmeliyiz?

Şiire göre nakit olan nedir?

Şiir kaç kıta ve kaç dizeden oluşmuştur?

Şiirin şairi kimdir?



Eş Anımlı Kelimeler

3.
SINIF

Etkinlik

Şiirde geen eş anlamlı kelimeleri bulup yazalım. Bu kelimelerle birer cümle kuralım.

Kelime	Eş Anlamlısı	★ ★
Kelime	Eş Anlamlısı	★ ★
Kelime	Eş Anlamlısı	★ ★
Kelime	Eş Anlamlısı	★ ★
Kelime	Eş Anlamlısı	★ ★
Kelime	Eş Anlamlısı	★ ★
Kelime	Eş Anlamlısı	★ ★
Kelime	Eş Anlamlısı	★ ★

Türke

Etkinlik

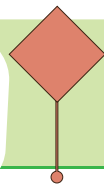
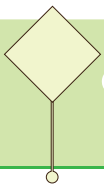
Aşağıda yazılışları yanlış olarak verilmiş sözcüklerin, doğru yazılışlarını yazalım.

X	✓	X	✓
Kirbit		Palyanço	
Yanlız		Herkez	
Tenbel		Traş	
Şöför		Şarz	
Dinazor		Makina	

Etkinlik


Aşağıdaki sözcüklerden yazımı doğru olanları maviye boyayalım.

Virüs	Traktör	zınba	karnıbahar	unvan
melhem	kiprik	pantolon	tulavet	asfalt
canbaz	tabiat	kalerifer	minibüs	maydanoz
film	kaysı	labarotuvur	klüp	erezyon
sarımsak	yanlış	bağırsak	mide	kavanoz



Etkinlik

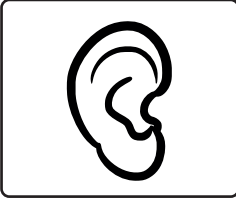
İçinde "göz" kelimesi geçen 6 tane deyim ve bu deyimlerin anlamlarını yazalım.



DEYİM	ANLAMI

Etkinlik


İçinde "kulak" kelimesi geçen 6 tane deyim ve bu deyimlerin anlamlarını yazalım.



DEYİM	ANLAMI

Etkinlik

İçinde "kafa" kelimesi geçen 6 tane deyim ve bu deyimlerin anlamlarını yazalım.

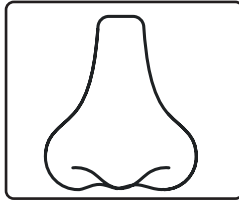


DEYİM

ANLAMI

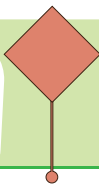
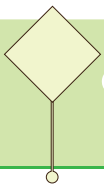
Etkinlik

İçinde "burun" kelimesi geçen 6 tane deyim ve bu deyimlerin anlamlarını yazalım.



DEYİM

ANLAMI



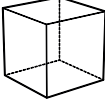
Geometrik Cisimler

3.
SINIF

Etkinlik

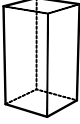
Aşağıda verilen geometrik cisimlerin köşe, ayrıt ve yüz sayılarını yazalım. Köşelerini örnekteki gibi işaretleyelim.

★ Ben küpüm.



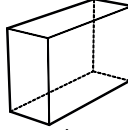
Benim köşem var.
Benim ayrıtım var.
Benim yüzüm var.

★ Ben kare prizmayım.



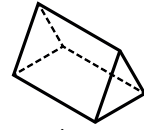
Benim köşem var.
Benim ayrıtım var.
Benim yüzüm var.

★ Ben dikdörtgen prizmayım.



Benim köşem var.
Benim ayrıtım var.
Benim yüzüm var.

★ Ben üçgen prizmayım.



Benim köşem var.
Benim ayrıtım var.
Benim yüzüm var.

★ Ben koniyim.



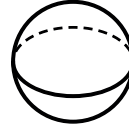
Benim köşem var.
Benim ayrıtım var.
Benim yüzüm var.

★ Ben silindirim.



Benim köşem var.
Benim ayrıtım var.
Benim yüzüm var.


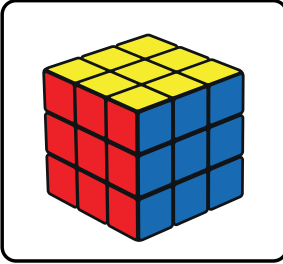

★ Ben küreyim.



Benim köşem var.
Benim ayrıtım var.
Benim yüzüm var.

Etkinlik

Aşağıda verilen varlıkların benzediği geometrik cisimleri yazalım.

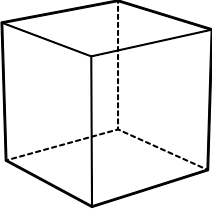


Matematik

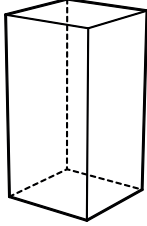
Etkinlik

Aşağıda verilen geometrik cisimlerin isimlerini yazalım.
Köşelerini kırmızıya, ayrıtlarını maviye, yüzlerini sarıya boyayalım.

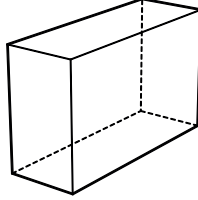
★ Ben



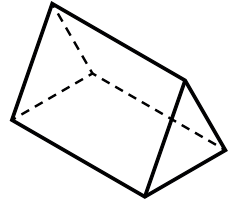
★ Ben



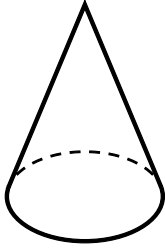
★ Ben



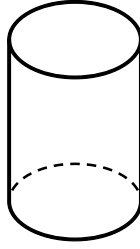
★ Ben



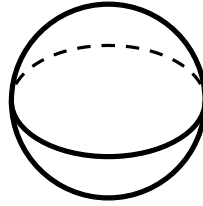
★ Ben



★ Ben



★ Ben



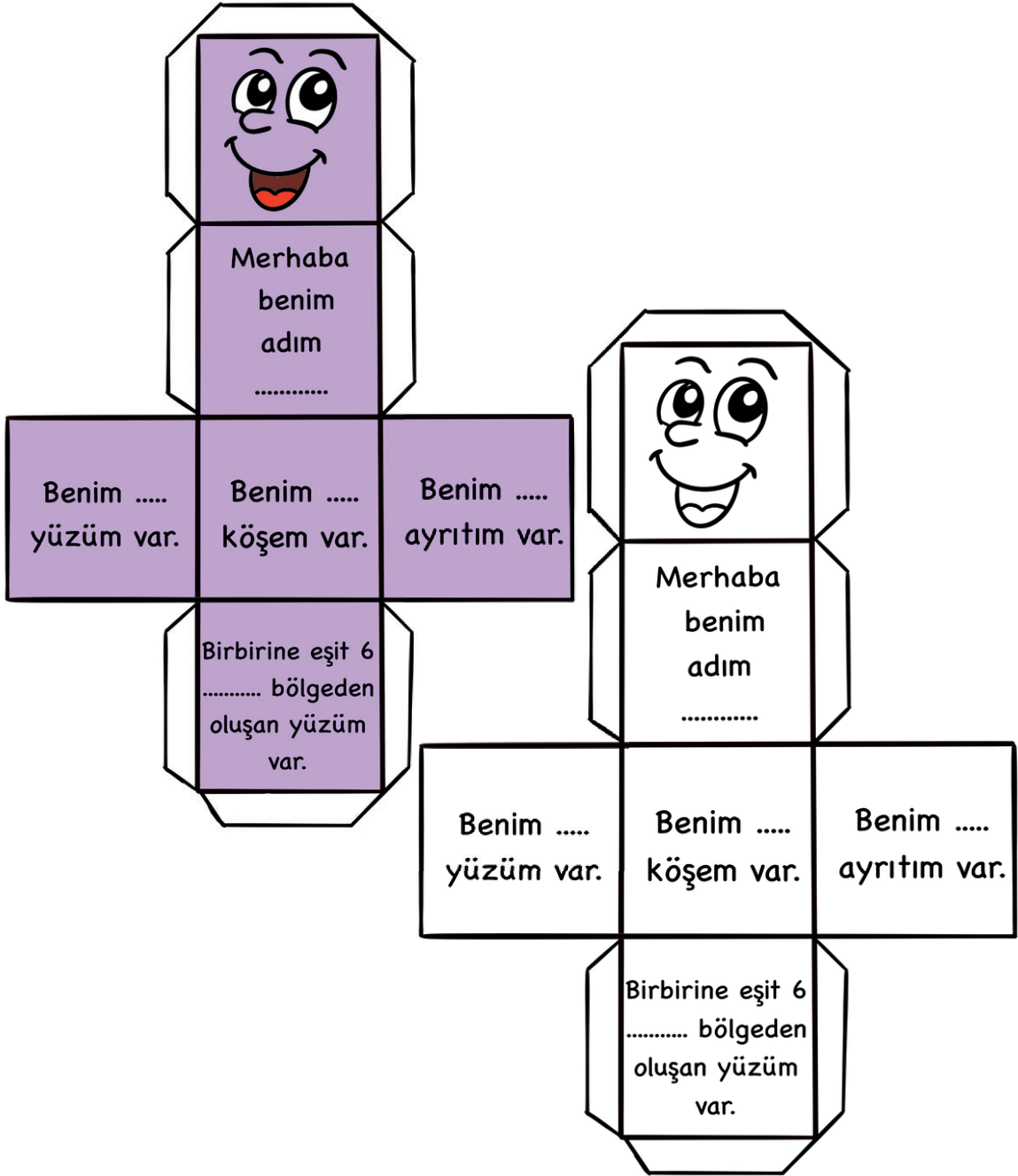
Etkinlik

Aşağıda verilen işlemleri yapalım.

- ★ Küpün tane köşesi, tane ayrıtı, tane yüzü vardır.
- ★ Kare prizmanın tane köşesi, tane ayrıtı, tane yüzü vardır.
- ★ Dikdörtgen prizmanın tane köşesi, tane ayrıtı, tane yüzü vardır.
- ★ Üçgen prizmanın tane köşesi, tane ayrıtı, tane yüzü vardır.
- ★ Koninin tane köşesi, tane ayrıtı, tane yüzü vardır.
- ★ Silindirin tane köşesi, tane ayrıtı, tane yüzü vardır.
- ★ Kürenin tane köşesi, tane ayrıtı, tane yüzü vardır.

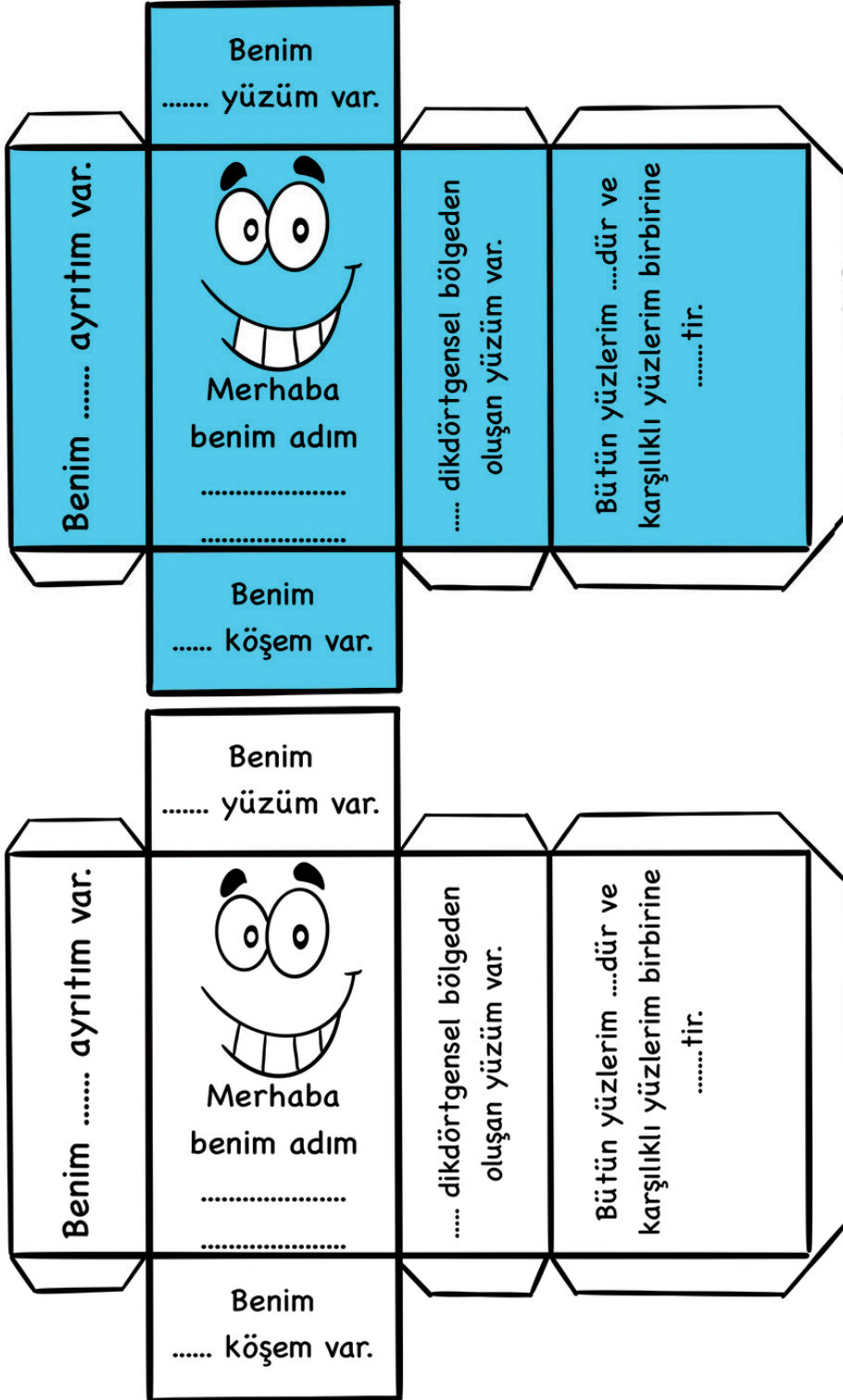
Etkinlik

Aşağıda açınımları verilmiş geometrik cisimlerin adını ve özelliklerini yazalım. Kesip, kulaklarından yapıştıralım.



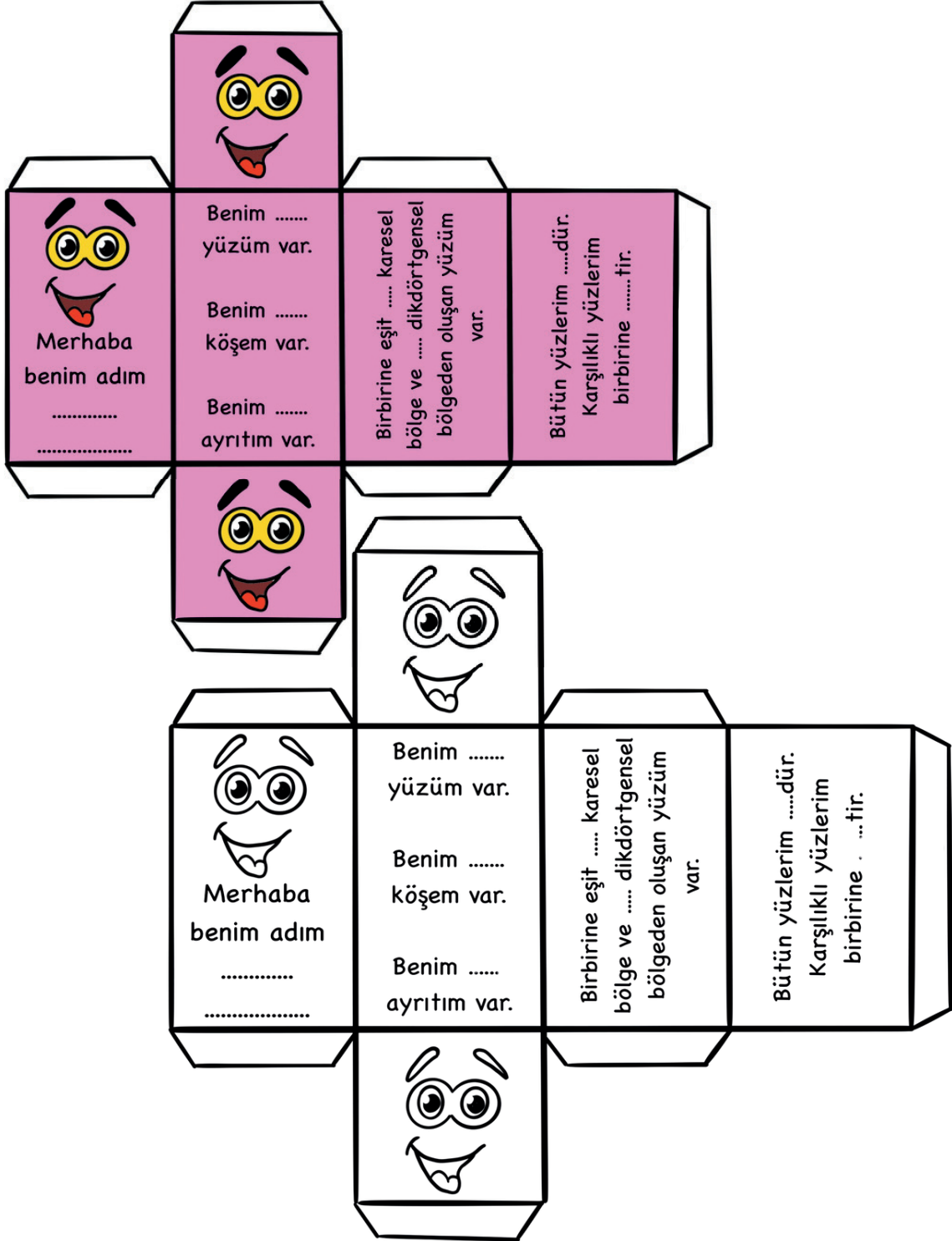
Etkinlik

Aşağıda açınımları verilmiş geometrik cisimlerin adını ve özelliklerini yazalım. Kesip, kulaklarından yapıştıralım.



Etkinlik

Aşağıda açınımları verilmiş geometrik cisimlerin adını ve özelliklerini yazalım. Kesip, kulaklarından yapıştıralım.



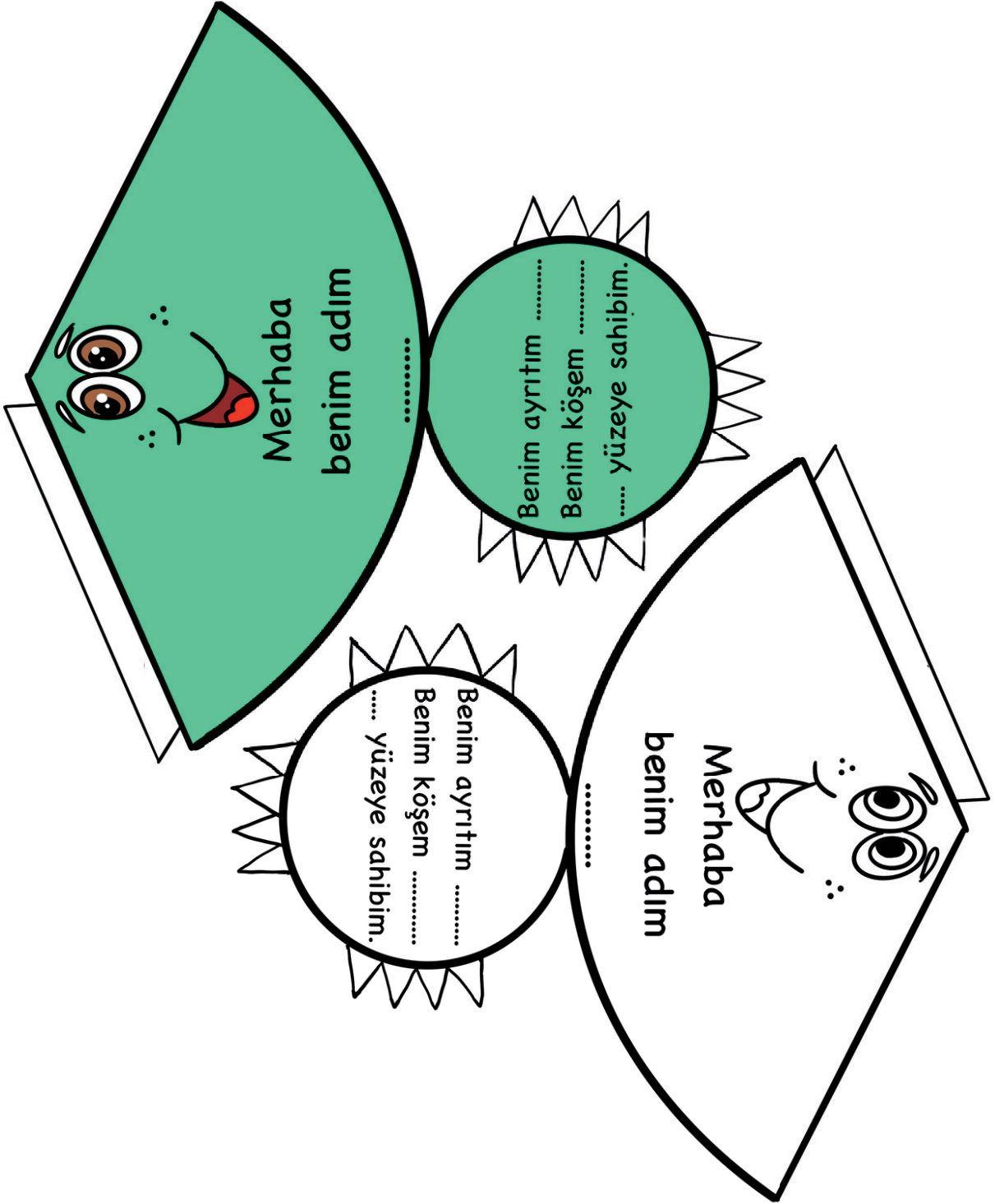
Etkinlik

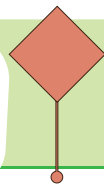
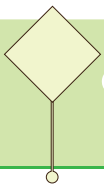
Aşağıda açınımları verilmiş geometrik cisimlerin adını ve özelliklerini yazalım. Kesip, kulaklarından yapıştıralım.



Etkinlik

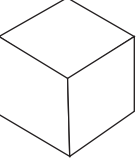
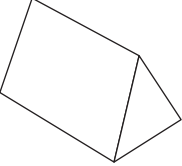
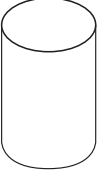


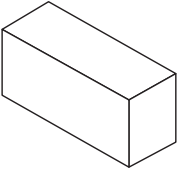

Aşağıda açınımları verilmiş geometrik cisimlerin adını ve özelliklerini yazalım. Kesip, kulaklarından yapıştıralım.





Etkinlik

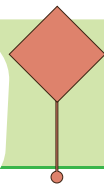
Aşağıdaki tabloyu tamamlayalım.

Cisim	Adı	Köşe Sayısı	Ayrit Sayısı	Yüz Sayısı	Açınımı
					
					
					
					
					
					
					

Etkinlik

Aşağıdaki ifadelerden doğru olanların başına D harfi, yanlış olanların başına Y harfi koyalım.

- ☐ Üçgen prizmanın 5 yüzü vardır.
- ☐ Koninin 1 köşesi vardır.
- ☐ Dikdörtgen prizmanın 4 tane dikdörtgensel bölgesi vardır.
- ☐ Küpün 12 köşesi vardır.
- ☐ Kürenin köşesi yoktur.
- ☐ Küpün tüm yüzleri dairesel bölgedir.
- ☐ Silindirin 3 yüzü vardır.
- ☐ Üçgen prizmanın 12 ayrıtı vardır.
- ☐ Küpün 12 ayrıtı vardır.
- ☐ Dikdörtgen prizmanın 8 ayrıtı vardır.
- ☐ Silindirin köşesi yoktur.
- ☐ Kare prizmanın karşılıklı 2 yüzü karesel bölgedir.
- ☐ Üçgen prizmanın tüm yüzleri üçgendir.
- ☐ Dikdörtgen prizmanın tüm yüzleri dikdörtgensel bölgedir.
- ☐ Kürenin 5 yüzü vardır.
- ☐ Silindirin ayrıtı yoktur.
- ☐ Koninin 1 köşesi vardır.
- ☐ Silindirin karşılıklı 2 yüzü dairesel bölgedir.
- ☐ Koninin dikdörtgensel bölgesi vardır.
- ☐ Üçgen prizmanın 3 tane dikdörtgensel bölgesi vardır.
- ☐ Üçgen prizmanın 6 köşesi vardır.



Etkinlik

Aşağıdaki cümlelerde boş bırakılan yerleri uygun ifadelerle dolduralım.

İnsan eliyle oluşturulmuş her türlü çevreye denir. Yapay çevreye örnek olarak parklar,,, ve verilebilir.

Çevremizde bulunan ve insan eli değmemiş ortamlara ise denir. Doğal çevreye örnek olarak dağlar,, ve verilebilir.

doğal çevre

yollar

denizler

parklar

çöller

binalar

yapay çevre

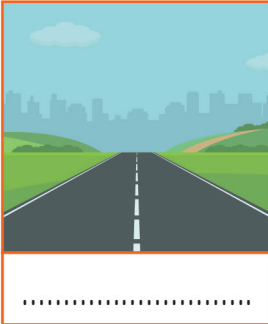
havuzlar

adalar


köprüler

Etkinlik


Aşağıda verilen görsellerden yapay çevre olanların altına "yapay çevre", doğal çevre olanların altına "doğal çevre" yazalım.




.....



.....



.....




.....




.....



.....



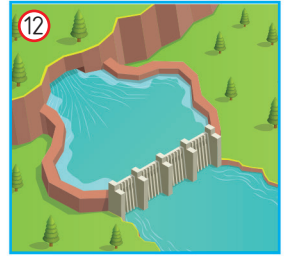


.....



.....

Etkinlik

Aşağıda verilen görselleri yapay çevre ve doğal çevre olarak sınıflandırıp ait oldukları yere yazalım.



YAPAY ÇEVRE

.....

.....

.....

.....

.....

.....

DOĞAL ÇEVRE

.....

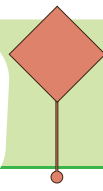
.....

.....

.....


.....

.....



Etkinlik

Aşağıda harfleri karışık olarak verilen kelimeleri, ipuçlarından faydalanarak bulup bulmacadaki yerlerine yerleştirelim.

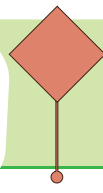
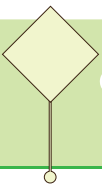


SOLDAN SAĞA

1. lyo - yapay çevre
4. usklam - doğal çevre
7. sopneta - yapay çevre
8. ihavanamıl - yapay çevre
10. pükör - yapay çevre
13. iznde - doğal çevre

YUKARIDAN AŞAĞIYA

2. oklu - yapay çevre
3. eşalle - doğal çevre
5. rapulank - yapay çevre
6. moran - doğal çevre
8. vzahu - yapay çevre
9. lütne - yapay çevre
11. prak - yapay çevre
12. daa - doğal çevre



Etkinlik

Aşağıda harfleri karışık olarak verilen kelimeleri bulup şifreyi çözelim.

RAJBA

		9		
--	--	---	--	--

LGTEÖ

			10	
--	--	--	----	--

AURKNIOPY

	5		
--	---	--	--

3				
---	--	--	--	--

FNIS

--	--	--	--	--

STAEANP

						7
--	--	--	--	--	--	---

AÇAVĞE

2			6		8
---	--	--	---	--	---

PÜKÖR

--	--	--	--	--

NRGRETIA

--	--	--	--	--	--	--	--

KNTÜAEÜPH

--	--	--	--	--	--	--	--

HUVZA

--	--	--	--	--

LOOTOY

			1		
--	--	--	---	--	--

İÇEAHBSHYAAVNTA

						4							
--	--	--	--	--	--	---	--	--	--	--	--	--	--

1	2	3	4	5
---	---	---	---	---

6	7	8	9	10
---	---	---	---	----



Etkinlik

Aşağıda harfleri karışık olarak verilen kelimeleri bulup şifreyi çözelim.

RĞMAAA

		3			
--	--	---	--	--	--

LULABZUR

--	--	--	--	--	--	--	--

MAORN

			4	
--	--	--	---	--

RAÇYI

6				9
---	--	--	--	---

GLÖ

--	--	--

AAD

	1	
--	---	--

KTIPAA

--	--	--	--	--	--

ALSMKU

					5
--	--	--	--	--	---

ŞAELEL

					7
--	--	--	--	--	---

NİHER

	10			
--	----	--	--	--

VAO

2	8	
---	---	--

YAUNSOK

--	--	--	--	--	--



1	2	3	4	5
---	---	---	---	---

6	7	8	9	10
---	---	---	---	----

Etkinlik

Ařađıda verilen grsellerden tarihi yapı olanların kutusunu kırmızıya, dođal gzellik olanların kutusunu yeřile boyayalım.



Etkinlik

Aşağıda verilen tarihi ve turistik yerlerin isimlerini bulup yazalım.

























Efes Antik Kent

Ölüdeniz

Nemrut Dağı

Salda Gölü

Uzungöl

Göbeklitepe

Düden Şelalesi

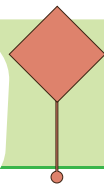
Ayasofya Camii

Peri Bacaları

Sümela Manastırı

Kız Kulesi

Pokut Yaylası



Tarihi Doğal Ve Turistik Yerlerimiz

3.
SINIF

Etkinlik

Aşağıda ülkemizdeki bazı tarihi ve turistik yerler verilmiştir. Bu tarihi ve turistik yerlerin bulundukları şehirleri bulalım, sırasıyla bulmacaya örnekteki gibi yerleştirelim.

1. Pamukkale Travertenleri
2. Sümela Manastırı
3. Pokut Yaylası
4. Salda Gölü
5. Ölüdeniz
6. İshakpaşa Sarayı
7. Tortum Şelalesi
8. Akdamar Adası
9. Göbeklitepe
10. Kazdağları
11. Efes Antik Kent
12. Harput Kalesi
13. Ani Harabeleri
14. Kapadokya
15. Aspendos Antik Tiyatro
16. Yerebatan Sarnıcı
17. Cennet-Cehennem Mağaraları
18. Eğirdir Gölü
19. Damlatış Mağarası
20. Tarihi Taşköprü



s	N	A	ğ	z	m	i	t	a	n	e	v	ş	R	i	İ	s	e	h	i		
e	s	i	l	a	z	b	u	l	t	a	l	m	v	r	A	A	n	d	u	r	
r	E	B	a	s	p	a	r	ı	r	t	a	K	a	r	l	y	a	a	n		
M	e	A	d	a	n	a	ğ	l	a	B	u	r	M	u	ı	ğ	z	o	n		
n	t	a	E	r	z	y	a	ş	a	n	l	ı	u	i	T	D	e	n	r	a	b
n	I	z	e	r	f	a	i	z	l	r	s	i	l	ı	k	r	İ	u	r	u	

D	e	n	ı	z	l	i	T														

Hayat Bilgisi

1. "Yazılışları farklı, anlamları aynı olan kelimelere eş anlamlı kelimeler denir."

Aşağıdaki cümlelerin hangisinde eş anlamlı kelimeler bir arada kullanılmıştır?

- A) Senden haber bekliyordum ama sesin çıkmadı.
- B) Konut sözcüğünün eş anlamlısı ev kelimesidir.
- C) Bulutsuz günleri çok severim.

2. Aşağıdaki tabloda verilen sözcüklerin eş anlamlılarını yazalım.

asır
.....	özen
öneri
uyarı
.....	hasret

3. Aşağıdaki deyimlerden hangisi “çok öfkelenmek” anlamına gelir?

- A) Eli ayağına dolanmak
B) Gözü kararmak
C) Kulağı kırışte olmak

- 4. İçinde "göz" kelimesi geçen üç deyim, "burun" kelimesi geçen üç deyim yazalım.**





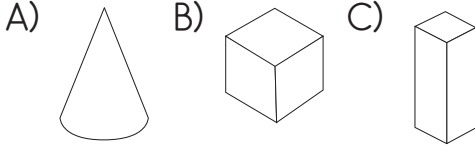
- 5. Aşağıda yazımı yanlış verilmiş sözcüklerin doğrularını yazalım.**

şarız	
kipri	
klavuz	
dinazor	
kavonoz	


6. "Bugün hava çok yağmurlu" cümlesini anlatabilecek bir görsel çizelim.



7. Aşağıdaki geometrik cisimlerden hangisinin köşesi yoktur?



8. Aşağıda verilen geometrik cisimlerden 8 köşesi, 12 ayrıtı ve 6 yüzü olanları işaretleyelim.




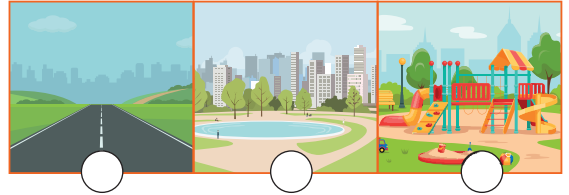
9. Aşağıda verilen bilgilerden doğru olanların başına D harfi, yanlış olanların başına Y harfi koyalım.

- ☐ Üçgen prizmanın 6 köşesi vardır.
- ☐ Kare prizmanın 8 ayrıtı vardır.
- ☐ Koninin köşesi yoktur.
- ☐ Silindirin iki tane dairesel yüzü vardır.
- ☐ Üçgen prizmanın tüm yüzleri üçgensel bölgedir.

10. Aşağıda verilen tabloyu uygun ifadelerle dolduralım.

Cisim	Köşe Sayısı	Ayrıt Sayısı	Yüz Sayısı
Küp			
Kare Prizma			
Dikdörtgen Prizma			
Üçgen Prizma			
Koni			
Silindir			
Küre			

11. Aşağıdaki görsellerden hangileri doğal çevredir? İşaretleyelim.



12. Aşağıda verilen görsellerden yapay çevre olanları işaretleyelim.



13. Aşağıdaki ifadelerden doğru olanların başına D harfi, yanlış olanların başına Y harfi koyalım.

- ☐ İnsan eli değmemiş çevrelere doğal çevre denir.
- ☐ İnsanların tasarladığı çevrelere yapay çevre denir.
- ☐ Gölet, yapay çevredir.
- ☐ Buzullar, yapay çevredir.
- ☐ Tüm binalar, yapay çevreye örnektir.
- ☐ Sahiller ve kumsallar, doğal çevreye birer örnektir.
- ☐ Otoyollar, doğal çevredir.
- ☐ Keçi patikaları doğal çevreye örnektir.

14. Aşağıdaki görselleri inceleyelim. Tarihi yer olanlara tarihi, doğal turistik yer olanlara doğal yazalım.



15. Aşağıda verilen tarihi ve turistik yerlerin hangi şehrimizde olduğunu yazalım.



1. "Yazılışları farklı, anlamları aynı olan kelimelere eş anlamlı kelimeler denir."

Aşağıdaki cümlelerin hangisinde eş anlamlı kelimeler bir arada kullanılmıştır?

- A) Senden haber bekliyordum ama sesin çıkmadı.
☒ Konut sözcüğünün eş anlamlısı ev kelimesidir.
 C) Bulutsuz günleri çok severim.

2. Aşağıdaki tabloda verilen sözcüklerin eş anlamlılarını yazalım.

asır	yüzyıl
itina	özen
öneri	teklif
uyarı	ikaz
özlem	hasret

3. Aşağıdaki deyimlerden hangisi "çok öfkelenmek" anlamına gelir?

- A) Eli ayağına dolanmak
☒ Gözü kararmak
 C) Kulağı kırıste olmak

4. İçinde "göz" kelimesi geçen üç deyim, "burun" kelimesi geçen üç deyim yazalım.



gözü kararmak
 göz hapsine almak
 gözü gibi bakmak



burnunun dikine gitmek
 burnunun direği sızlamak
 burnu büyük olmak

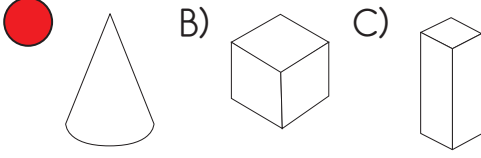
5. Aşağıda yazımı yanlış verilmiş sözcüklerin doğrularını yazalım.

şarz	Şarj
kipri	kirpi
klavuz	kılavuz
dinazor	dinozor
kavonoz	kavanoz

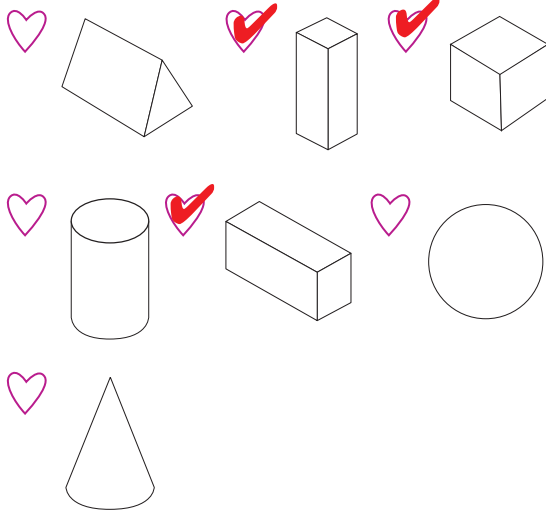
6. "Bugün hava çok yağmurlu" cümlesini anlatabilecek bir görsel çizelim.

ÖĞRENCİ YORUMUNA
 BIRAKILMIŞTIR.

7. Aşağıdaki geometrik cisimlerden hangisinin köşesi yoktur?



8. Aşağıda verilen geometrik cisimlerden 8 köşesi, 12 ayrıtı ve 6 yüzü olanları işaretleyelim.



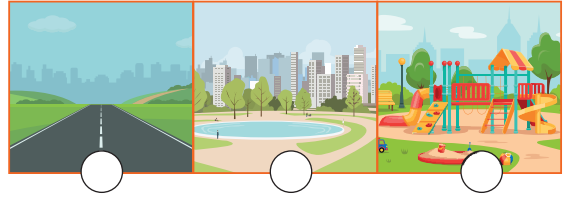
9. Aşağıda verilen bilgilerden doğru olanların başına D harfi, yanlış olanların başına Y harfi koyalım.

- ☒ Üçgen prizmanın 6 köşesi vardır.
- ☐ Kare prizmanın 8 ayrıtı vardır.
- ☐ Koninin köşesi yoktur.
- ☐ Silindirin iki tane dairesel yüzü vardır.
- ☐ Üçgen prizmanın tüm yüzleri üçgensel bölgedir.


10. Aşağıda verilen tabloyu uygun ifadelerle dolduralım.

Cisim	Köşe Sayısı	Ayrıtı Sayısı	Yüz Sayısı
Küp	8	12	6
Kare Prizma	8	12	6
Dikdörtgen Prizma	8	12	6
Üçgen Prizma	6	9	5
Koni	0	0	2
Silindir	0	0	3
Küre	0	0	1

11. Aşağıdaki görsellerden hangileri doğal çevredir? İşaretleyelim.



12. Aşağıda verilen görsellerden yapay çevre olanları işaretleyelim.



13. Aşağıdaki ifadelerden doğru olanların başına D harfi, yanlış olanların başına Y harfi koyalım.

- (D) İnsan eli değmemiş çevrelere doğal çevre denir.
- (D) İnsanların tasarladığı çevrelere yapay çevre denir.
- (D) Gölet, yapay çevredir.
- (Y) Buzullar, yapay çevredir.
- (D) Tüm binalar, yapay çevreye örnektir.
- (D) Sahiller ve kumsallar, doğal çevreye birer örnektir.
- (Y) Otoyollar, doğal çevredir.
- (D) Keçi patikaları doğal çevreye örnektir.

14. Aşağıdaki görselleri inceleyelim. Tarihi yer olanlara tarihi, doğal turistik yer olanlara doğal yazalım.



15. Aşağıda verilen tarihi ve turistik yerlerin hangi şehrimizde olduğunu yazalım.



TRANSPORTATION

Fill in the blanks with suitable words. Fill in the transportation list. (Boşlukları uygun kelimelerle doldurunuz. Ulaşım araçları listesini doldurunuz)

Train

Plane

Helicopter

Ship

Car

Bus

Bicycle

Motorcycle

Police Car
















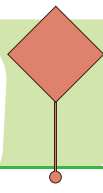
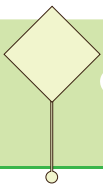




On The Water

On Land

In The Sky



1.



Where is the ship?

Görsele göre sorunun doğru cevabı aşağıdaki seçeneklerden hangisinde doğru verilmiştir?

- A) It is on the road.
- B) It is at the road.
- C) It is on the sea.

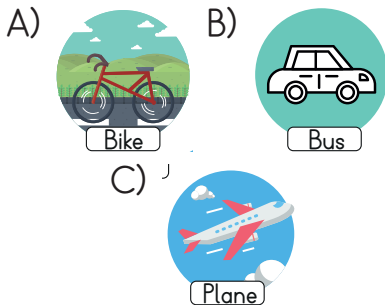
2.



Aşağıdakilerden hangisi yukarıda verilen sorunun cevabı olamaz?

- A) It is on the road.
- B) It is on the sea.
- C) It is at the bus stop.

3. Aşağıdaki seçeneklerde verilen görsel ve açıklamaları eşleştirmelerinden hangisi yanlıştır?



4.

1 Where is the ship?

2 Where is the bus?

3 Where is the bike?

A It's at the bus stop.

B It's on the road.

C It's on the sea.

Yukarıdaki soruların ve cevapların doğru eşleştirildiği seçenek aşağıdakilerden hangisidir?

- A) 1 - C B) 1 - B C) 1 - B
- 2 - A 2 - A 2 - C
- 3 - B 3 - C 3 - A

5.



What is this?










Yukarıdaki görsele uygun olarak verilen cevap aşağıdakilerden hangisidir?

- A) It is a ship.
- B) It is a plane.
- C) It is a helicopter.

TRANSPORTATION

Fill in the blanks with suitable words. Fill in the transportation list. (Boşlukları uygun kelimelerle doldurunuz. Ulaşım araçları listesini doldurunuz)

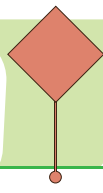
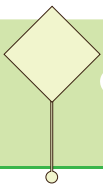
Train	Plane	Helicopter	Ship	Car
Bus	Bicycle	Motorcycle	Police Car	

		
Plane	Helicopter	Car
		
Police Car	Bus	Bicycle
		
Train	Motorcycle	Ship

On The Water
Ship

On Land
Bus
Motorcycle
Police Car
Bicycle
Train

In The Sky
Plane
Helicopter



1.



Where is the ship?

Görsele göre sorunun doğru cevabı aşağıdaki seçeneklerden hangisinde doğru verilmiştir?

A) It is on the road.

B) It is at the road.

☒ C) It is on the sea.

2.



Aşağıdakilerden hangisi yukarıda verilen sorunun cevabı olamaz?

A) It is on the road.

☒ B) It is on the sea.

C) It is at the bus stop.

3. Aşağıdaki seçeneklerde verilen görsel ve açıklamaları eşleştirmelerinden hangisi yanlıştır?

A)



Bike



Bus

C)



Plane

4.

1 Where is the ship?

2 Where is the bus?

3 Where is the bike?

A It's at the bus stop.

B It's on the road.

C It's on the sea.

Yukarıdaki soruların ve cevapların doğru eşleştirildiği seçenek aşağıdakilerden hangisidir?

☒ 1 - C B) 1 - B C) 1 - B
2 - A 2 - A 2 - C
3 - B 3 - C 3 - A

5.



What is this?

Yukarıdaki görsele uygun olarak verilen cevap aşağıdakilerden hangisidir?

A) It is a ship.

☒ B) It is a plane.

C) It is a helicopter.