

A vibrant illustration of two young children, a boy and a girl, sitting cross-legged on a light blue background, engrossed in reading books. The boy, on the left, has brown hair and is wearing a blue shirt and orange shoes. The girl, on the right, has blonde hair and is wearing a yellow shirt and blue pants. They are surrounded by stacks of colorful books. Above them, a large, stylized purple diamond shape frames a collection of educational icons. These icons include a sun, a rainbow, a unicorn, a crown, a rocket, a heart, a star, a letter 'C', a cube, a crescent moon, a wand, a plane, and mathematical symbols like '+1=2' and 'ABC'. The overall theme is early childhood education.

TÜRKÇE

**Okuduğunu Anlama
Özel İsimler
Yazım Yanlışı
Hikaye Yazma
Cümle Bilgisi
Soru Cümlesi**

MATEMATİK

Problemler

Okuduğunu Anlama
Özel İsimler
Yazım Yanlışı
Hikaye Yazma
Cümle Bilgisi
Soru Cümlesi
Defter Çalışması

Problemler Zamanı Ölçme

Yaşadığımız Yer

Çevremizdeki Tarihi ve Turistik Yerler

27. HAFTA



Dostluk Ormanı

İçinde barınan tüm hayvanların mutlu ve huzurlu yaşadığı bir orman varmış. Bu ormanın adı "Dostluk Ormanı"ymış. Bu ormanda yaşayan hayvanlar birbirleri iyi geçinir, birbirlerine yardım edermiş. Huzur bu ormanın en değerli hazinesiymiş. Birgün bu ormana daha önce hiç görmedikleri ve ismini bile bilmedikleri bir hayvan gelmiş. Yabancı olan hayvan, diğer hayvanları gördüğü gibi kaçıyor ve kimse ile konuşmuyormuş. Dostluk ormanında bu yabancı hayvan merak konusu olmuş.

Diğer hayvanlar toplanmış, ormanın en yaşlı en görmüş geçirmiş bilge kaplumbağaya gitmişler. Durumu ona anlatmışlar. Bilge kaplumbağa anlatılan tasvirlerden hayvanın ne olduğunu bilememiş. Kendi görmek için hayvanı aramaya koyulmuş. Şansına yabancı hayvan ile karşılaşmış. Zavallı hayvancık perişan haldeymiş. Yorgun ve bitkin bir şekilde kaçmaya çalışmış ama yerinden bile kalkamamış.

Bilge:

-Sakin ol, sana zarar vermeyeceğim. Benden korkmana gerek yok. Ben sana yardım etmek istiyorum, demiş.

Yabancı hayvan korkarak:

-Benden ne istiyorsun? Demiş.

-Burası Dostluk Ormanı. Burada tüm hayvanlar mutlu ve huzurlu yaşar. Seni tanımadıkları için hayvanlar tedirgin, demiş kaplumbağa.

Ben bir porsuğum. Annem ve kardeşimle ben de mutlu yaşıyordum. Sayımız gittikçe azalıyor. Neslimiz tükenebilir. Bizi avlamak yasak ama bazı insanlar kurallara uymuyor. Avcılardan kaçarken onları kaybettim. Kendimi bu ormanda buldum. Kaçmaktan çok yoruldum.

O sırada diğer hayvanlar da gizlendikleri yerden üzülerek çıktılar. Porsuk kaçmak istedi ancak kaçacak hali yoktu. "Korkma!"- dedi hayvanlar.

Bilge kaplumbağa, porsuğa yardım edeceklerini söyledi. Porsuğun yorgun bedenine tatlı bir gülümseme geldi. Dostluk Ormanı yeni arkadaşlarını çok sevdi. Porsuk da diğer hayvanların desteği ve sevgisiyle iyileşti. Kendini çok şanslı hissetti.



Omlet

Merhaba ben Peri Türkmen. Ailemle ve sevimli köpeğimiz Gofret ile Ankara'da yaşıyorum. On katlı bir apartmanın 3. katındaki dairede oturuyoruz. Odam büyük değil ama benim rahat edeceğim şekilde düzenlendi. Odamda oyunlar oynayarak ve kitap okuyarak zaman geçirimeyi seviyorum.

Pek çok şeyi seviyorum ancak sadece sabahları sevmiyorum. Sabahları çok erken kalkıyoruz. Erken kalkmak benim için çok zor oluyor. Geçen gün yaşadığım olayı size anlatayım.

O sabah annem beni kahvaltıya çağırdı. Çok uykum vardı ama kalkıp elimi yüzümü yıkadım. Kıyafetimi giyip, saçımı taradım. Mutfaka gittiğimde masa çoktan hazırlanmıştı. Annem benim için peynirli omlet yapmıştı. Omleti yemeyi hiç sevmiyorum..

Omleti bir türlü yiyemedim. Domatesi yedim, portakal suyunu içtim. Ama omleti yemek istemedim. Annem mutfaktan çıktığında omleti açık pencereden hızlıca dışarı fırlattım. Annem geri geldiğinde omleti bitirdiğimi düşünüp çok mutlu oldu.

O sırada kapı çaldı. Annem kapıyı açtığında başında omletle kapıcımız vardı. Annem herşeyi anladı ve kapıcı amcadan özür diledi. Bana da ceza verdi. O günden sonra hep omlet yedim.



Aşağıdaki soruları “Omlet” metnine göre cevaplandıralım.

1- Peri nerede ve kimlerle yaşıyor?

2- Peri odasında nasıl vakit geçirmeyi seviyor?

3- Peri sabahları neden sevmiyor?

4- Peri kahvaltıda neyi yemek istemiyor?

5- Peri sevmediği yiyeceği ne yapıyor?

6- Kapı çaldığında kim, nasıl gelmiş?

7- Metinde geçen özel kelimeleri aşağıya yazar mısın?

•

•

•

8- Sizce kahvaltı yapmak neden önemlidir? Yazalım.

Zürafa

Zürafa, uzun boyu ile dünyanın en büyük canlılarından biridir. Boyları beş metreye kadar uzayabilmektedir. En çok Afrika kıtasında bulunur. İki adet boynuzu ve benek benek tüyleri vardır. Ağaç yaprakları yiyerek beslenirler. Zürafaların ilginç bir özelliği de çok az uyumalarıdır. Hatta bazen ayakta bile uyuyabilirler.



Sorular

1. Zürafanın boyu nasıldır?

2. Zürafalar ne yer?

3. Zürafanın tüyleri nasıldır?

4. Zürafaların boyları kaç metreye kadar uzar?

5. Zürafanın kaç boynuzu vardır?

6. Zürafalar hangi kıtada bulunur?

7. Metnin başlığında kaç harf vardır?

A) 5 B) 6 C) 7

8. Zürafalar ne yerler?

A) Et, balık B) Saman

C) Ağaç yaprağı

Aşağıdaki cümlelere yeni sözcükler ekleyelim ve yeni cümleler yazalım.



Aldı.

.....

.....

.....

.....



Geldi.

.....

.....

.....

.....



Yapacağız.

.....

.....

.....

.....



Aşağıda verilen sözcüklerle anlamlı cümleler yazalım.

dersini- çok - severim - matematik

Almanya'ya- haftaya - gideceğiz - uçakla

uyumalıyız- okulda - kurallara -hepimiz

çilek- elma - mandalina - pazardan-aldık

gri- kedim - benim - bir-var

toplarım- her - yatağımı - sabah

kardeşimle- dün - gittik - sinemaya

gelecekler- köyden - dedemler - yarın

gösteri- bayram - hazırlıyoruz - için

eşit- haklara - çocuklar - sahip- tüm



Aşağıdaki görsellerin altına isimlerini yazalım



.....

Yukarıdaki kavramları kullanarak bir hikaye yazalım. Unutma başlığı en son yazmalıyız.

.....

.....

.....

.....

.....

.....

.....

.....

.....

.....

.....

.....

.....

.....

.....

.....

.....

Aşağıdaki tabloları başlıklara dikkat ederek dolduralım.

İNSAN ADLARI

ŞEHİR ADLARI

ÜLKE ADLARI



HAYVANLARA VERİLEN ADLAR



KİTAP - DERGİ ADLARI

Aşağıdaki cümlelerde yazım yanlışı olan kelimeleri bulalım. Düzelterek tekrar yazalım.

1- Annem arkadaşım gökhanı çağırdı.

.....

2- Yarın istanbula gezi düzenliyoruz.

.....

3- dayımlar bayramoğlu mahallesinde oturuyor.

.....

4- ceren kuşunun adını maviş koymuş.

.....

5- ben büyük tuna ilkokulunda okuyorum.

.....

6- En sevdiğim masal kahramanı keloğlandır.

.....

7- Buse kitabını alide unutmuş.

.....

8- Türkiyenin en büyük gölü Van gölüdür.

.....

9- annem çok güzel yemekler hazırlar.

.....

Verilen cümleleri okuyalım soru cümlesi olanların karşısına çarpı atalım.

Bugün yağmur yağdı	
Sen de bizimle oynar mısın	
Kardeşinin adı ne	
Sarı rengi sever mi bilmiyorum	
Çocuklar parka mı gittiler	
Sen de çocuklarla gel	
Çok güzel resim yapıyorsun	
Nasıl güzel bir kitap bu severek okudum	
Niçin sustuğunu söylemedi	
Dün akşamki film nasıldı	
Kime sorsan adresi gösterir	
Bu kalem senin mi	
Saat kaçta geleceksiniz	
Bu problemi nasıl çözdün	
Nasıl biri olduğunu bilmiyoruz	
Güzel bir haftasonu diliyorum	
Geçen akşam nereye gittiniz	
Kim uçağa binmiş	
Ne çok güldük filme, gülmekten karnım ağrıdı	

Çocuk Olsam

Rüzgarların buyruğunda
Çocuk olsam, çocuk olsam!
Uçurtmanın kuyruğunda
Çocuk olsam, çocuk olsam!

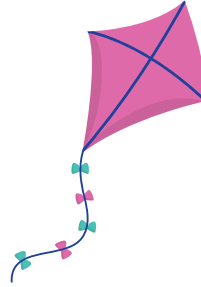
Kararırken rengi suyun,
Akşam olur bitmez oyun.
Yelesinde yağız tayın
Çocuk olsam, çocuk olsam!

Başucumda annem, babam,
Yıldızlar yakın akrabam.
Tatlı düşlerde her akşam
Çocuk olsam, çocuk olsam.

Sarı ayva, alca kiraz,
Bekle bahar, bekle biraz.
Elde çiçek, gönülde naz,
Çocuk olsam, çocuk olsam

Bestami YAZGAN

Şiiri en az 5 kez okuyalım.
En güzel yazımızla
defterimize yazalım.



Aşağıdaki soruları. "Çocuk Olsam" şiirine göre cevaplayalım.

Sorular

1. Şair ne olmak istiyormuş?

.....

2. Akşam olduğunda bitmeyen neymiş?

.....

3. Şiirde hangi meyvelerin adı geçiyor?

.....

4. Şair neyi yakın akrabası olarak görüyor?

.....

Şair nedir?

Şiirdeki her satıra ne denir?

Okuduğunuz şiirin şairi kimdir?

Şiirde kaç dize var?

Bilmeceleri okuyalım. Bilmecenin cevabı ile verilen görselleri eşleştirelim.

Dize kadar derin kuyu, ne çamuru
içerir ne suyu



Ne ağzı var, ne dili konuşur insan
gibi.




Dal üstünde kara kız.



Ben giderim o gider
Göğsümde tık tık eder.




Kıvrımlı kaşık duvara yapışık



Salkım da tane tane tadıda pek şa-
hane.



Benim adım iki hece çalışırım gün-
düz gece.



25 tane kalemin 5 tanesi kırıldı, 8 tanesi kayboldu. Geriye kaç tane kalem kaldı?

Efe bir okuma metnini önce 7 dakika, sonra 5 dakikada okuyor. Efe toplam kaç dakika okuma yapmıştır?

Ezgi 4 yıl önce 5 yaşındaydı. Ezgi 6 yıl sonra kaç yaşında olur?

Şule ile Nil'in toplam 21 tane hediye kartı var. Nil'in kart sayısı 9 olduğuna göre Şule'nin kart sayısı kaçtır?

Ece'nin evi ile market arası mesafe 10 dakikadır. Ece sabah markete gidip eve geldiğinde kaç dakika yol yürümüştür?

Benim yaşımla kardeşimin yaşının toplamı 16'dır. Kardeşim 5 yaşında olduğuna göre benim yaşımla kaçtır?

Sare 17 cevizin 5'ni yedi, 6 tanesini kardeşine verdi. Sare'de kaç ceviz kalır?

3 yıl önce 7 yaşında olan Can şimdi kaç yaşındadır?


Semih önce 5 sayfa, sonra 8 sayfa kitap okuyor. Geriye 6 sayfa kalıyor. Bu kitap kaç sayfadır?

Şule 13'ten önce gelen sayı ile 6'dan sonra gelen sayıyı topluyor. Şule sonucu kaç bulur?

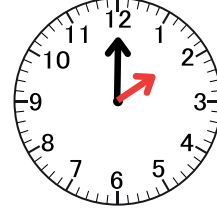
Benim yaşımla abimin yaşının toplamı 18'dir. Ben 7 yaşında olduğuma göre abimin yaşı kaçtır?

4'ten ileriye doğru 2'şer saydığında söylenen 4. sayının 7 fazlası kaçtır?

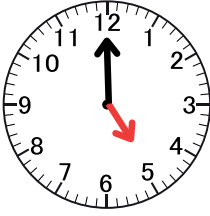
Analog saatler ile dijital saatleri eşleştirelim.



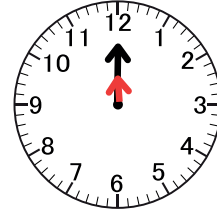
11:00




01:00



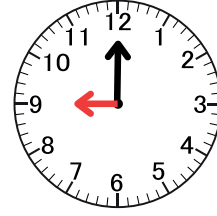
09:00



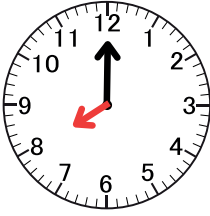
03:00



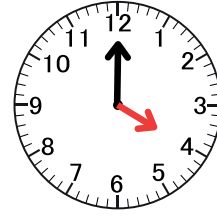
12:00



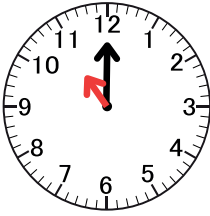
06:00



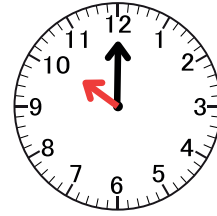
08:00



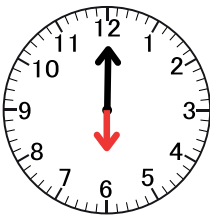
10:00



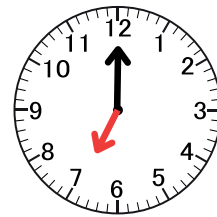
07:00



02:00

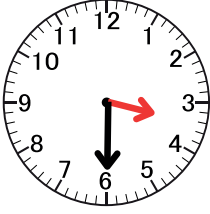


04:00




05:00

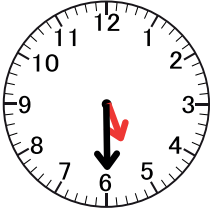
Analog saatler ile dijital saatleri eşleştirelim.




08:30



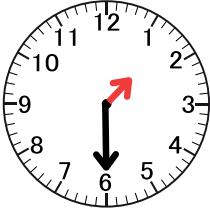
05:30



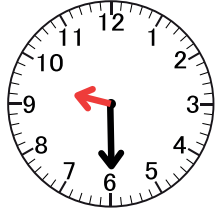
03:30



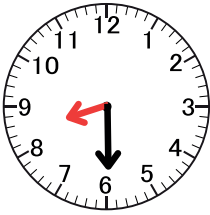
09:30




12:30



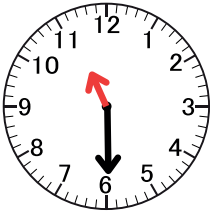
01:30



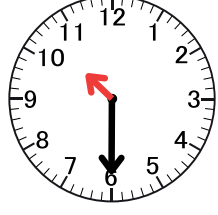
06:30



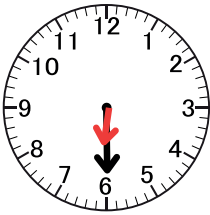
04:30



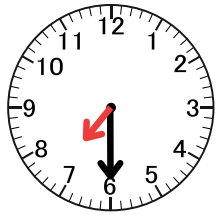
10:30



02:30

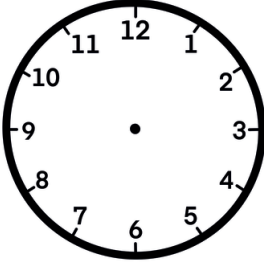


07:30

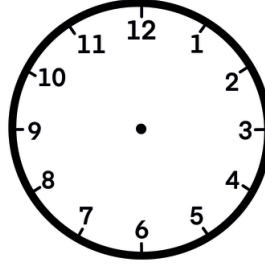


11:30

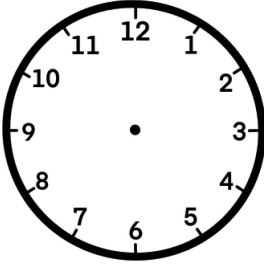
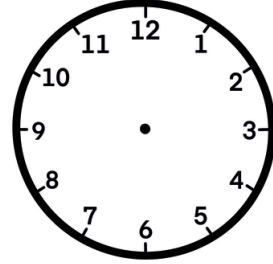
Aşağıda okunuşları verilen saatlerin akrep ve yelkovanını çizelim.



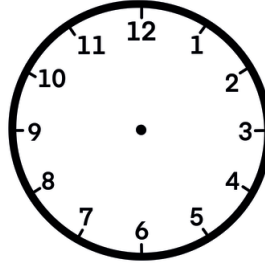
saat on



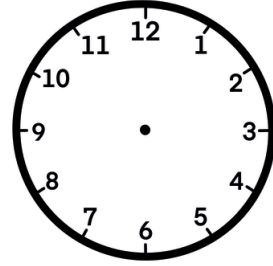
saat beş



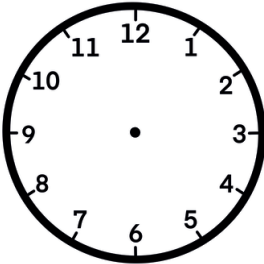
saat sekiz



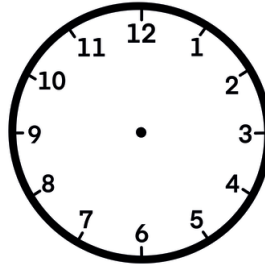
saat altı



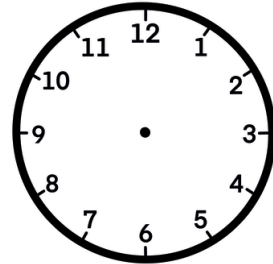
saat dört buçuk



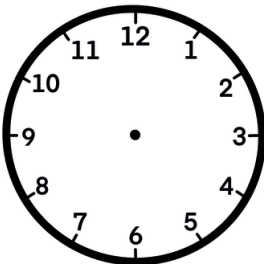
saat iki buçuk



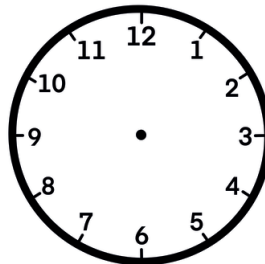
saat on bir buçuk



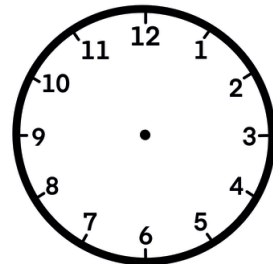
saat dokuz buçuk



saat bir buçuk

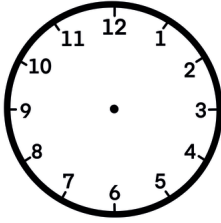


saat on bir

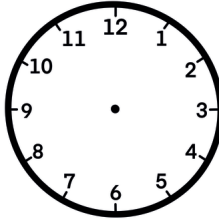


saat üç buçuk

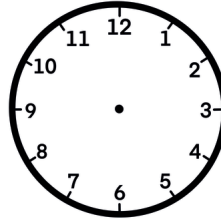
Aşağıda okunuşları verilen saatlerin akrep ve yelkovanını çizelim.



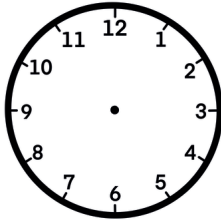
saat on iki



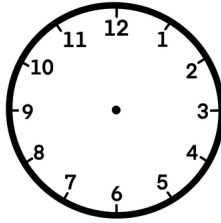
saat beş



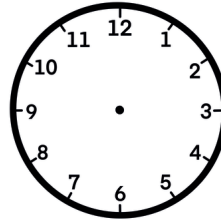
saat beş buçuk



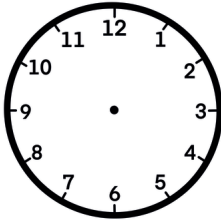
saat iki



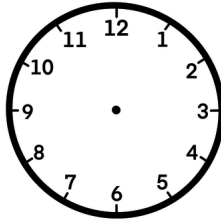
saat iki buçuk



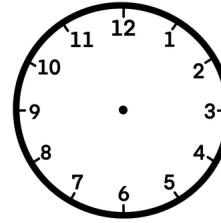
saat altı



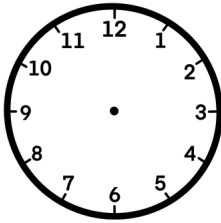
saat yedi buçuk



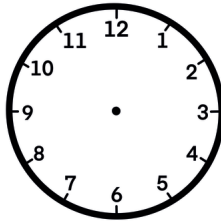
saat dört buçuk



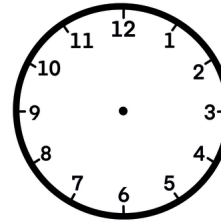
saat dokuz



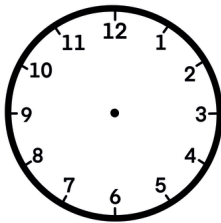
saat altı buçuk



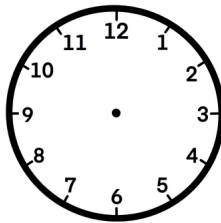
saat sekiz buçuk



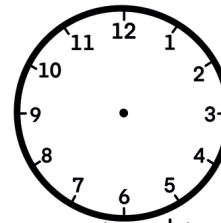
saat sekiz



saat üç buçuk

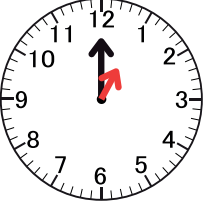
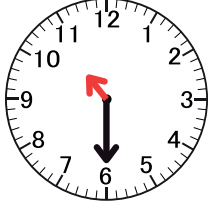

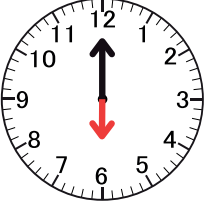
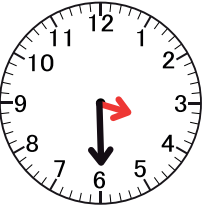
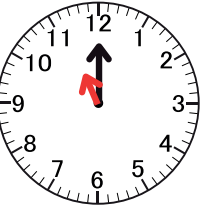
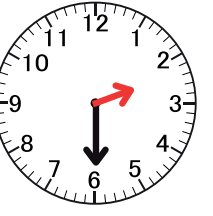
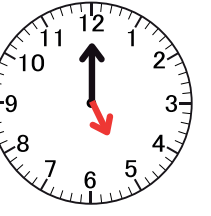
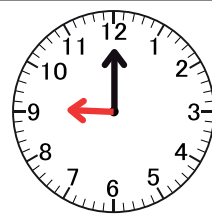
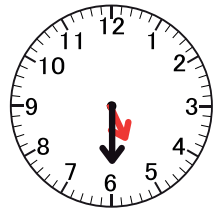
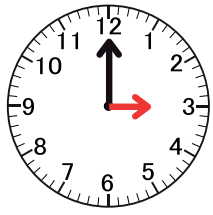
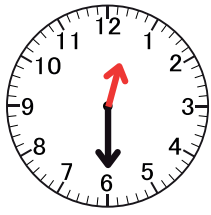


saat on



saat on bir

Aşağıdaki saatlerin doğru olduğu kutucuğu boyayalım.

			
12:00	10:30	12:00	06:00
01:00	06:00	08:30	06:30
12:30	10:00	08:00	12:30
			
03:00	12:00	06:00	05:00
04:30	11:00	02:30	12:00
03:30	10:00	03:30	04:30
			
12:00	05:30	12:00	01:00
09:00	06:30	03:00	01:30
09:30	04:30	03:30	12:30

Aşağıdaki etkinliği keselim. Defterimize yapıştıralım ve yaşadığımız yerin bilgilerini yazalım.


Arkasına yapıştırıcı sürelim.

YAŞADIĞIM YER

EVİM



MAHALLEM



İLÇEM



ŞEHRİM



ÜLKEM



Aşağıdaki görsellerin altına yerleşim birimlerinin isimlerini yazalım.



Aşağıdaki cümlelerde boş bırakılan noktalı yerlere, verilen kelimelerden uygun olanı yazınız.

kaymakam

il

köylerdir

büyüktür

mahalle

vali

seksen bir

- 1- en büyük yerleşim yeridir.
- 2- İnsan sayısının en az olduğu yerler
- 3- İlçeleri yönetir.
- 4- Türkiye’de il vardır.
- 5- İlleri yöneten kişilere denir.
- 6- Mahalle ve köyleri yönetir.
- 7- ve ilçeler illere bağlıdır.

Aşağıdaki numaralandırılmış görselleri aşağıdaki kutulara numaralarını yazalım.



Manavgat Şelalesi



Galata Kulesi

Pamukkale
Travertenleri

Peri Bacaları



Kız Kulesi



Efes Harebeleri



Tuz Gölü



Salda Gölü



Sümela Manastırı

Doğal Güzellikler

Tarihi Yapılar

TILKI VE ÜZÜMLER

Bir gün karnı acıkan bir tilki ormanda yiyecek aramaya çıkmış. Az gitmiş, uz gitmiş dere tepe düz gitmiş ama hiçbir şey bulamamış. Bir çiftliğin önünden geçerken asmanın dalından sarkan iri taneli mor renkli üzümler görmüş.

– Yaşasın! Daha önce hiç bu kadar lezzetli görünen üzüm görmemiştim. demiş.

Tilki, üzümlere ulaşabilmek için tüm gücüyle zıplamış. Zıplamış zıplamasına ama tam üzümleri ağzına atacakken ıskalamış. Ne kadar zıplayıp üzümleri yemeyi denemişse de başarılı olamamış. Sonunda tilki pes edip eve gitme zamanının geldiğini anlamış. Tilki üzümleri asmada bırakıp giderken, “Bu üzümler zaten ekşiydi” demiş.

EZOP MASALLARI

İlk 4 soruyu metne göre cevaplayalım.

1. Tilki ormanda ne arıyor?

- A) oyun B) yiyecek
C) arkadaş

2. Tilki çiftliğin önünde ne görmüş?

- A) Lezzetli bir peynir
B) Bir kase sıcak çorba
C) İri taneli mor salkım üzümler

3. Kedicik ne zaman miyavlamaya başlar?

- A)  B)  C) 

4. Tilki üzümleri bırakıp giderken ne söylüyor?

- A) “Başka sefer yine denerim.”
B) “Bu üzümler zaten ekşiydi.”
C) “Birinden yardım istemeliyim.”

5. Aşağıdaki görsellerden hangisinin isminde “kap” hecesi yoktur?

- A)  B)  C) 

6. Verilen kelimelerden hangisinin ünlü harf sayısı fazladır?

- A) yarışma B) kumbara
C) adaletli

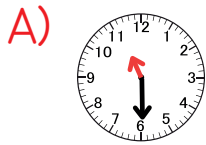
7. Aşağıdakilerden hangisinde altı çizili kelimenin yazımı yanlıştır?

- A) Selin spor yapmayı çok sever.
B) Derya tirenle köye gidecek.
C) Gözde atık kağıt ile maske yaptı.

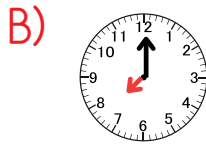
8. İki kardeşin yaşları toplamı 11'dir. 3 yıl sonra iki kardeşin yaşları toplamı kaç olur?

- A) 17 B) 15 C) 14

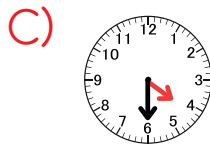
9. Aşağıdaki saatlerden hangisinin okunuşu doğrudur?



On iki buçuk



Sekiz



İki buçuk

10. Aşağıda verilen saatlerden hangisi yarım saattir?



11. İlçeyi aşağıdakişerden hangisi yönetir?

- A) Vali
B) Kaymakam
C) Muhtar

12. Ülkemizde idari yapılanma-
da en küçük yerleşim birimi
hangisidir?

- A) İl B) İlçe C) Köy

13. Hangisi tarihi bir yapıdır?

- A) Galata Kulesi
B) Ölüdeniz
C) Kelebekler Vadisi

TILKI VE ÜZÜMLER

Bir gün karnı acıkan bir tilki ormanda yiyecek aramaya çıkmış. Az gitmiş, uz gitmiş dere tepe düz gitmiş ama hiçbir şey bulamamış. Bir çiftliğin önünden geçerken asmanın dalından sarkan iri taneli mor renkli üzümler görmüş.

– Yaşasın! Daha önce hiç bu kadar lezzetli görünen üzüm görmemiştim. demiş.

Tilki, üzümlere ulaşabilmek için tüm gücüyle zıplamış. Zıplamış zıplamasına ama tam üzümleri ağzına atacakken ıskalamış. Ne kadar zıplayıp üzümleri yemeyi denemişse de başarılı olamamış. Sonunda tilki pes edip eve gitme zamanının geldiğini anlamış. Tilki üzümleri asmada bırakıp giderken, “Bu üzümler zaten ekşiydi” demiş.

EZOP MASALLARI

İlk 4 soruyu metne göre cevaplayalım.

1. Tilki ormanda ne arıyor?

A) oyun ☒ yiyecek

C) arkadaş




2. Tilki çiftliğin önünde ne görmüş?

A) Lezzetli bir peynir

B) Bir kase sıcak çorba

☒ İri taneli mor salkım üzümler

3. Kedici ne zaman miyavlamaya başlar?

☒  B)  C) 

4. Tilki üzümleri bırakıp giderken ne söylüyor?

A) “Başka sefer yine denerim.”

☒ “Bu üzümler zaten ekşiydi.”

C) “Birinden yardım istemeliyim.”

5. Aşağıdaki görsellerden hangisinin isminde “kap” hecesi yoktur?

A)  B)  ☒ 

6. Verilen kelimelerden hangisinin ünlü harf sayısı fazladır?

A) yarışma B) kumbara

☒ adaletli

7. Aşağıdakilerden hangisinde altı çizili kelimenin yazımı yanlıştır?

A) Selin spor yapmayı çok sever.

☒ Derya tirenle köye gidecek.

C) Gözde atık kağıt ile maske yaptı.

8. İki kardeşin yaşları toplamı 11'dir. 3 yıl sonra iki kardeşin yaşları toplamı kaç olur?

☒ 17 B) 15 C) 14

9. Aşağıdaki saatlerden hangisinin okunuşu doğrudur?

A)



On iki buçuk



Sekiz

C)



İki buçuk

10. Aşağıda verilen saatlerden hangisi yarım saattir?



03:30

B)

11:00

C)

10:00

11. İlçeyi aşağıdakilerden hangisi yönetir?

A) Vali



Kaymakam

C) Muhtar

12. Ülkemizde idari yapılanmada en küçük yerleşim birimi hangisidir?

A) İl

B) İlçe



Köy

13. Hangisi tarihi bir yapıdır?



Galata Kulesi

B) Ölüdeniz

C) Kelebekler Vadisi